

1/ ضع (ص) او (خ) امام كل عبارة:

- يرتبط التقويم الميلادي بميلاد الرسول محمد (ص) < (.....)

- اول من بدا بالتقويم الهجري كتقويم اسلامي هو عمر بن الخطاب رضي الله عنه < (.....)

- السنة الهجرية الاولى توافق 622م < (.....)

- التقويم الهجري نسبة لهجرة النبي عيسى عليه السلام < (.....)

- عيد ميلادي عبارة عن تاريخ معلمي اجتماعي < (.....)

- عيد العمال عبارة عن تاريخ معلمي عالمي < (.....)

- ينقسم التقويم التاريخي الى تقويم ميلادي و هجري < (.....)

02/ ضع كل كلمة في مكانها المناسب:

( صفر - جويلية - الهجرية - الميلادية - الميلادي - العالم - الهجري - الاسلامية - جانفي - (م) - (ه) محرم )

يستعمل جميع شعوب ..... التقويم ..... في تسجيل الاحداث المختلفة و يرمز له ب.....

بينما استعمال التقويم ..... في تسجيل الاحداث المختلفة يقتصر على الشعوب ..... فقط

و يمز له بالرمز ..... و شهور السنة ..... 12 شهرا من بينها ..... و ..... و ذو الحجة

و شهور السنة ..... 12 شهرا من بينها ..... و ..... و مارس.

03/ اجب عن الاسئلة التالية معتمدا على ما درست :

- ما هو التقويم الميلادي ؟ .....

- ما هو التقويم الهجري ؟ .....

- من هو الذي بدأ بالعمل بالتقويم الهجري ؟ و في اي سنة ميلادية ؟ .....

04/ ضع (ص) او (خ) امام كل عبارة:

- نرسم للتقويم الهجري ب (ق.م) < (.....)

- محرم هو من الاشهر الميلادية < (.....)

- بداية التقويم الهجري هي يوم هجرة الرسول (ص) (الموافقة ل 600م.) < (.....)
- يقتصر التقويم الهجري على الشعوب الاسلامية فقط في تسجيل الاحداث المختلفة. < (.....)
- يبدأ التقويم الميلادي من ميلاد سيدنا موسى عليه السلام. < (.....)

#### 05/ املأ الفراغ بالكلمات المناسبة:

- مولد - التاريخي - محرم - ذو الحجة - ميلادي - ديسمبر - هجرة - عيسى عليه السلام - محمد (ص) - هجري - جانفي
- ينقسم التقويم ..... الى تقويم ..... و تقويم .....
- التقويم الميلادي يبدأ من ..... سيدنا ..... و التقويم الهجري يبدأ من ..... سيدنا .....
- ..... من مكة المكرمة الى المدينة المنورة.
- تبدأ السنة الهجرية بشهر ..... و تنتهي بشهر .....
- تبدأ السنة الميلادية بشهر ..... و تنتهي بشهر .....

#### 06/ ضع (ص) او (خ) امام كل عبارة:

- يرتبط التقويم الميلادي بميلاد سيدنا محمد(ص) < (.....)
- اول من بدا بالتقويم الهجري كتقويم اسلامي هو عمر بن الخطاب رضي الله عنه < (.....)
- السنة الهجرية الاولى توافق 622م < (.....)
- الامة الاسلامية تؤرخ بالتاريخ الهجري. < (.....)
- التقويم الميلادي نسبة لهجرة عيسى عليه السلام. < (.....)
- عيد ميلادي عبارة عن تاريخ معلمي عالمي. < (.....)

#### 07/ صنف في الجدول :

عيد الاضحى - 1 نوفمبر - عاشوراء - 1 محرم - 5 جويلية - 05 اكتوبر - عيد الفطر

التاريخ الهجري	التاريخ الميلادي

**08/ اكمل الفراغ بما يناسب:**

ينقسم التقويم التاريخي الى قسمين :

1- التقويم .....نسبة الى .....

2- التقويم .....نسبة الى .....

**09/ اكمل الجدول :**

التاريخ	المناسبة	التقويم المستعمل
1 نوفمبر	.....	.....
.....	عيد الفطر	.....
10 محرم	.....	.....

**10/ اربط كل جملة بما يناسبها :**

- التاريخ الميلادي
  - التاريخ الهجري
  - التاريخ المعلمي
- نسبة لهجرة الرسول (ص)  
تاريخ خاص بالأحداث الشخصية او الاجتماعية او العالمية  
نسبة لميلاد النبي عيسى عليه السلام

**11/ ضع (ص) او (خ) امام كل عبارة:**

- التاريخ المعلمي الوطني يرتبط بالتاريخ الخاص للشخص. (.....)
- عيد العمال تاريخ معلمي شخصي (.....)
- حفل زفاف اختي تاريخ معلمي شخصي. (.....)
- عيد الاستقلال يوم 1 محرم من كل سنة (.....)
- تحتفل الجزائر سنويا بأعياد منها عيد الاضحى (.....)
- يبدأ التقويم الميلادي من ميلاد النبي عيسى عليه السلام (.....)
- محرم هو شهر من شهور السنة الميلادية (.....)
- لكل مرحلة تاريخية تاريخ بداية و تاريخ نهاية (.....)
- نرسم للتقويم الهجري ب (ق.هـ) (.....)

-جميع شعوب العالم تستعمل التقويم الهجري في تسجيل الاحداث المختلفة- (.....)

12/ انسب كل عيد الى التقويم الذي يناسبه بوضع (م) او (هـ) :

العید	المناسبة	هجري او ميلادي
5 جويلية	.....	
1 نوفمبر	.....	
1 محرم	.....	
1 جانفي	.....	
1 شوال	.....	
10 ذي الحجة	.....	

13/ ضع (ص) او (خ) امام كل عبارة:

- تم اكتشاف الكتابة سنة 3200 ميلادي - (.....)
- قسم المؤرخون المراحل التاريخية الى ثلاثة مراحل. - (.....)
- اول المراحل التاريخية هي مرحلة التاريخ القديم - (.....)
- تاريخ بداية فترة تاريخية معينة هو تاريخ نهاية الفترة التي سبقتها. - (.....)
- تنتهي مرحلة التاريخ القديم باكتشاف الكتابة حوالي 3200 ق م - (.....)
- سقطت روما على يد القبائل الجرمانية سنة 476 م - (.....)
- في مرحلة التاريخ الوسيط عاش العالم الاسلامي ازهى عصوره من حيث التطور - (.....)
- من اشهر ملوك العصر القديم ماسينيسا. - (.....)
- بدأت مرحلة التاريخ الحديث من الثورة الفرنسية سنة 1789 م. - (.....)
- في مرحلة التاريخ الحديث عرف العالم الاسلامي ركودا حضاريا - (.....)
- عرفت اوروبا عصر النهضة في مرحلة التاريخ المعاصر - (.....)

14/ اجب عن الاسئلة التالية:

- قسم المؤرخون العصور التاريخية الى اربعة مراحل. اذكرها بالترتيب

- في اي عصر عاش العالم الاسلامي ازهى عصوره من حيث التطور الحضاري؟

- في أي عصر عرفت أوروبا عصر النهضة؟

- في أي مرحلة تاريخية ظهر الإسلام؟

- في أي مرحلة تاريخية تم مبايعة الأمير عبد القادر و في أي سنة ؟

**15/ اربط بين الحدث و تاريخه:**

سقوط روما	3200 ق م
فتح القسطنطينية	476 م
تاريخ ظهور الكتابة	1789 م
قيام الثورة الفرنسية	1453 م

**16/ أكمل الجدول التالي بما يناسب:**

المرحلة التاريخية	تبدأ من	تنتهي	مميزاتها
مرحلة التاريخ القديم			
مرحلة التاريخ الوسيط			
مرحلة التاريخ الحديث			
مرحلة التاريخ المعاصر			

## 17/ سطر تحت الجواب الصحيح:

- الاحتفال بعبد الثورة : - حدث شخصي - حدث عالمي - حدث وطني
- يرتبط التقويم الميلادي : بميلاد سيدنا موسى عليه السلام - ميلاد سيدنا عيسى عليه السلام
- تبدأ مرحلة التاريخ الحديث سنة : - 1789م - 1453م - 1832م
- اكتشاف الكتابة كان حوالي : 3200م - 3200 ق م - 3200هـ
- عاش العالم الاسلامي ازهى عصوره في : مرحلة التاريخ الوسيط - مرحلة التاريخ الحديث - مرحلة التاريخ المعاصر
- عصر النهضة كان في : - مرحلة التاريخ الوسيط - مرحلة التاريخ المعاصر - مرحلة التاريخ الحديث
- من اشهر ملوك العصر القديم : الامير عبد القادر - ماسينيسا - خيرالدين بربروس
- نحتفل براس السنة الهجرية : 1 جانفي - 1 شوال - 1 محرم

## 18/ اربط كل مرحلة تاريخية بتاريخ بدايتها و تاريخ نهايتها:

بدأت من فتح القسطنطينية سنة 1453م الى قيام الثورة الفرنسية سنة 1789م
بدأت من اكتشاف الكتابة حوالي 3200 ق م الى سقوط روما سنة 476م
بدأت من الثورة الفرنسية سنة 1789م الى يومنا هذا
بدأت من سقوط روما سنة 476م الى فتح القسطنطينية سنة 1453م

مرحلة التاريخ القديم
مرحلة التاريخ الوسيط
مرحلة التاريخ الحديث
مرحلة التاريخ المعاصر

## 19/ رتب الاعياد على سلم زمني واذكر تاريخ كل عيد:

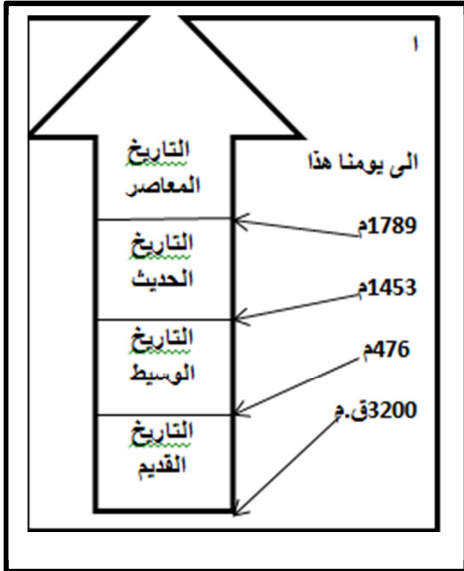
- عيد الاضحى - المولد النبوي - عيد الفطر - راس السنة الهجرية

- عيد الاستقلال - عيد المرأة - عيد العمال - عيد الثورة - راس السنة الميلادية

## 20/ ضع كل حدث في معلمه المناسب:

- زواج اختي - يوم ميلادي - عيد الاستقلال - المولد النبوي الشريف - عيد العمال - عيد الثورة - اليوم العالمي للبيئة - حفل ختان - يوم العلم - نجاحي في الدراسة

تاريخ معلمي شخصي	تاريخ معلمي وطني	تاريخ معلمي اجتماعي	تاريخ معلمي عالمي



## 21/ اعتمادا على السلم الزمني احدد طول الفترتين التاليتين:

- العصر الوسيط ..... سنة (من سنة ..... الى سنة .....)
- العصر الحديث ..... سنة (من سنة ..... الى سنة .....)
- من هو اطول فترة من بينهما؟  
.....
- ماذا يعني الرمز ( ق. م )؟  
.....
- ما هي ابرز سمات العصر المعاصر؟  
.....

- ما هو العصر الذي كان يعيش فيه العالم الاسلامي ازهى عصوره؟  
.....

## 22/ املأ الفراغات بما يلي:

- السلم الزمني - (ه) - الميلادي - وحدة قياس - التقويم الميلادي - هجرة الرسول (ص) من مكة الى المدينة الهجري - (م) - مدة زمنية
- يحدد المؤرخون زمن وقوع الاحداث بتقويمين هما ..... و.....
- وسيلة عملية لتمثيل تسلسل الزمن  
.....
- بداية التقويم الهجري هي ..... و نرسم له بالرمز.....
- ميلاد سيدنا عيسى عليه السلام هو بداية ..... و نرسم له بالرمز.....
- عندما نرسم سلما زمنيا نختار ..... لتمثيل ..... معينة.

- يرتبط التقويم الميلادي بميلاد الرسول محمد (ص) ← (خ)
- اول من بدا بالتقويم الهجري كتقويم اسلامي هو عمر بن الخطاب رضي الله عنه ← (ص)
- السنة الهجرية الاولى توافق 622م ← (ص)
- التقويم الهجري نسبة لهجرة النبي عيسى عليه السلام ← (خ)
- عيد ميلادي عبارة عن تاريخ معلمي اجتماعي ← (خ)
- عيد العمال عبارة عن تاريخ معلمي عالمي. ← (ص)
- ينقسم التقويم التاريخي الى تقويم ميلادي و هجري. ← (ص)

02/ ضع كل كلمة في مكانها المناسب:

- ( صفر- جويلية - الهجرية - الميلادية - الميلادي - العالم - الهجري - الاسلامية - جانفي - (م) - (هـ) محرم )
- يستعمل جميع شعوب **العالم** التقويم **الميلادي** في تسجيل الاحداث المختلفة و يرمز له ب ( م )
- بينما استعمال التقويم **الهجري** في تسجيل الاحداث المختلفة يقتصر على الشعوب **الاسلامية** فقط
- و يمز له بالرمز ( هـ ) و شهور السنة **الهجرية** 12 شهرا من بينها **صفر** و **محرم** وذو الحجة
- و شهور السنة **الميلادية** 12 شهرا من بينها **جويلية** و **جانفي** و مارس.
- 03/ اجب عن الاسئلة التالية معتمدا على ما درست :

- ما هو التقويم الميلادي ؟ التقويم الميلادي تقويم يستعمله جميع شعوب العالم في تسجيل الاحداث المختلفة و هو يرتبط بميلاد سيدنا موسى عليه السلام.
- ما هو التقويم الهجري ؟ التقويم الهجري تقويم تستعمله الشعوب الاسلامية في تسجيل الاحداث المختلفة و هو مرتبط بهجرة الرسول محمد (ص) من مكة الى المدينة
- من هو الذي بدأ بالعمل بالتقويم الهجري ؟ و في اي سنة ميلادية ؟ في عهد الخليفة عمر بن الخطاب رضي الله عنه
- بدا العمل بالتقويم الهجري كتقويم اسلامي اي بعد 17 سنة من الهجرة .

السنة الهجرية الاولى توافق سنة 622م

04/ ضع (ص) او (خ) امام كل عبارة:

- نرسم للتقويم الهجري ب (ق.م) ← (خ)
- محرم هو من الاشهر الميلادية. ← (خ)



- بداية التقويم الهجري هي يوم هجرة الرسول (ص) (الموافقة ل 600م.) <(خ)
- يقتصر التقويم الهجري على الشعوب الاسلامية فقط في تسجيل الاحداث المختلفة. <(ص)
- يبدأ التقويم الميلادي من ميلاد سيدنا موسى عليه السلام. <(خ).

#### 05/ املأ الفراغ بالكلمات المناسبة:

- مولد - التاريخي - محرم - ذو الحجة - ميلادي - ديسمبر - هجرة - عيسى عليه السلام - محمد (ص) - هجري - جانفي
- ينقسم التقويم التاريخي الى تقويم ميلادي و تقويم هجري
- التقويم الميلادي يبدأ من ميلاد سيدنا عيسى عليه السلام و التقويم الهجري يبدأ من هجرة سيدنا محمد (ص) من مكة المكرمة الى المدينة المنورة.
- تبدأ السنة الهجرية بشهر محرم و تنتهي بشهر ذو الحجة
- تبدأ السنة الميلادية بشهر جانفي و تنتهي بشهر ديسمبر

#### 06/ ضع (ص) او (خ) امام كل عبارة:

- يرتبط التقويم الميلادي بميلاد سيدنا محمد(ص) <(خ)
- اول من بدا بالتقويم الهجري كتقويم اسلامي هو عمر بن الخطاب رضي الله عنه <(ص)
- السنة الهجرية الاولى توافق 622م <(ص)
- الامة الاسلامية تؤرخ بالتاريخ الهجري. <(ص)
- التقويم الميلادي نسبة لهجرة عيسى عليه السلام. <(خ)
- عيد ميلادي عبارة عن تاريخ معلمي عالمي. <(خ)

#### 07/ صنف في الجدول :

عيد الاضحى - 1 نوفمبر - عاشوراء - 1 محرم - 5 جويلية - 05 اكتوبر - عيد الفطر

التاريخ الهجري	التاريخ الميلادي
عيد الاضحى - عاشورا - عاشوراء-1 محرم	5 جويلية - 5 اكتوبر -1 نوفمبر

#### 08/ اكمل الفراغ بما يناسب:

ينقسم التقويم التاريخي الى قسمين :

1- التقويم الميلادي نسبة الى ميلاد سيدنا عيسى عليه السلام.

2- التقويم الهجري نسبة الى هجرة الرسول محمد (ص).

09/ اكمل الجدول :

التاريخ	المناسبة	التقويم المستعمل
1 نوفمبر	عيد الثورة	التقويم الميلادي
1 شوال	عيد الفطر	التقويم الهجري
10 محرم	عاشوراء	التقويم الهجري

10/ اربط كل جملة بما يناسبها :

- التاريخ الميلادي ← نسبة لهجرة الرسول (ص)
- التاريخ الهجري ← تاريخ خاص بالأحداث الشخصية او الاجتماعية او العالمية
- التاريخ المعلمي ← نسبة لميلاد النبي عيسى عليه السلام

11/ ضع (ص) او (خ) امام كل عبارة:

- التاريخ المعلمي الوطني يرتبط بالتاريخ الخاص للشخص. ← (خ)
- عيد العمال تاريخ معلمي شخصي ← (خ)
- حفل زفاف اختي تاريخ معلمي شخصي. ← (خ)
- عيد الاستقلال يوم 1 محرم من كل سنة ← (خ)
- تحتفل الجزائر سنويا بأعياد منها عيد الاضحى ← (ص)
- يبدأ التقويم الميلادي من ميلاد النبي عيسى عليه السلام ← (ص)
- محرم هو شهر من شهور السنة الميلادية ← (خ)
- لكل مرحلة تاريخية تاريخ بداية و تاريخ نهاية ← (ص)
- نرسم للتقويم الهجري ب (ق.ه) ← (خ)

12/ انسب كل عيد الى التقويم الذي يناسبه بوضع (م) او (ه) :

العيد	المناسبة	هجري او ميلادي
5 جويلية	عيد الاستقلال	ميلادي
1 نوفمبر	عيد الثورة	ميلادي
1 محرم	راس السنة الهجرية	هجري
1 جانفي	راس السنة الميلادية	ميلادي
1 شوال	عيد الفطر	هجري
10 ذي الحجة	عيد الاضحى	هجري

13/ ضع (ص) او (خ) امام كل عبارة:

- تم اكتشاف الكتابة سنة 3200 ميلادي ← (ص)
- قسم المؤرخون المراحل التاريخية الى ثلاثة مراحل. ← (خ)
- اول المراحل التاريخية هي مرحلة التاريخ القديم ← (ص)
- تاريخ بداية فترة تاريخية معينة هو تاريخ نهاية الفترة التي سبقتها. ← (ص)
- تنتهي مرحلة التاريخ القديم باكتشاف الكتابة حوالي 3200 ق م ← (خ)
- سقطت روما على يد القبائل الجرمانية سنة 476م ← (ص)
- في مرحلة التاريخ الوسيط عاش العالم الاسلامي ازهى عصوره من حيث التطور ← (ص)
- من اشهر ملوك العصر القديم ماسينيسا. ← (ص)
- بدأت مرحلة التاريخ الحديث من الثورة الفرنسية سنة 1789م. ← (خ)
- في مرحلة التاريخ الحديث عرف العالم الاسلامي ركودا حضاريا ← (ص)
- عرفت اوروبا عصر النهضة في مرحلة التاريخ المعاصر ← (خ)

14/ اجب عن الاسئلة التالية:

- قسم المؤرخون العصور التاريخية الى اربعة مراحل. اذكرها بالترتيب
- 1- مرحلة التاريخ القديم / 2- مرحلة التاريخ الوسيط / 3- مرحلة التاريخ الحديث / 4- مرحلة التاريخ المعاصر
- في اي عصر عاش العالم الاسلامي ازهى عصوره من حيث التطور الحضاري؟
- عاش العالم الاسلامي ازهى عصوره من حيث التطور الحضاري في مرحلة التاريخ الوسيط.
- في أي عصر عرفت أوروبا عصر النهضة؟
- عرفت اوروبا عصر النهضة في مرحلة التاريخ الحديث.

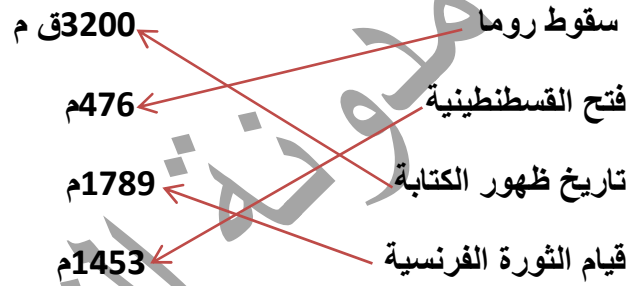
- في اي مرحلة تاريخية ظهر الاسلام؟

ظهر الاسلام في مرحلة التاريخ الوسيط حيث ان ظهور الاسلام ابرز احداث العصور الوسطى.

-في اي مرحلة تاريخية تم مبايعة الامير عبد القادر و في اي سنة ؟

تمت مبايعة الامير عبد القادر في مرحلة التاريخ المعاصر و كان ذلك في 27 نوفمبر 1832م

15/ اربط بين الحدث و تاريخه:



16/ أكمل الجدول التالي بما يناسب:

المرحلة التاريخية	تبدأ من	تنتهي	مميزاتها
مرحلة التاريخ القديم	تبدأ من ظهور الكتابة حوالي 3200 ق م	تنتهي بسقوط روما سنة 476 م	
مرحلة التاريخ الوسيط	تبدأ من سقوط روما سنة 476 م	تنتهي بفتح القسطنطينية سنة 1453 م	كان العالم الاسلامي يعيش ازهى عصوره من حيث التطور و كانت اوربا تعيش في عصر الظلمات و سيطرة الكنيسة
مرحلة التاريخ الحديث	تبدأ من فتح القسطنطينية سنة 1453 م	تنتهي بقيام الثورة الفرنسية سنة 1789 م	كان العالم الاسلامي يعرف ركودا حضاريا و انقسامات بينما اوربا تعرف عصر النهضة و الثورة الصناعية
مرحلة التاريخ المعاصر	تبدأ من الثورة الفرنسية سنة 1789 م	تمتد الى يومنا هذا	قيام الثورة الصناعية و ظهور المقاومة و الحركات التحريرية

17/ سطر تحت الجواب الصحيح:

- الاحتفال بعيد الثورة : - حدث شخصي - حدث عالمي - حدث وطني

- يرتبط التقويم الميلادي :بميلاد سيدنا موسى عليه السلام - ميلاد سيدنا عيسى عليه السلام

- تبدأ مرحلة التاريخ الحديث سنة : - 1789 م - 1453 م - 1832م

-اكتشاف الكتابة كان حوالي : 3200م -3200 ق م - 3200هـ

- عاش العالم الاسلامي ازهى عصوره في : مرحلة التاريخ الوسيط -مرحلة التاريخ الحديث-مرحلة التاريخ المعاصر

- عصر النهضة كان في :- مرحلة التاريخ الوسيط - مرحلة التاريخ المعاصر - مرحلة التاريخ الحديث

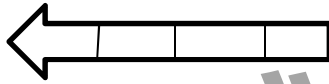
-من اشهر ملوك العصر القديم : الامير عبد القادر - ماسينيسا - خيرالدين بربروس

نحتفل براس السنة الهجرية : 1 جانفي - 1 شوال - 1 محرم

18/ اربط كل مرحلة تاريخية بتاريخ بدايتها و تاريخ نهايتها:

مرحلة التاريخ القديم	بدأت من فتح القسطنطينية سنة 1453م الى قيام الثورة الفرنسية سنة 1789م
مرحلة التاريخ الوسيط	بدأت من اكتشاف الكتابة حوالي 3200 ق م الى سقوط روما سنة 476م
مرحلة التاريخ الحديث	بدأت من الثورة الفرنسية سنة 1789م الى يومنا هذا
مرحلة التاريخ المعاصر	بدأت من سقوط روما سنة 476م الى فتح القسطنطينية سنة 1453م

19/ رتب الاعياد الاسلامية على سلم زمني: يرسم التلميذ سلم زمني و يضع عليه الاعياد كل عيد في خانة



- عيد الاضحى - المولد النبوي - عيد الفطر - راس السنة الهجرية

راس السنة الهجرية (1 محرم) / المولد النبوي (12 ربيع الاول) / عيد الفطر (1 شوال) / عيد الاضحى (10 ذو القعدة)

- عيد الاستقلال - عيد المرأة - عيد العمال - عيد الثورة - راس السنة الميلادية

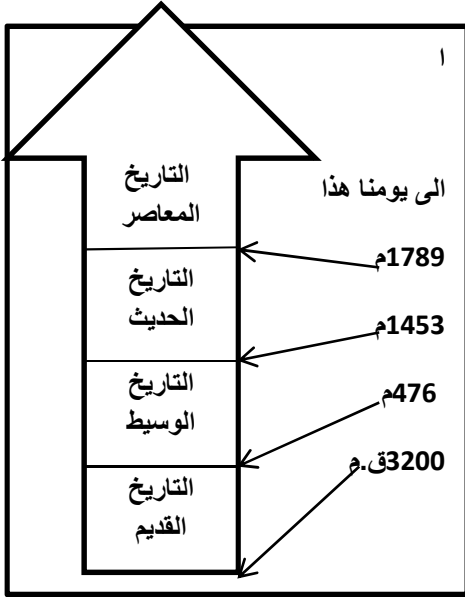
راس السنة الميلادية (1 جانفي) / عيد المرأة (8 مارس) / عيد العمال (1 ماي) / عيد الاستقلال (5 جويلية)

عيد الثورة (1 نوفمبر)

20/ ضع كل حدث في معلمه المناسب:

زواج اختي - يوم ميلادي - عيد الاستقلال - المولد النبوي الشريف - عيد العمال - عيد الثورة - اليوم العالمي للبيئة - حفل ختان يوم العلم - نجاحي في الدراسة

تاريخ معلمي شخصي	تاريخ معلمي وطني	تاريخ معلمي اجتماعي	تاريخ معلمي عالمي
يوم ميلادي - نجاحي في الدراسة	عيد الاستقلال-عيد الثورة- يوم العلم -	زواج اختي- المولد النبوي الشريف - حفل ختان	عيد العمال - اليوم العالمي للبيئة -



21/ اعتمادا على السلم الزمني احدد طول الفترتين التاليتين:

- العصر الوسيط 977م سنة (من سنة 476م الى سنة 1453م )

- العصر الحديث 336 سنة (من سنة 1453م الى سنة 1789م )

- من هو اطول فترة من بينهما؟

العصر الوسيط هو الاطول فترة.

ماذا يعني الرمز ( ق.م )؟ الرمز (ق.م) معناته قبل الميلاد.

- ما هي ابرز سمات العصر المعاصر؟

-من ابرز سمات العصر المعاصر قيام الثورة الصناعية و انتشار الحركة الاستعمارية و ظهور المقاومة و الحركات التحررية.

- ما هو العصر الذي كان يعيش فيه العالم الاسلامي ازهى عصوره؟

في العصر الوسيط كان العالم الاسلامي يعيش ازهى عصوره من حيث التطور الحضاري.

22- املأ الفراغات بما يلي :

السلم الزمني - (ه) - الميلادي - وحدة قياس - التقويم الميلادي - هجرة الرسول محمد(ص) من مكة الى المدينة

الهجري - (م) - مدة زمنية

- يحدد المؤرخون زمن وقوع الاحداث بتقويمين هما **الميلادي** و **الهجري** .

- **السلم الزمني** وسيلة عملية لتمثيل تسلسل الزمن

- بداية التقويم الهجري هي **هجرة الرسول محمد (ص) من مكة الى المدينة** . و نرمز له بالرمز (ه) .

- ميلاد سيدنا عيسى عليه السلام هو بداية **التقويم الميلادي** و نرمز له بالرمز (م) .

- عندما نرسم سلما زمنيا نختار **وحدة قياس** لتمثيل **مدة زمنية** معينة.

ان احسنت فمن الله وان اسأت فمن نفسي و  
الشيطان

(جل من لا يخطئ)

01/ ضع (ص) او (خ) امام كل عبارة:

- خط غرينيتش يقسم الكرة الارضية الى شرق و غرب. (.....)
- البحر الابيض المتوسط يتوسط اربع قارات. (.....)
- ينتج عن دوران الارض حول الشمس الليل و النهار. (.....)
- ينتج عن دوران الارض حول نفسها الليل و النهار. (.....)
- نسبة اليابسة اكبر من نسبة الماء. (.....)
- دائرة الاستواء تتوسط الارض افقيا. (.....)
- تبلغ مساحة الجزائر 2381741 كلم<sup>2</sup>. (.....)
- الارض هي نجم في الفضاء. (.....)
- تبلغ مساحة الارض 420 مليون كلم<sup>2</sup>. (.....)
- الارض تشمل اليابسة و الماء معا. (.....)

02/ اربط كل عبارة بما يناسبها:

- خط غرينيتش • يتوسط الارض افقيا
- دائرة الاستواء • يقسم الارض الى شرق و غرب
- يتوسط الارض عموديا
- يقسم الارض الى شمال و جنوب

03/ اكمل الفراغات بما يناسب:

- ينتج عن دوران الارض حول الشمس ..... و تقوم بذلك مرة كل .....
- ينتج عن دوران الارض حول نفسها ..... و تقوم بذلك مرة كل .....
- تبلغ مساحة الارض ..... و تشمل ..... بنسبة ..... و بنسبة .....

04/ اجب عن الأسئلة التالية :

- عرف الخريطة ؟ .....
- ما هي مكونات الخريطة؟ .....



- هل للخرائط أهمية ؟ اذا كانت الاجابة نعم اذكر البعض منها؟

- اذكر انواع الخرائط التي تعرفها ؟

- ماهي اهم الخطوط و الدوائر التي تقسم الارض؟

- للأرض حركتان . ما هما؟

\*1

\*2

- ما لفرق بين خط غرينيتش و دائرة الاستواء؟

- تتوزع اليابسة و الماء بنسب متفاوتة . اذكر هذه النسب

- اذكر كيف يتوزع الماء على الارض؟

- تحتل الجزائر موقعا هاما في خريطة العالم .فيما تكمن هذه الاهمية؟

- اليابسة موزعة بين قارات و جزر . اذكرها

05/ اكمل بما يناسب :

- خط غرينيتش خط ..... يتوسط الارض ..... و ..... الارض الى قسمين .....  
و ..... و يمر بالجزائر في مدينة ..... و هو مسؤول عن تحديد .....  
- الدائرة الاستوائية هي دائرة ..... تتوسط الارض ..... و ..... الارض الى قسمين .....  
و ..... وهي مسؤولة عن تحديد .....



**06/ ضع (ص) او (خ) امام كل عبارة:**

- الارض هي احد كواكب المجموعة الشمسية. ← (.....)
- مساحة الجزائر 510 كلم<sup>2</sup> ← (.....)
- خط غرينيتش هو خط وهمي يقسم الكرة الأرضية الى قسمين شرقي و غربي. ← (.....)
- دائرة الاستواء تمر بالجزائر. ← (.....)
- الارض تتكون من يابسة و ماء. ← (.....)
- تطل الجزائر على البحر الاحمر. ← (.....)
- الجزائر اكبر بلد افريقي. ← (.....)
- مصر و السودان من البلدان المجاورة للجزائر. ← (.....)
- نسبة الماء 29% و نسبة اليابسة 71% بالنسبة للأرض. ← (.....)
- من مكونات الخريطة الاتجاه و المقياس. ← (.....)

**07/ ضع كل كلمة في مكانها المناسب:**

- مالي - تونس - النيجر - بلدان - الصحراء الغربية - العربي - البحر الابيض المتوسط - ليبيا - موريتانيا  
-تتوسط الجزائر .....المغرب.....وهي اكبر بلدانه . يحدها من الشمال .....  
ومن الجنوب .....ومن الشرق .....ومن الغرب .....  
و.....و.....

**08/ اربط كل عبارة بما يناسبها :**

مساحة الجزائر	1200 كلم
طول الساحل الجزائري	2381741 كلم <sup>2</sup>
مساحة البحر الابيض المتوسط	510 مليون كلم <sup>2</sup>
مساحة الكرة الأرضية	29%
نسبة توزيع الماء	71%
نسبة توزيع اليابسة	2.5 كلم <sup>2</sup>

**09/ ضع (ص) او (خ) امام كل عبارة:**

- مالي و النيجر من بلدان المغرب العربي. ← (.....)
- القارة هي مساحة واسعة من الارض تحيط بها البحار و المحيطات. ← (.....)

- مرتبة الجزائر العاشرة عالميا من حيث المساحة. (.....)
- الجزائر بوابة افريقيا من حيث الجنوب. (.....)
- المحيط هو مساحة واسعة جدا من الماء العذب. (.....)
- لا تنتمي الجزائر الى بلدان البحر الابيض المتوسط. (.....)
- تتوسط الجزائر بلدان العالم. (.....)
- تقع الجزائر في شمال قارة اسيا. (.....)

#### 10/ اجب عن الاسئلة التالية:

- 1- ماذا تمثل هذه الخريطة؟ .....
- 2- لون بالأحمر خريطة الجزائر
- 3- لون بالأخضر البلدان المجاورة للجزائر من الشرق
- 4- لون بالأزرق البلدان المجاورة للجزائر من الغرب
- 5- لون بالأصفر البلدان المجاورة للجزائر من الجنوب
- 6- ما هما البلدان غير العربيين اللذان لهما حدود مع الجزائر

#### 11/ ضع كل كلمة في مكانها المناسب:

- الافريقية - 1200 كلم- الجزء - بوابة - اكبر - الابيض المتوسط  
 تقع الجزائر في ..... الشمالي من القارة.....  
 و تطل على البحر ..... من الجهة الشمالية  
 بساحل يزيد طوله عن .....  
 - تعتبر الجزائر ..... بلد افريقي و يطلق عليه اسم..... افريقيا.

#### 12/ ضع (ص) او (خ) امام كل عبارة:

- ليس للجزائر انتماء مغربي. (.....)
- اسس اتحاد المغرب العربي سنة 1989م بمدينة مراكش المغربية. (.....)
- الجزائر اكبر البلدان العربية مساحة. (.....)
- الجزائر لها حدود مع 5 دول افريقية. (.....)
- تطل الجزائر على البحر الابيض المتوسط. (.....)
- يربط البحر الابيض المتوسط 4 قارات. (.....)

مدونة التعليم بوخشم مريم

<https://modawanettaalimboukhechemmeriem.blogspot.com/>

- لا توجد حواجز طبيعية تفصل بين البلدان المغربية. < (.....)

**13/ اذكر دول المغرب العربي حسب الأرقام :**



- .....-1
- .....-2
- .....-3
- .....-4
- .....-5
- .....-6

**14/ اربط بين كل عبارة و ما يناسبها :**

- |                    |                            |
|--------------------|----------------------------|
| الارض هي احد كواكب | شمال افريقيا               |
| مساحة الجزائر      | بلدان البحر الابيض المتوسط |
| تقع الجزائر في     | 2381741 كلم <sup>2</sup>   |
| الجزائر هي احدى    | المجموعة الشمسية           |

**15/ اجب عن الاسئلة التالية:**

- ما هي مساحة الجزائر؟ .....
- ما هي مرتبة الجزائر قاريا و عربيا و عالميا من حيث المساحة؟ .....

هل للجزائر انتماء مغاربي؟ .....

- اذكر 3 عناصر تدل على الانتماء المغاربي؟ .....

- للجزائر حدود مع دول عربية .اذكرها مع ذكر كل جهة .....

- للجزائر حدود مع دول غير عربية اذكرها مع الجهة التي تحدها .....

- كم قارة يتوسط البحر الابيض المتوسط؟ .....

**16/ املأ الفراغات بما يناسب معتمدا على ما درست:**

من مميزات الجزائر امتدادها الواسع على مساحة ..... حيث انها تحتل المرتبة ..... عالميا  
و.....افريقيا و بالتالي فهي الاكبر مساحة مغاربيا و.....و.....  
لها حدود مع 7 دول افريقيا وهي .....

**17/ ضع الكلمات التالية في مكانها المناسب :**

قارات - الازرق - المحيطات - الكرة - اليابسة  
- يسمى كوكب الارض ب.....الارضية يتشكل سطحها من الماء و .....و تتكون اليابسة من خمس  
.....اما الماء فيتمثل في البحار و.....التي تعطي اللون .....للأرض.

**18/ وضعية ادماجية :**

ذهبت مع ابي الى المكتبة لأشتري خريطة للعالم لأنني احتاجها في دراستي و اشتري لي ابي ايضا كرة ارضية . وانا  
اختار الخريطة جاء عندي صاحب المكتبة وسألني انت كنت اعرف قراءة الخريطة كما سألني عن موقع الجزائر  
فأجبته بالطبع اعرف قراءتها و بدأت اشرح له كيف يتمكن مستعمل الخريطة من قراءتها و ايضا وضحت له موقع  
الجزائر و اخبرته بكل ما اعرف عنها

- عند عودتي الى المنزل لاحظت جدتي الكرة الارضية و لاحظت تلك الخطوط الطولية و ايضا الدوائر العرضية و  
سألنتني ان كانت هذه الخطوط و الدوائر موجودة فعلا ؟ وما هو دورها ؟ كما لاحظت ايضا الفرق بين اليابسة و الماء  
فجلست معها اشرح لها واجيب عن كل استفساراتها

**01/ ضع (ص) او (خ) امام كل عبارة:**

الإجابة

- خط غرينيتش يقسم الكرة الأرضية الى شرق و غرب. (ص)
- البحر الابيض المتوسط يتوسط اربع قارات. (خ)
- ينتج عن دوران الارض حول الشمس الليل و النهار. (خ)
- ينتج عن دوران الارض حول نفسها الليل و النهار. (ص)
- نسبة اليابسة اكبر من نسبة الماء. (خ)
- دائرة الاستواء تتوسط الارض افقيا. (ص)
- تبلغ مساحة الجزائر 2381741 كلم<sup>2</sup>. (ص)
- الارض هي نجم في الفضاء. (خ)
- تبلغ مساحة الارض 420 مليون كلم<sup>2</sup>. (خ)
- الارض تشمل اليابسة و الماء معا. (ص)

**02/ اربط كل عبارة بما يناسبها:**

- |                |                              |
|----------------|------------------------------|
| خط غرينيتش     | ● يتوسط الارض افقيا          |
| دائرة الاستواء | ● يقسم الارض الى شرق و غرب   |
|                | ● يتوسط الارض عموديا         |
|                | ● يقسم الارض الى شمال و جنوب |

**03/ اكمل الفراغات بما يناسب:**

- ينتج عن دوران الارض حول الشمس **الفصول الاربعة** و تقوم بذلك مرة كل **سنة (عام)**
- ينتج عن دوران الارض حول نفسها **الليل و النهار** و تقوم بذلك مرة كل **24 ساعة (يوم كامل)**
- تبلغ مساحة الارض **510 مليون كلم<sup>2</sup>** و تشمل **اليابسة بنسبة 29 % و الماء بنسبة 71 %**

**04/ اجب عن الأسئلة التالية :**

- عرف الخريطة ؟ الخريطة اداة جغرافية عالمية و هي وسيلة لتمثيل مختلف معالم سطح الارض الانهار . اليابسة . السهول . الجبال . الغابات و ايضا لتمثيل المظاهر الطبيعية كالأمطار كذلك تمثيل الظواهر البشرية (توزيع السكان . توزيع الطرق و المواصلات) او يمكن الاختصار والقول ان الخريطة اداة جغرافية لا يستطيع الجغرافي او السائح او العسكري الاستغناء عنها و هي تمثيل لمنطقة معينة من الارض او جزء منها على سطح الارض
- ما هي مكونات الخريطة ؟ = مكونات الخريطة هي : 1- العنوان / 2- المفتاح / 3- المقياس / 4- الاتجاه
- هل للخرائط اهمية ؟ اذا كانت الاجابة نعم اذكر البعض منها؟

نعم للخرائط اهمية و تتمثل في = تعد وسيلة للتشجيع على السياحة حيث ترشد السياح الى المعالم -تساعد الزراعيين في دراسة التربة و تصنيفها - تساعد المهندسين في تخطيط المشاريع - تساعد الجيش في العمليات العسكرية- تستخدم من قبل الطيارين لتحديد وجهة طيرانهم و يستخدمها المدرسون في شرح مواضيع الجغرافيا في المدارس و الجامعات.

- اذكر انواع الخرائط التي تعرفها ؟

تصنف الخرائط حسب الغرض منها او موضوعها = تجد خرائط السكان - خرائط الطقس و المناخ - خرائط التضاريس - خرائط النبات - الخرائط السياسية .....

- ماهي اهم الخطوط و الدوائر التي تقسم الارض؟ = 1- خط غرينيتش: خط وهمي يتوسط الكرة الارضية عموديا و يقسمها الى قسمين شرقي و غربي / 2- دائرة الاستواء و هي دائرة وهمية تتوسط الكرة الارضية افقيا و تقسمها الى قسمين شمالي و جنوبي .

- للأرض حركتان . ما هما؟

1\* الحركة الاولى = حركة يومية حول نفسها(دوران الارض حول نفسها) و ينتج عنها الليل و النهار و تدوم 24 ساعة ( يوم كامل)

2\* الحركة الثانية= حركة سنوية حول الشمس(دوران الارض حول الشمس) خلال سنة واحدة (356 يوم) و ينتج عنها تعاقب الفصول الاربعة

- ما لفرق بين خط غرينيتش و دائرة الاستواء؟ = الفرق بينهما هو ان خط غرينيتش يتوسط الارض عموديا و يقسمها الى قسمين شرقي و غربي . اما دائرة الاستواء فتتوسط الارض افقيا و تقسمها الى قسمين شمالي و جنوبي.

- تتوزع اليابسة و الماء بنسب متفاوتة . اذكر هذه النسب

تتوزع اليابسة و الماء بنسب متفاوتة فنجد نسبة الماء 71% اما نسبة اليابسة فهي 29%

- اذكر كيف يتوزع الماء على الارض؟

الماء على الارض موزع بين المحيطات و البحار و الانهار و الوديان و المستنقعات و الجداول و الكتل الجليدية و المياه الجوفية و البحيرات

- تحتل الجزائر موقعا هاما في خريطة العالم . فيما تكمن هذه الاهمية؟ تحتل الجزائر موقعا هاما في خريطة العالم فاذا نظرنا الى الخريطة نجد ان الجزائر تقع في قلب العلم فهي تتوسط بلدان المغرب العربي و ايضا تحتل موقعا هاما بالنسبة للقارة الافريقية فهي تعتبر بوابة افريقيا من جهة الشمال. الجزائر تتوسط ثلاث قارات مما جعلها ملتقى الطرق التجارية العالمية برا و بحرا

- اليابسة موزعة بين قارات و جزر . اذكرها

اليابسة موزعة بين القارات و الجزر . عدد القارات هو خمسة وهي قارة افريقيا - قارة امريكا - قارة اوربا - قارة اسيا -قارة استراليا (اقيانوسيا)

ومن الجزر نجد :جزيرة قبرص - جزر المالديف-جزر الكناري -جزيرة مدغشقر .....

05/ اكمل بما يناسب :

- خط غرينيتش خط وهمي يتوسط الارض عموديا ويقسم الارض الى قسمين شرقي و غربي و يمر بالجزائر في مدينة مستغانم و هو مسؤول عن تحديد الوقت

- الدائرة الاستوائية هي دائرة وهمية تتوسط الارض افقيا و تقسم الارض الى قسمين شمالي و جنوبي وهي مسؤولة عن تحديد المناخات في العالم (لها علاقة بالفصول الاربعة) و ايضا تحدد المواقع (ان كانت المواقع تقع جنوب دائرة الاستواء او شماله)

06/ ضع (ص) او (خ) امام كل عبارة:

- الارض هي احد كواكب المجموعة الشمسية. (ص)
- مساحة الجزائر 510 كلم<sup>2</sup> (خ)
- خط غرينيتش هو خط وهمي يقسم الكرة الارضية الى قسمين شرقي و غربي. (ص)
- دائرة الاستواء تمر بالجزائر. (خ)
- الارض تتكون من يابسة و ماء. (ص)
- تطل الجزائر على البحر الاحمر. (خ)
- الجزائر اكبر بلد افريقي. (ص)
- مصر و السودان من البلدان المجاورة للجزائر. (خ)
- نسبة الماء 29% و نسبة اليابسة 71% بالنسبة للأرض. (خ)
- من مكونات الخريطة الاتجاه و المقياس. (ص)

07/ ضع كل كلمة في مكانها المناسب:

- مالي - تونس - النيجر - بلدان - الصحراء الغربية - العربي - البحر الابيض المتوسط - ليبيا - موريتانيا  
تتوسط الجزائر بلدان المغرب العربي وهي اكبر بلدانه . يحدها من الشمال البحر الابيض المتوسط  
ومن الجنوب مالي والنيجر ومن الشرق تونس وليبيا ومن الغرب الصحراء الغربية و المغرب الاقصى و موريتانيا

08/ اربط كل عبارة بما يناسبها :

- |                            |                            |
|----------------------------|----------------------------|
| مساحة الجزائر              | 1200 كلم                   |
| طول الساحل الجزائري        | 2381741 كلم <sup>2</sup>   |
| مساحة البحر الابيض المتوسط | 510 مليون كلم <sup>2</sup> |
| مساحة الكرة الارضية        | 29%                        |
| نسبة توزيع الماء           | 71%                        |
| نسبة توزيع اليابسة         | 2.5 كلم <sup>2</sup>       |

09/ ضع (ص) او (خ) امام كل عبارة:

- مالي و النيجر من بلدان المغرب العربي. (خ)



- القارة هي مساحة واسعة من الارض تحيط بها البحار و المحيطات. <(ص)
- مرتبة الجزائر العاشرة عالميا من حيث المساحة. <(ص)
- الجزائر بوابة افريقيا من حيث الجنوب. <(خ)
- المحيط هو مساحة واسعة جدا من الماء العذب. <(خ)
- لا تنتمي الجزائر الى بلدان البحر الابيض المتوسط. <(خ)
- تتوسط الجزائر بلدان العالم. <(ص)
- تقع الجزائر في شمال قارة اسيا. <(خ)

**10/ اجب عن الاسئلة التالية:**

- 1- ماذا تمثل هذه الخريطة؟ **تمثل خريطة افريقيا**
- 2- لون بالأحمر خريطة الجزائر
- 3- لون بالأخضر البلدان المجاورة للجزائر من الشرق ( **يلون تونس و ليبيا** )
- 4- لون بالأزرق البلدان المجاورة للجزائر من الغرب ( **يلون المغرب الاقصى - الصحراء الغربية - موريتانيا** )
- 5- لون بالأصفر البلدان المجاورة للجزائر من الجنوب ( **يلون مالي و النيجر** )
- 6- ما هما البلدان غير العربيتان اللذان لهما حدود مع الجزائر **البلدان غير العربيتان اللذان لهما حدود مع الجزائر: مالي و النيجر**

**11/ ضع كل كلمة في مكانها المناسب:**

- الافريقية - 1200 كلم- الجزء - بوابة - اكبر - الابيض المتوسط
- تقع الجزائر في **الجزء الشمالي** من القارة **الافريقية**.
- و تطل على البحر **الابيض المتوسط** من الجهة الشمالية
- بساحل يزيد طوله عن **1200 كلم**
- تعتبر الجزائر **اكبر** بلد افريقي و يطلق عليه اسم **بوابة** افريقيا.

**12/ ضع (ص) او (خ) امام كل عبارة:**

- ليس للجزائر انتماء مغاربي. <(خ)
- اسس اتحاد المغرب العربي سنة 1989م بمدينة مراكش المغربية. <(ص)
- الجزائر اكبر البلدان العربية مساحة. <(ص)
- الجزائر لها حدود مع 5 دول افريقية. <(خ)
- تطل الجزائر على البحر الابيض المتوسط. <(ص)



-يربط البحر الابيض المتوسط 4 قارات . <( خ )

- لا توجد حواجز طبيعية تفصل بين البلدان المغربية. <( ص )

**13/ اذكر دول المغرب العربي حسب الأرقام :**

1-موريتانيا

2-الصحراء الغربية

3-المغرب الأقصى

4-الجزائر

5-تونس

6-ليبيا

**14/ اربط بين كل عبارة و ما يناسبها :**

الارض هي احد كواكب  
مساحة الجزائر  
تقع الجزائر في  
الجزائر هي احدى  
شمال افريقيا  
بلدان البحر الابيض المتوسط  
2381741 كلم<sup>2</sup>  
المجموعة الشمسية

**15/ اجب عن الاسئلة التالية:**

- ما هي مساحة الجزائر؟ **تقدر مساحة الجزائر 2381741 كلم<sup>2</sup>**

- ما هي مرتبة الجزائر قاريا و عربيا و عالميا من حيث المساحة؟

**تحتل الجزائر المرتبة الاولى قاريا و عربيا و مغاربيا و العاشرة عالميا من حيث المساحة**

-هل للجزائر انتماء مغاربي؟ **نعم للجزائر انتماء مغاربي**

- اذكر 3 عناصر تدل على الانتماء المغاربي؟

**1- روابط دينية و لغوية . 2- روابط ثقافية 3- عادات و تقاليد مشتركة**

- للجزائر حدود مع دول عربية. اذكرها مع ذكر كل جهة

**من الشرق = تونس و ليبيا / من الغرب = الصحراء الغربية و المغرب الأقصى و موريتانيا**

- للجزائر حدود مع دول غير عربية اذكرها مع الجهة التي تحدها

**يحد الجزائر من الجنوب مالي و النيجر و هما الدولتان غير عربيتان اللتان تحدان الجزائر**

-كم قارة يتوسط البحر الابيض المتوسط؟ **يتوسط البحر الابيض المتوسط ثلاث قارات**

**16/ املأ الفراغات بما يناسب معتمدا على ما درست:**

من مميزات الجزائر امتدادها الواسع على مساحة **2381741 كلم<sup>2</sup>** حيث انها تحتل المرتبة العاشرة عالميا والاولى افريقيا و بالتالي فهي الاكبر مساحة مغاربيا و عربيا و افريقيا

لها حدود مع 7 دول افريقيا وهي **تونس - ليبيا - الصحراء الغربية - موريتانيا - مالي - النيجر - المغرب الأقصى**

**17/ ضع الكلمات التالية في مكانها المناسب :**

قارات - الازرق - المحيطات - الكرة - اليابسة

- يسمى كوكب الارض **بالكرة** الارضية .يتشكل سطحها من الماء و **اليابسة** و تتكون اليابسة من خمس **قارات** اما الماء فيتمثل في **البحار والمحيطات** التي تعطي اللون **الازرق** للأرض.

#### 18/ وضعية ادماجية:

ذهبت مع ابي الى المكتبة لأشتري خريطة للعالم لأنني احتاجها في دراستي و اشتري لي ابي ايضا كرة ارضية . وانا اختار الخريطة جاء عندي صاحب المكتبة وسألني ان كنت اعرف قراءة الخريطة كما سألني عن موقع الجزائر فأجبتة بالطبع اعرف قراءتها و بدأت اشرح له كيف يتمكن مستعمل الخريطة من قراءتها و ايضا وضحت له موقع الجزائر و اخبرته بكل ما اعرف عنها

-يمكن مستعمل الخريطة من قراءتها بالرجوع الى مكوناتها و هي :- العنوان – المفتاح –المقياس- الاتجاه

اما بالنسبة للجزائر فهي تقع في شمال قارة افريقيا يحدها من الشمال البحر الابيض المتوسط اما من الشرق تونس و ليبيا .من الغرب يحدها المغرب الاقصى و الصحراء الغربية و موريتانيا اما من جهة الجنوب فنجد مالي والنيجر و هما الدولتان غير العربيتان اللتان تحدان الجزائر .مساحتها تبلغ 2381741 كلم<sup>2</sup> و هي تحتل المرتبة الاولى قاريا و عربيا و مغاربيا و العاشرة عالميا و يطلق عليها بوابة افريقيا

- عند عودتي الى المنزل لاحظت جدتي الكرة الارضية و لاحظت تلك الخطوط الطولية و ايضا الدوائر العرضية و سألتني ان كانت هذه الخطوط و الدوائر موجودة فعلا ؟ وما هو دورها ؟ كما لاحظت ايضا الفرق بين اليابسة و الماء فجلست معها اشرح لها واجيب عن كل استفساراتها

خطوط الطول و دوائر العرض خطوط وهمية فمثلا خط غرينيتش هو خط وهمي يتوسط الكرة الارضية عموديا و يقسمها الى قسمين شرقي و غربي اما دائرة الاستواء فهي دائرة وهمية تتوسط الكرة الارضية افقيا و تقسمها الى قسمين شمالي و جنوبي .تكمن اهمية دائرة العرض انها مسؤولة عن المناخات في العالم (لها علاقة بالفصول الاربعة) و ايضا تحدد المواقع ( ان كانت المواقع تقع جنوب دائرة الاستواء او شماله) اما خط غرينيتش فهو مسؤول عن التوقيت.

تنقسم الارض الى يابسة و ماء بنسب مختلفة فنجد نسبة اليابسة تمثل 29% وهي مقسمة بين القارات و الجزر اما نسبة الماء فهي 71% مقسمة بين البحار و المحيطات و الانهار و البحيرات .....

( يستطيع التلميذ التعبير كما يريد وبأسلوب الذي يريحه المهم ان تكون المعلومات صحيحة و يستطيع توظيفها )

( لا يجب التقيد بإجاباتي و يجب الأخذ بعين الاعتبار ملخصات التلاميذ و التعاريف التي اخذوها في القسم لان كل استاذ له اسلوبه و طريقته في التلخيص ) (و ايضا يرجى الانتباه للدروس و تحديد الدروس التي تم اخذها في القسم)

"" جل من لا يخطئ ""

عند مراجعة الاجوبة يرجى الانتباه لربما وجدت اخطاء في الاجابة قد تكون وقعت مني سهوا او عن طريق خطأ غير مقصود ( اخطاء مطبعية

ان احسنت فمن الله وان اسأت فمن  
نفسى و الشيطان