

على المترشح أن يختار أحد الموضوعين التاليين:

الموضوع الأول

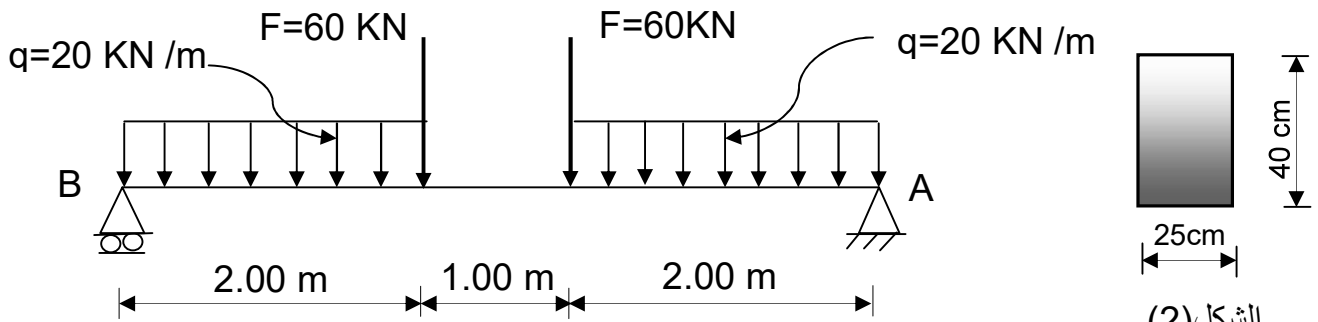
I - الميكانيك التطبيقية:

المسألة الأولى: (06.5 نقاط)

نريد دراسة رافدة ترتكز على مسندين A و B ، تتلقى حمولات كما هو موضح في الرسم الميكانيكي الشكل (1) و مقطعا العرضي مستطيل الشكل كما هو مبين في الشكل (2).

- المسند A مزدوج (مضاعف) .

- المسند B بسيط .



الشكل (1)

الشكل (2)

العمل المطلوب:

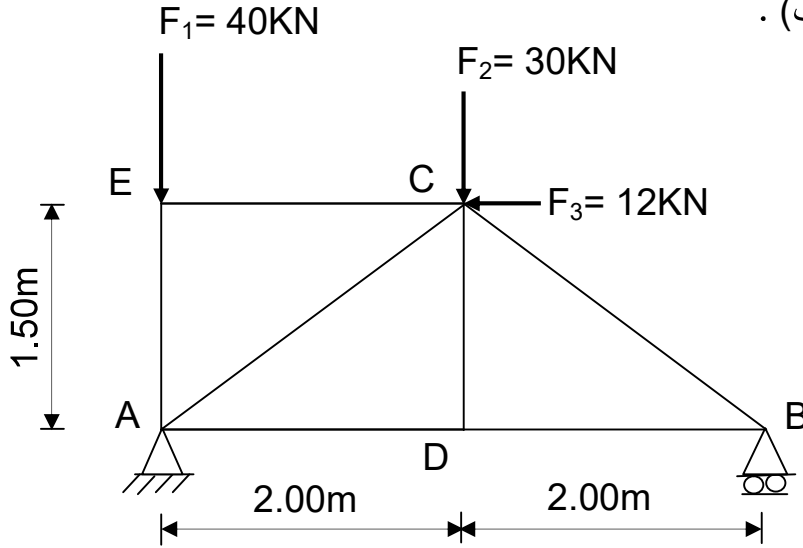
- 1- احسب ردود الأفعال في المسندين A و B .
- 2- اكتب معادلات الجهد القاطع T وعزم الانحناء M_f على طول الرافدة.
- 3- ارسم منحنى T و M_f .
- 4- استنتج T_{max} و M_{fmax} .
- 5- احسب الإجهاد النازمي الأعظمي σ_{max} والإجهاد المماسي الأعظمي τ_{max} المطبقين على الرافدة.

المسألة الثانية : (05.5 نقاط)

يعطى الشكل الميكانيكي للجملة المثلثية في الشكل (3) حيث يرتكز على مسندين :

- المسند A مزدوج (مضاعف) .

- المسند B بسيط .



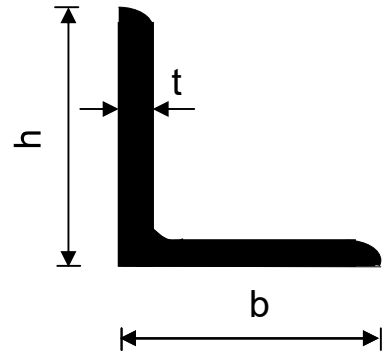
الشكل (3)

العمل المطلوب:

- 1- تأكد من أن النظام محدد سكونيا .
- 2- احسب ردود الأفعال في المسندين A و B
- 3- احسب الجهود الداخلية في القضبان وحدد طبيعتها معتمدا على الطريقة التحليلية مع تدوين النتائج في جدول.
- 4- إذا علمت أن قضبان الجملة المثلثية عبارة عن دعامة مزدوجة : استخرج من الجدول المرفق المجنب المناسب. إذا كان القضيب الأكثر تحميلا يتأثر بجهد داخلي يقدر بـ : 40 kN والإجهاد المسموح به $\bar{\sigma} = 1600 \text{ daN / cm}^2$
- 5- احسب قيمة ΔL للقضيب AE إذا علمت أن معامل المرونة الطولي $E = 2.1 \times 10^6 \text{ daN/cm}^2$

الجدول المرفق

رقم المجنب	المقطع cm ²	الكتلة kg/cm ²	الأبعاد (mm)		
			b = h	t	Ys = zs
25x3	1.42	1.11	25	3	7.21
30x3	1.74	1.36	30	3	8.35
30x4	2.27	1.78	30	4	8.78
35x4	2.67	2.09	35	4	10.00
40x4	3.08	2.42	40	4	11.20
40x5	3.79	2.97	40	5	11.60



II - البناء:

المسألة الأولى: (04 نقاط)

لتحديد مساحة قطعة أرض معرفة برؤوسها A,B,C ذات الإحداثيات القائمة المدونة في الجدول التالي :

النقاط	X (m)	Y (m)
A	150	218
B	315	310
C	220	135

1-احسب السموت : G_{AC} , G_{AB} .

2-احسب الأطوال : L_{AC} , L_{AB} .

3-احسب مساحة قطعة الأرض بطريقة الإحداثيات القطبية .

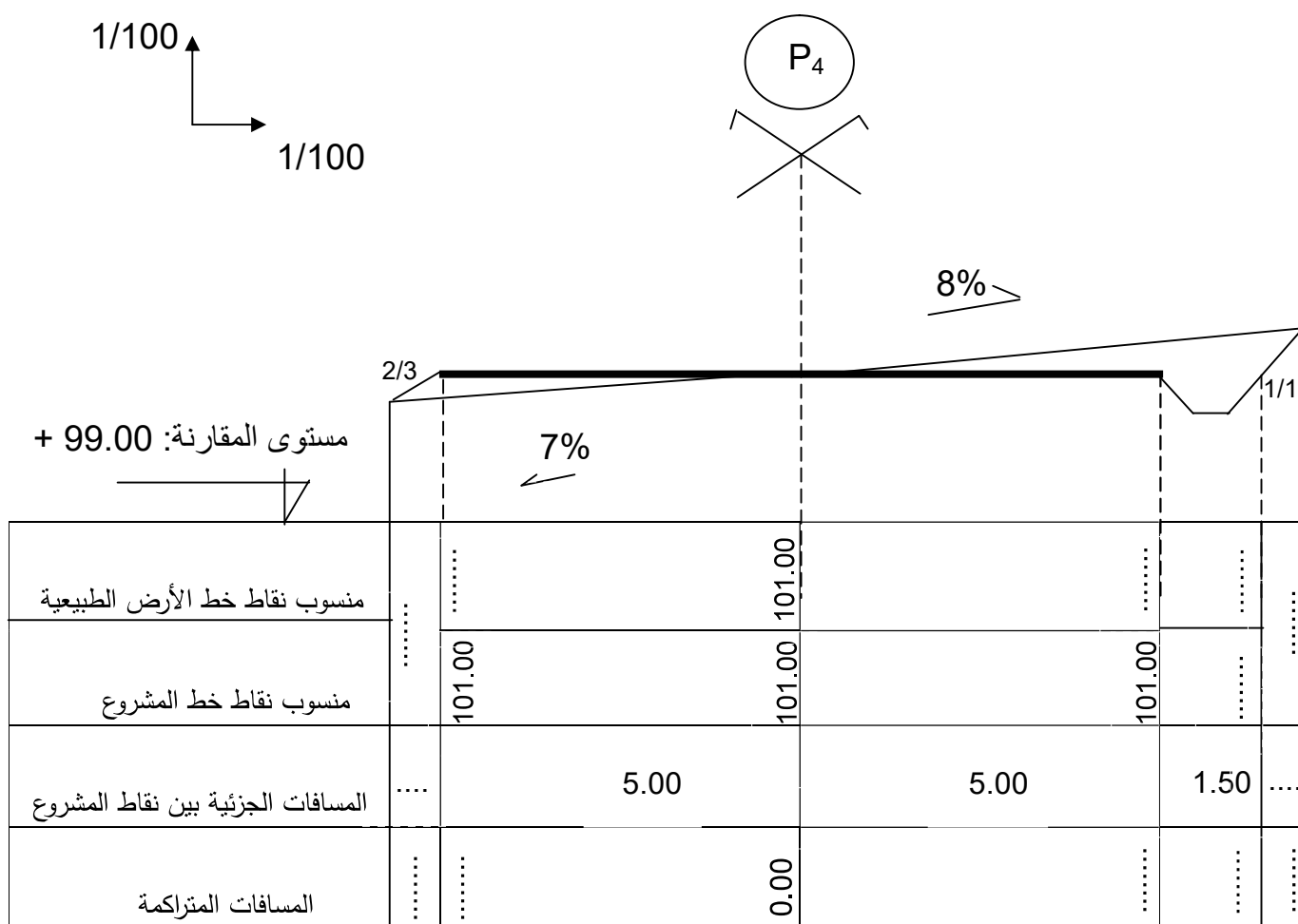
المسألة الثانية: (04 نقاط)

الهدف من المظاهر العرضية هو تحديد حجم أعمال التجريفات وتكون ضرورية كلما تغيرت تضاريس التربة وتمثل كما هو موضح في الصفحة (4 من 9) .

العمل المطلوب:

1-أكمل ملأ جدول المظهر العرضي على الصفحة (4 من 9) .

2-يعتبر المسقط الأفقي إحدى الوثائق المكونة لملف تقني لمشروع طريق ، ما الهدف من إنجاز هذه الوثيقة ؟



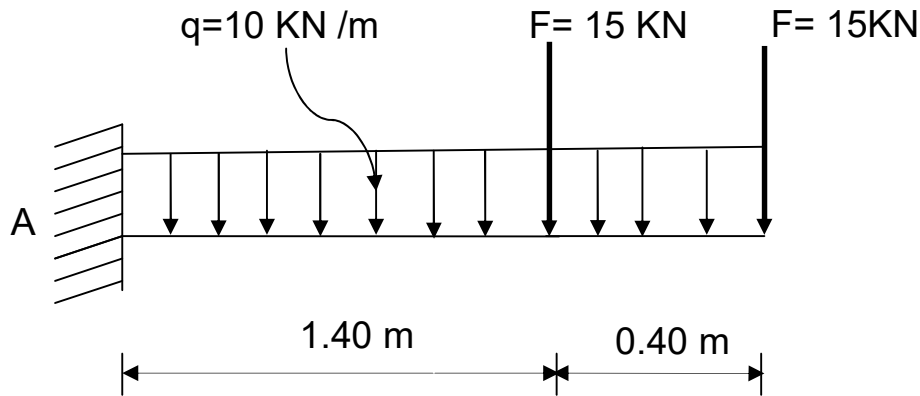
ملاحظة : ترجع هذه الوثيقة مع ورقة الإجابة .

الموضوع الثاني

I - الميكانيك التطبيقية:

المسألة الأولى: (06.5 نقاط)

نريد دراسة رافدة معدنية محملة كما هو موضح في الشكل (1) ومقطعها العرضي مبين في الشكل (2)



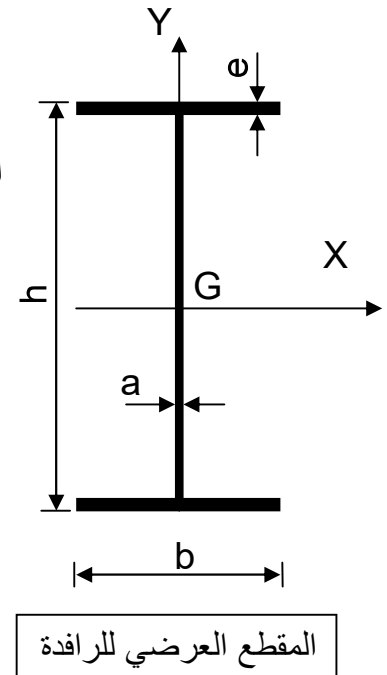
العمل المطلوب:

- 1- احسب ردود الأفعال في المسند A .
- 2- اكتب معادلات الجهد القاطع T و عزم الانحناء M_f .
- 3- ارسم منحنيات الجهد القاطع T و عزم الانحناء M_f .
- 4- استنتج القيمة القصوى لكل من الجهد القاطع T و عزم الانحناء M_f .
- 5- احسب عزم عطالة المقطع العرضي للرافدة بالنسبة للمحور X المار بمركز ثقل المقطع .
- 6- تحقق من مقاومة الرافدة علما أن $\bar{\sigma} = 2800 \text{ daN / cm}^2$

أبعاد المقطع العرضي للرافدة.

المجنب	h(mm)	b(mm)	a(mm)	e(mm)
IPE	270	135	6.6	10.2

الشكل (2)



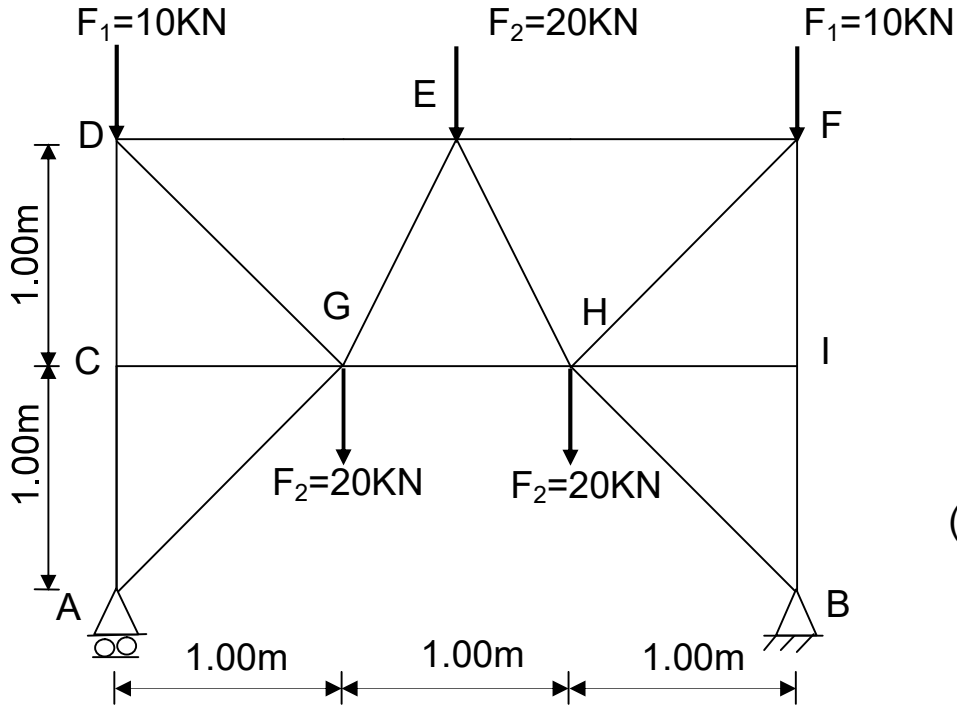
المقطع العرضي للرافدة

المسألة الثانية: (05.5 نقاط)

نريد دراسة النظام المثالي الممثل في الشكل الميكانيكي التالي (أنظر الشكل (3)).

المسند A بسيط.

المسند B مزدوج (مضاعف).



الشكل (3)

العمل المطلوب:

- 1- تأكد من أن النظام محدد سكونيا.
- 2- احسب ردود الأفعال في المسندين A و B مستعينا بتناظر الشكل.
- 3- احسب الجهود الداخلية في القضبان وحدد طبيعتها معتمدا على الطريقة التحليلية مع تدوين النتائج في جدول.
- 4- احسب مساحة المقطع العرضي للقضيب (DG) علما أنه معرض لجهد ناظمي يقدره: 42.43 KN والإجهاد المسموح به $\bar{\sigma} = 1600 \text{ daN / cm}^2$
- 5- إذا كان القضيب (DG) عبارة عن دعامة مزدوجة (25×3) L مقطع العرضي $S = 2.84 \text{ cm}^2$ احسب قيمة التشوه النسبي لهذا القضيب علما أن معامل المرونة الطولي $E = 2.1 \times 10^6 \text{ daN/cm}^2$

II - البناء:

المسألة الأولى: (06 نقاط)

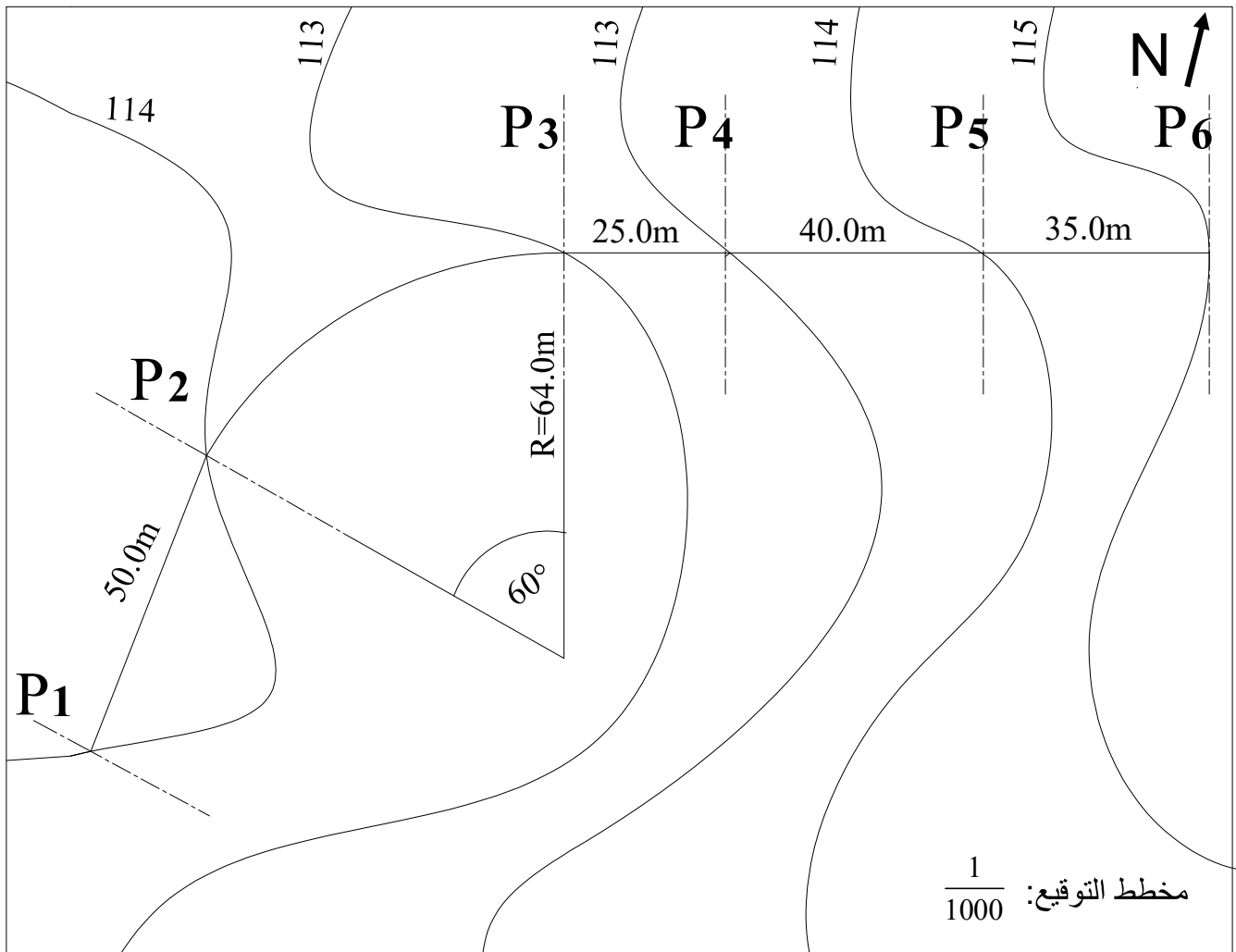
قررت المصالح التقنية دراسة جزء من طريق ممتد من المظهر P_1 إلى P_6 ،
يعطى مخطط التوقيع في الصفحة (7 من 9) .

منسوب خط المشروع في المظهر P_1 يقدر بـ 112.00 m و يصعد بميل قدره 2% إلى غاية المظهر P_6 .

العمل المطلوب:

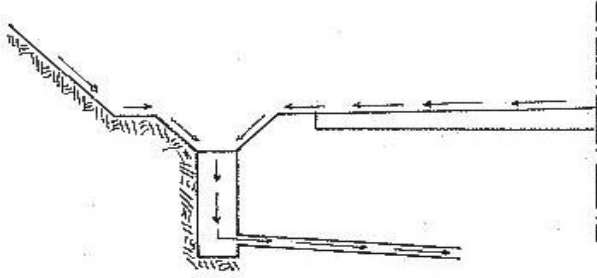
1- أنجز المظهر الطولي الممتد من المظهر P_1 إلى غاية P_6 على الصفحة (9 من 9) معتمدا على مخطط التوقيع.

2- احسب المسافات الناتجة عن المظهر الوهمي إن وجد.

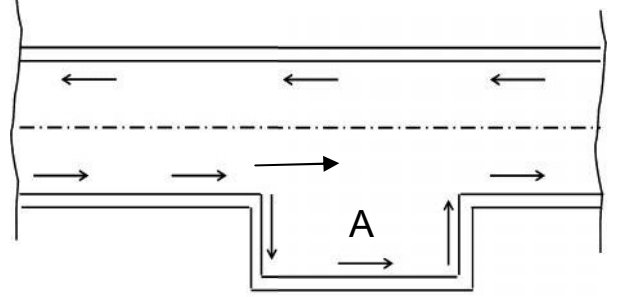


المسألة الثانية: (02 نقاط)

تتكون الطريق عموما من عناصر عامة وأخرى ثانوية.



الشكل (1)



الشكل (2)

- 1- ماذا يمثل الشكل (1) وما هو دوره؟
- 2- ماذا يمثل الشكل (2) وما هو دور المساحة A في الطريق و متى تتجزأ؟

1/100 ↗
1/1000

مستوى المقارنة: 110.00



أرقام المظاهر العرضية	
منسوب نقاط خط الأرض الطبيعية	
منسوب نقاط خط المشروع	
المسافات الجزئية	
المسافات المتراكمة	
الأميال	
التراصف والمنحنيات	