

## الجمهورية الجزائرية الديمقراطية الشعبية

الديوان الوطني للامتحانات والمسابقات

وزارة التربية الوطنية

دورة: جوان 2009

امتحان شهادة بكالوريا التعليم الثانوي

الشعب : العلوم التجريبية، الرياضيات، التقني رياضي

المدة : 03 ساعات ونصف

اختبار في مادة : التاريخ والجغرافيا

على المترشح أن يختار أحد الموضوعين التاليين:

### الموضوع الأول

#### التاريخ

الجزء الأول: (06 نقاط )

"... بدأ تصنيف دول العالم استنادا إلى انتمائها العقائدي ، واستخدمت الدولتان القطبيتان سياسات الترغيب والترهيب، لحمل بقية دول العالم الثالث على الانضواء تحت لوائها، وانتقلت حالة العداء والتوتر الشديد في علاقات القطبين إلى منظمة الأمم المتحدة واستخدام الدول دائمة العضوية في مجلس الأمن لحقها في الاعتراض التوقيفي على قرارات المجلس (حق الفيتو) مما أدى إلى إصابة هذا الجهاز الحيوي من أجهزة المنظمة بالشلل فعجز عن القيام بدوره في حفظ السلم والأمن الدوليين. وقد أدى ذلك إلى تراجع مصداقية الأمم المتحدة كمنظمة دولية..."

ممدوح منصور وأحمد وهبان / التاريخ الدبلوماسي

- 1 - أشرح ما تحته خط في النص.
- 2 - عرف الشخصيات التالية:  
أحمد سوكرانو - جوزيف بروز تيتو - دوايت إيزنهاور - فيدال كاسترو.
- 3 - وقع على خريطة العالم الدول دائمة العضوية في مجلس الأمن.

الجزء الثاني: ( 04 نقاط )

دخلت الثورة الجزائرية بعد عام 1956 مرحلة جديدة من الكفاح، نجاح عسكري ودبلوماسي، مما جعل السلطات الاستعمارية تلجأ إلى مختلف الوسائل للقضاء عليها.

المطلوب : انطلاقا من الفكرة، واستنادا على ما درست. أكتب مقالا تاريخيا تجيب فيه على:

- 1 - مظاهر النجاح العسكري والدبلوماسي للثورة بعد عام 1956.
- 2 - رد فعل الاستعمار تجاه الثورة.

## الجغرافيا


### الجزء الأول: ( 06 نقاط )

(... سمحت التحسينات في ميادين النقل والاتصالات والمعرفة والتكنولوجيا بتقسيم أكثر دقة للعمل بحيث أمكن للأنشطة المنتجة التي كانت مدمجة في السابق أن تتجزأ وتتوزع ضمن شبكة دولية، وقد شملت تلك التجزئة على مدى الزمن: الأسواق العالمية تبعا لتلازمها مع انخفاض تكلفة الخدمات واكتسابها طابعا تجاريا. كما نتجت عن مجموعة من التجديدات التكنولوجية التي يسرت فك التركيز الجغرافي للإنتاج، وفي ظل تسارع التطور التكنولوجي لم يعد بإمكان الشركات أن تضمن بقاءها بالاكتماء بما تحققه من فوائد داخل أسواقها الوطنية ... الشركات لم تكن مخيرة في الإنتاج للأسواق الخارجية بل كانت مرغمة على ذلك أمام خطر الزوال الذي كان يهددها.)

المصدر : جوزيف ريبول 1999 - حركة رؤوس الأموال الدولية

1 - اشرح ما تحته خط في النص.

2 - إليك دائرة نسبية تمثل حصة الأقطار والمناطق من الإجمالي العالمي لنفقات البحث والتطوير لسنة 2002.



— علق على نسب الدائرة.

3 - وقع على خريطة العالم الدول التالية : الولايات المتحدة الأمريكية - ألمانيا - اليابان - جنوب إفريقيا.

### الجزء الثاني: ( 04 نقاط )

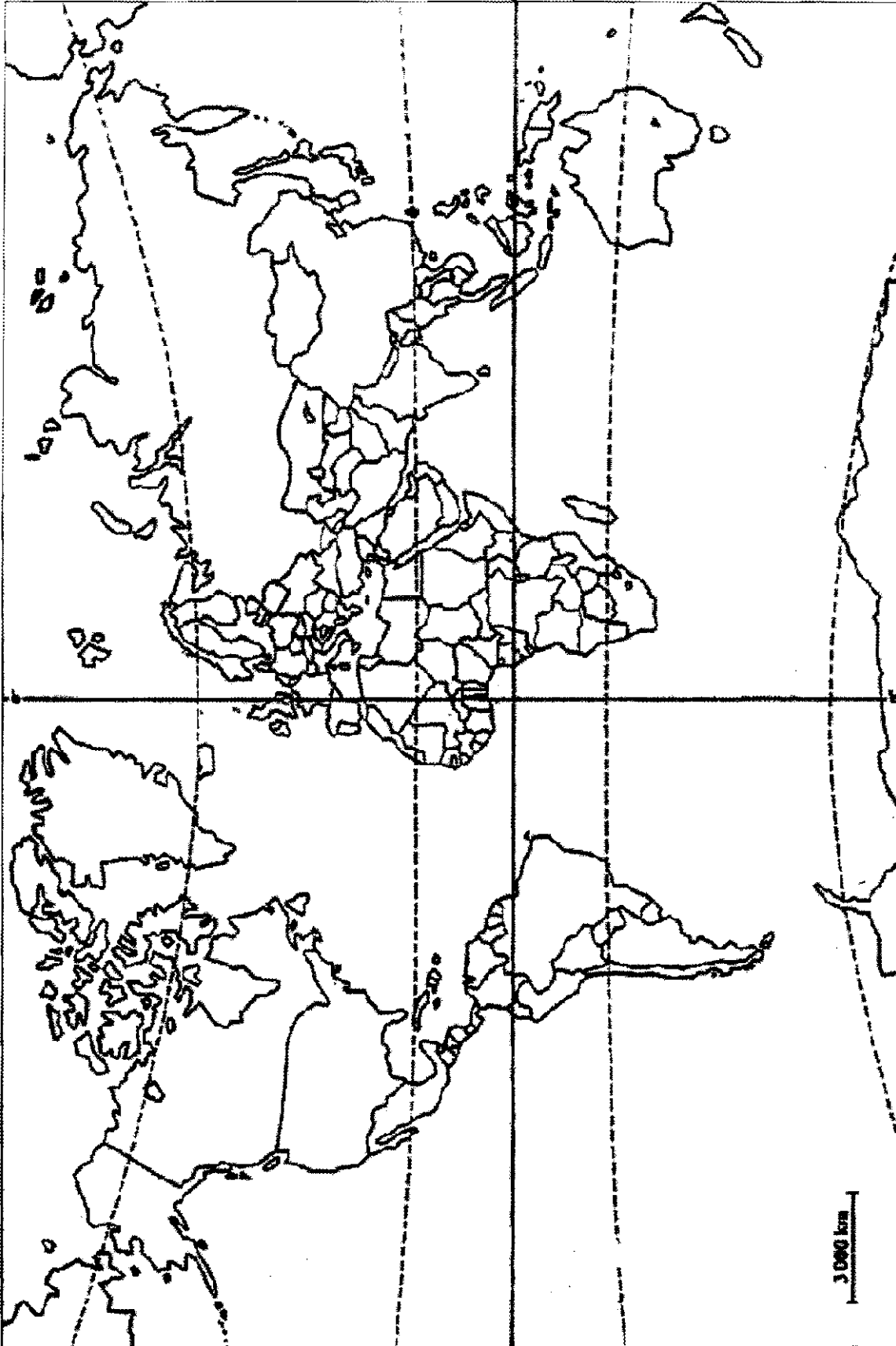
يمثل البناء المشترك الذي يميز الاتحاد الأوروبي عن بقية الثالوث الاقتصادي بما يتضمنه من أهداف وما قطعه من مراحل وما يستند إليه من سياسات مشتركة متنوعة دعامة أساسية للقوة الأوروبية.

المطلوب : انطلاقا من الفكرة، واعتمادا على ما درست. أكتب مقالا جغرافيا تجيب فيه على :

1- دور التكتل في تحقيق القوة الاقتصادية للاتحاد الأوروبي.

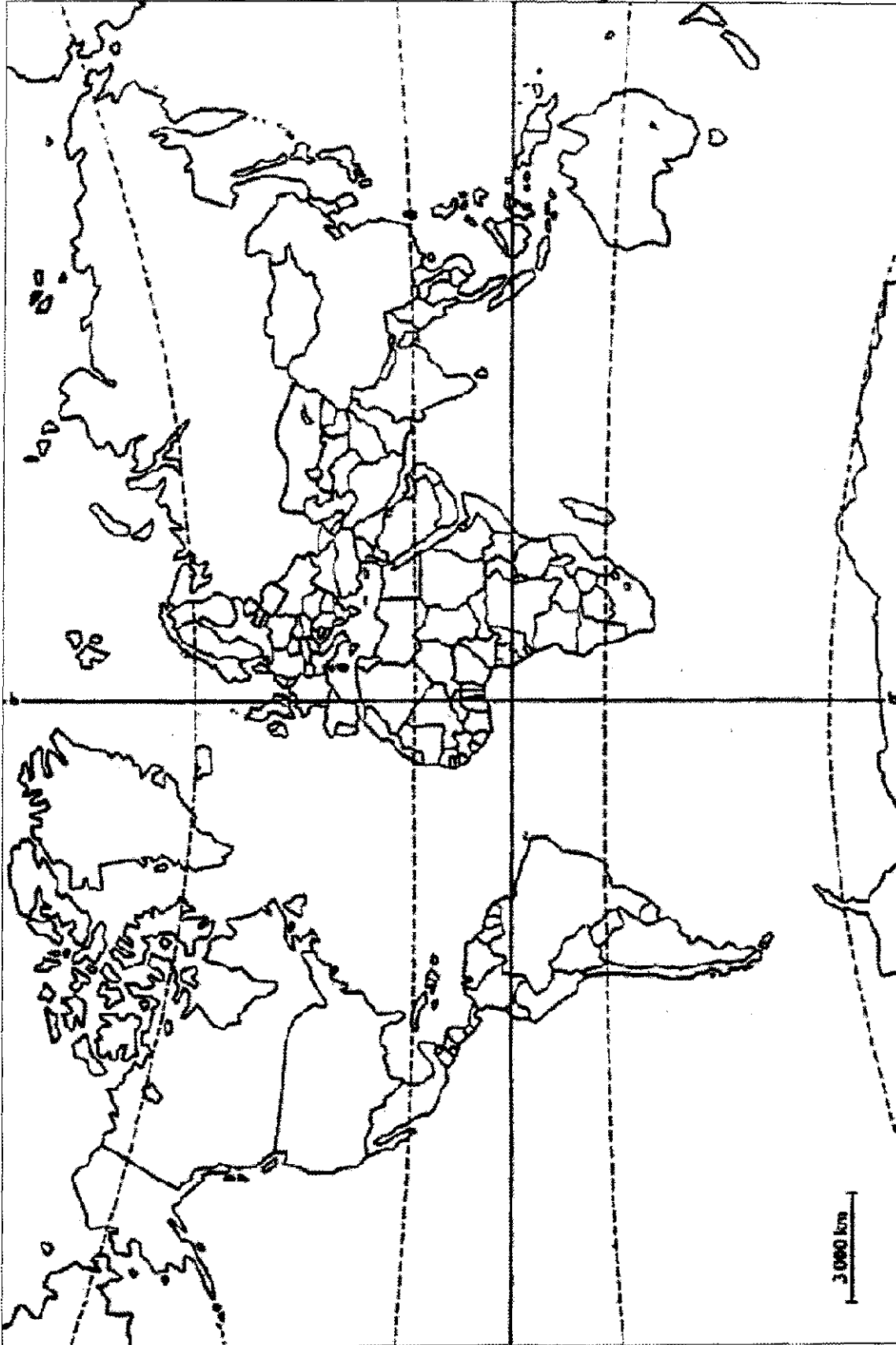
2 - المعوقات التي واجهت هذا التكتل.

خريطة العالم : وقع عليها الدول الدائمة العضوية



ينجز العمل على الخريطة وتعاد مع أوراق الإجابة

خريطة العالم : وقع عليها الدول الواردة في المطلب الثالث من الجغرافيا



ينجز العمل على الخريطة وتعاد مع أوراق الإجابة

## الموضوع الثاني

### التاريخ

#### الجزء الأول: ( 06 نقاط )

" في الصراع الاستراتيجي بين الكتلتين، كان هناك صراع من نوع آخر تمثل في الصراعات التقنية وسباق التسلح، كما لم يذخر الطرفان جهدا في عملية التجسس واغتيال عملاء الطرف الندد. وتجدر الإشارة أن الصراعات المسلحة الجانبية كحرب فيتنام ومثيلاتها أرقّت منام العالم في احتمال تطور تلك الصراعات إلى حرب عالمية نووية. كان من نتائج الحرب الباردة انهيار الاتحاد السوفيتي وميلاد النظام العالمي الجديد."

اسماعيل صبري / العلاقات السياسية والدولية

- 1- اشرح ما تحته خط في النص.
- 2- عرف الشخصيات التالية :  
هوارى بومدين - جواهر لال نهرو - ميخائيل غورباتشوف - رونالد ريغن.
- 3- على خريطة الجزائر المرفقة وقع الولايات الثورية المنبثقة عن مؤتمر الصومام.

#### الجزء الثاني: (04 نقاط)

إن النظام الدولي السابق، ذي القطبية الثنائية والذي هيمن على العلاقات الدولية لأكثر من أربعة عقود، قد انتهى عمليا بتدهور الاتحاد السوفيتي وتفككه ومعه المعسكر الشيوعي لتبقى الولايات المتحدة كدركي وحيد في العالم، وقوة الاستقطاب الوحيدة في العالم كله، وخصما وحكما وحيدا فيه.

المطلوب : انطلاقا من الفقرة، واعتمادا على ما درست. اكتب مقالا تاريخيا تجيب فيه على:

- 1- ملامح النظام الدولي الجديد.
- 2- مؤسساته الفاعلة.

### الجغرافيا

#### الجزء الأول: ( 06 نقاط )

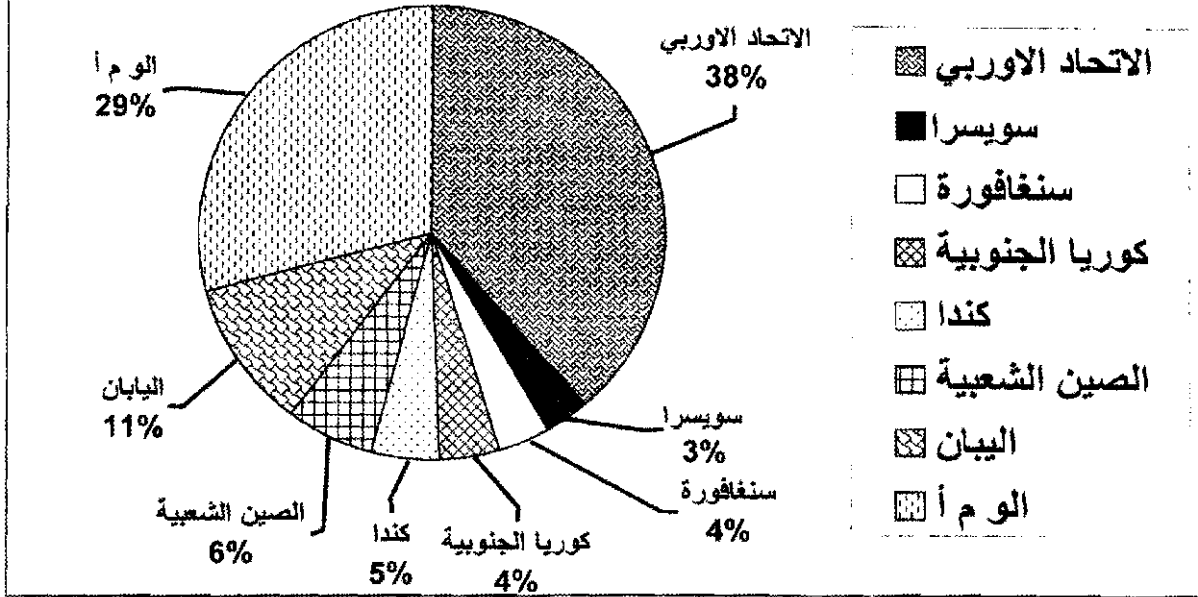
" يضم الاتحاد الأوروبي أكثر من 455 مليون نسمة الذي توحدت فيه 27 دولة مشكلة فضاء اقتصاديا مقبلا على الاندماج وفق شروط، أولها الانتماء إلى القارة الأوروبية، التسيير بواسطة مؤسسات ديمقراطية للوصول إلى مستوى نمو اقتصادي ملائم... يشهد الفضاء الجغرافي للاتحاد الأوروبي صعوبات قد تعيق الاندماج المرتقب، ويتمثل ذلك في الأزمات الحادة في بعض البلدان."

الكتاب المدرسي السنة الثالثة ثانوي ص65

- 1- اشرح ما تحته خط في النص.
- 2- وقع على خريطة الاتحاد الأوروبي الدول المنظمة له بين 1981 و 1995.

### 3- علق على الرسم التالي:

حصة الاتحاد الاوربي من اجمالي المبادلات العالمية للخدمات سنة 2004م



الجزء الثاني: ( 04 نقاط )

يتميز المجال العالمي بتفاوت واضح في التقدم الاقتصادي والاجتماعي المرتبط بعوامل اقتصادية واجتماعية.

المطلوب : انطلاقا من الفكرة، واعتمادا على ما درست. اكتب مقالا جغرافيا تجيب فيه على :

- 1- عوامل التفاوت بين الشمال والجنوب.
- 2- مظاهر التفاوت الاقتصادي والاجتماعي بين العالمين.

خريطة الجزائر : توقيع ولايات الثورة حسب تقسيم مؤتمر الصومام



ينجز العمل على الخريطة ويعاد مع أوراق الإجابة

خريطة أوروبا: توقيع الدول المنظمة للاتحاد الأوروبي بين 1981 و1995



ينجز العمل على الخريطة ويعاد مع أوراق الإجابة



## الإجابة النموذجية و سلم التنقيط

المدة : 03 ساعات ونصف

دورة: 2009

الإجابة النموذجية لموضوع مقترح لامتحان شهادة البكالوريا  
الشعب: علوم تجريبية/ رياضيات / تقني رياضي

محلور الموضوع	عناصر الإجابة	العلامة
		مجزأة المجموع

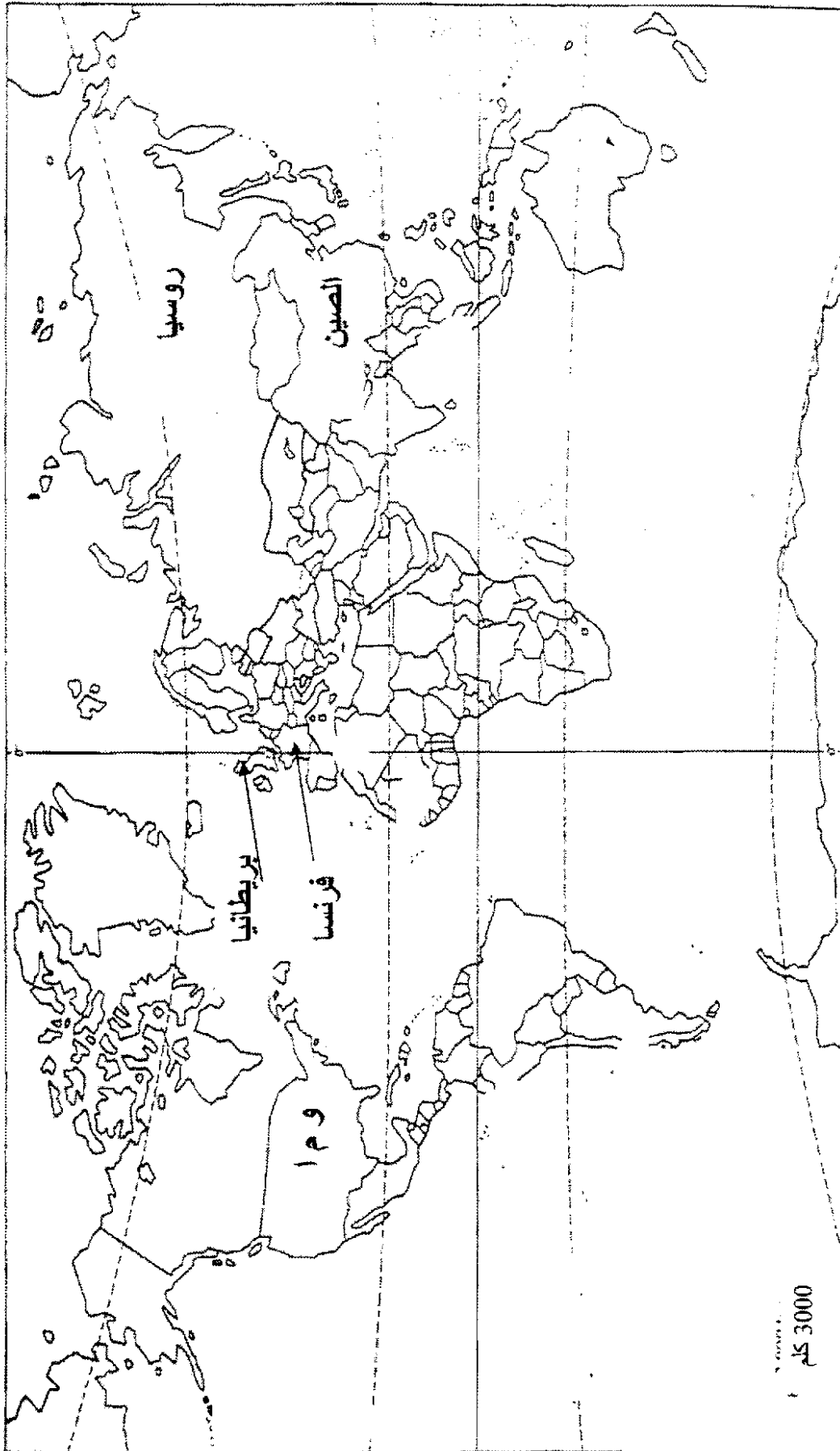
### الموضوع الأول

#### التاريخ

		<b>الجزء الأول: ( 6 نقاط)</b>
		1- <u>شرح ما تحته خط في النص :</u>
0.50		- العالم الثالث : مصطلح سياسي ، اقتصادي واجتماعي يضم الدول حديثة العهد بالاستقلال.
0.50		- منظمة الأمم المتحدة : هيئة أممية تأسست عام 1945، تضم الدول المستقلة مقرها نيويورك تعمل على تحقيق الأمن والسلم في العالم.
0.50		- مجلس الأمن : الجهاز التنفيذي في هيئة الأمم المتحدة يتكون من 15 عضوا كدائمون و 10 ينتخبون لمدة سنتين .
0.50		- حق الفيتو : امتياز تتمتع به الدول دائمة العضوية في مجلس الأمن بالامتناع أو الاعتراض على أي قرار صادر منه.
		2- <u>تعريف الشخصيات :</u>
0.75		- احمد سوكارنو : قاد كفاح شعبه من أجل الاستقلال .أول رئيس لاندونيسيا المستقلة.ترأس مؤتمر باندونغ 1955. من أبرز مؤسسي حركة عدم الانحياز.
0.75		- جوزيف بروز تيتو : رئيس جمهورية يوغسلافيا.من أبرز قادة الحركة الشيوعية في العالم ، ومن مؤسسي حركة عدم الانحياز.
0.50		- دوايت ايزنهاور : سياسي وعسكري أمريكي .قائد الحلف الاطلسي سنة 1949. رئيس الولايات المتحدة الامريكية 1953-1961. أنهى الحرب الكورية 1953.صاحب المشروع الذي يحمل اسمه.
0.75		- فيدال كاسترو : رئيس كوبا منذ 1959، أطاح بحكم الديكتاتور باتيستا مقيما نظاما شيوعيا في الجزيرة .عرفت فترته أزمة كوبا 1962.
		3- <u>التوقيع على الخريطة</u>
01.25	5×0.25	الو.م.أ - روسيا - بريطانيا - فرنسا - الصين

العلامة		عناصر الإجابة	محاو الموضوع
المجموع	مجزاة		
0.50	0.50	<b>الجزء الثاني: (4 نقاط)</b>	المقدمة
		نجاحات الثورة الجزائرية بعد مؤتمر الصومام، وانعكاسات ذلك على الاستعمار الفرنسي.	
01.50	0.25	1- <u>مظاهر النجاح العسكري والديبلوماسي للثورة بعد عام 1956</u>	العرض
		أ - <u>النجاح العسكري :</u>	
		- توسيع دائرة الثورة لتشمل مختلف مناطق الوطن .	
		- البناء الهيكلي لجيش التحرير الوطني وضبط المسؤوليات.	
		- إنشاء قيادتين للعمليات العسكرية:	
		* القيادة الشرقية في غار الدماء بتونس.	
		* القيادة الغربية في وجدة بالمغرب.	
		- تقسيم التراب الوطني إلى 6 ولايات عسكرية .	
		ب : <u>النجاح الديبلوماسي</u>	
		- مواصلة عرض القضية الجزائرية في المحافل الدولية .	
11.50	0.25	- تكثيف النشاط الإعلامي للتعريف بالثورة الجزائرية وفضح السياسة الاستعمارية وإثارة الرأي العام الفرنسي ضد أشكال الإبادة المرتكبة في الجزائر.	الخاتمة
		2- <u>رد فعل الاستعمار تجاه الثورة .</u>	
		أ : <u>الرد العسكري</u>	
		- تكثيف العمليات العسكرية وإنشاء خطوط الأسلاك المكهربة .	
		- إنشاء المحتشدات ومراكز التعذيب .	
		- تطبيق سياسة الأرض المحروقة وتجنيد العملاء.	
		ب : <u>الرد السياسي</u>	
		- إنشاء القوة الثالثة من العملاء .	
		- تظليل الرأي العام العالمي بالتعتيم الإعلامي .	
		لم تفلح سياسة القوة والبطش ولا سياسة الإغراء في إجهاد الثورة الجزائرية.	
0.50	05.0		

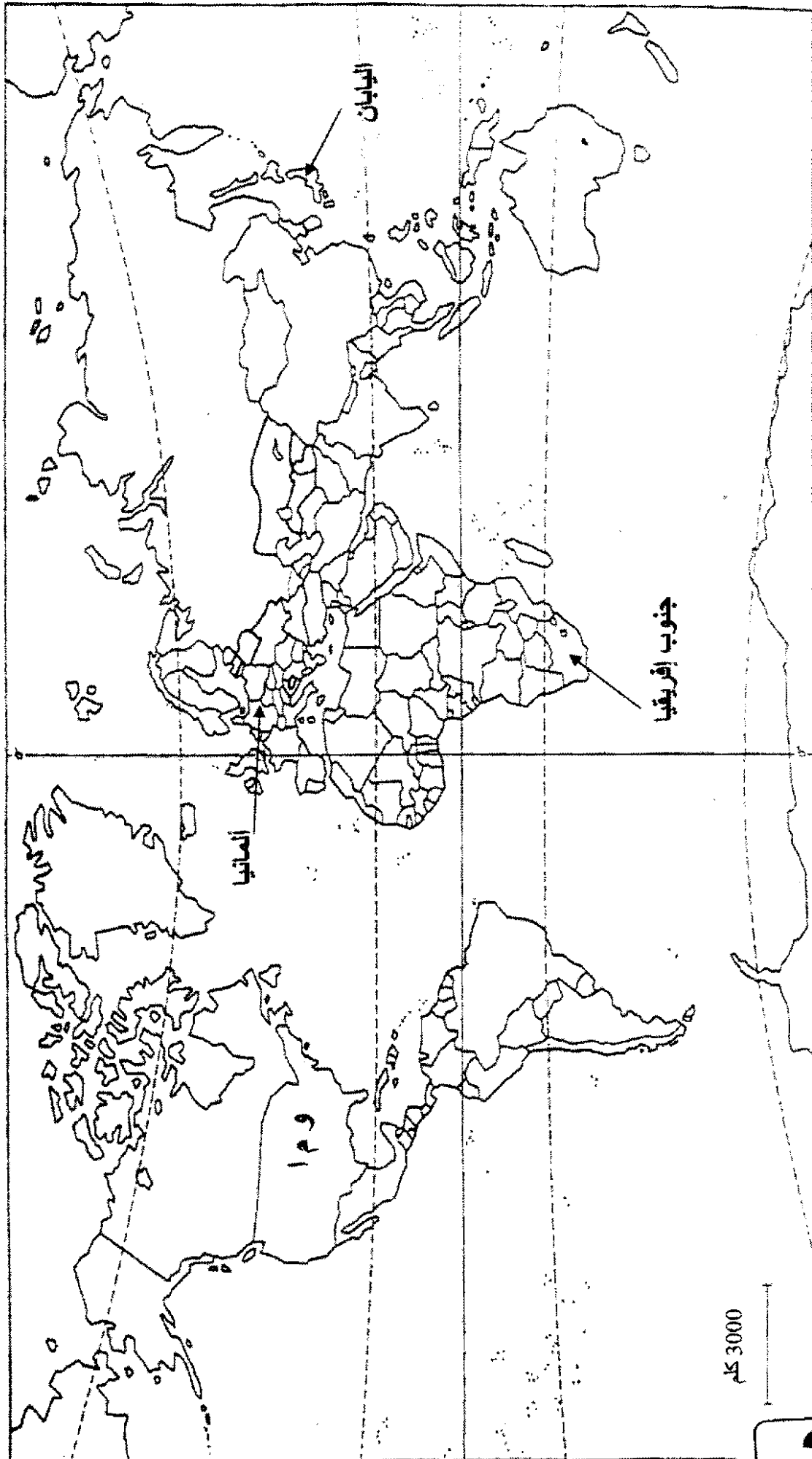
## خريطة العالم : 5 دول دائمة العضوية في مجلس الأمن



العلامة		عناصر الإجابة	محاو الموضوع
المجموع	مجزأة	الجغرافيا	
		<b>الجزء الأول: ( 6 نقاط)</b>	
		1- <u>شرح ما تحته خط في النص :</u>	
02.50	0.75	- التكنولوجيا :هي أعلى درجات التطور العلمي والمقصود بها علم التقنيات المطبقة في مختلف المجالات .	
	0.75	- الأسواق العالمية : الفضاءات المسخرة لتداول جميع السلع ( بيع ، شراء ومقايضة) وعقد الصفقات التجارية.	
	0.50	- الشركات : مؤسسات متخصصة متعددة المجالات ، وفي أنشطة مختلفة	
	0.50	- الفوائد : القيم المالية الناتجة عن بيع منتج معين أو استثمار في مجال ما	
		2- <u>التعليق على الدائرة النسبية :</u>	
02.50	0.50	- هيمنة الولايات المتحدة الأمريكية على مجال البحث العلمي بأكثر من 3/1 النسبة العالمية (34%)، خصصت 34 مليار دولار سنة 2005 .	
	0.50	- المرتبة الثانية .الاتحاد الأوربي بأكثر من 5/1 النسبة العالمية(24% لمجموع 15 دولة).يخصص ما نسبته 2.5% من ميزانية دوله.	
	0.50	- احتلال اليابان لوحده المرتبة 3 عالميا بنسبة22% ، يخصص 3.1% من ميزانيته للبحث العلمي .	
	0.50	- لا تمثل كل الدول النامية إلا 22% فقط من النسبة العالمية	
	0.50	-هيمنة العالم المتطور على مجال البحث والتطوير بنسبة78% ولا تتعد نسبة العالم المتخلف 22%	
		3- <u>التوقيع على خريطة العالم</u>	
1.00	0.25	الو.م.أ	
	0.25	المانيا	
	0.25	اليابان	
	0.25	جنوب افريقيا	

العلامة		عناصر الإجابة	المجموع
المجموع	مجزأة		
		<b>الجزء الثاني: (4 نقاط)</b>	
0.50	0.50	الأهمية الإستراتيجية للتكتلات الاقتصادية في ظل التطورات الدولية الراهنة	قيمة
		1- دور التكتل في تحقيق القوة الاقتصادية للإتحاد الأوربي:	
	0.25	- مضاعفة الوزن الاقتصادي للاتحاد.	عرض
01.50	0.50	- تحقيق مشروع الاندماج الاقتصادي والسياسي.	
	0.50	- مواجهة منافسة الدول الكبرى.	
	0.25	- تحقيق فضاء السلام والرفاهية في أوروبا ( أحد أقطاب الثالوث العالمي ومركزا من مراكز القرار).	
		2- المعوقات التي واجهت التكتل :	
	0.25	- ضيق المساحة مقارنة بالسكان.	
01.50	0.50	- الافتقار إلى المواد الأولية خاصة موارد الطاقة.	
	0.25	- الفوارق الاقتصادية والاجتماعية بين الدول الأعضاء.	
	0.25	- عدم احترام مبدأ الأفضلية.	
	0.25	- المنافسة الخارجية خاصة الولايات المتحدة واليابان.	الخاتمة
0.50	0.50	على الرغم من المعوقات التي تواجه الاتحاد الأوربي إلا أن الإرادة تغلبت وتحققت آمال وطموحات شعوب أوروبا.	

خريطة العالم : توقيع الدول: و م أ - ألمانيا- اليابان- جنوب إفريقيا



العلامة		عناصر الإجابة	محلور موضوع
المجموع	مجزأة		
الموضوع الثاني			
التاريخ			
		الجزء الأول ( 6 نقاط)	
		1* شرح ما تحته خط :	
02.00	0.50	- سباق التسلح :السياسة العسكرية المنتهجة من طرف المعسكرين بهدف التفوق في المجال العسكري لمختلف أنواع الأسلحة من توفير الردع العسكري.	
	0.50	- عملاء:الخونة الموالين للعدو	
	0.50	- الحرب الباردة : صراع إيديولوجي بين المعسكر الشرقي الشيوعي بزعامة الاتحاد السوفيتي وغربي رأسمالي بزعامة الولايات المتحدة الأمريكية.	
	0.50	- النظام العالمي الجديد :سياسة تبنتها الولايات المتحدة بعد سقوط الاتحاد السوفيتي لغرض الهيمنة والاستغلال والتحكم الأحادي في تسيير شؤون العالم.	
		2* تعريف الشخصيات :	
02.50	0.75	- هوارى بومدين : قائد أركان جيش التحرير الوطني خلال الثورة . وزير الدفاع بعد الاستقلال. رئيس دولة من 1965-1976 فرئيس جمهورية حتى 1978/12/27.	
	0.75	- جواهر لال نهرو : رئيس المؤتمر الوطني الهندي.وزير أول من 1947 إلى 1964 .من أقطاب حركة عدم الانحياز	
	0.50	- ميخائيل غورباتشوف" آخر رؤساء الإتحاد السوفيتي 1985-1991 . مهندس تفكيك الاتحاد السوفيتي. حاصل على جائزة نوبل للسلام .	
	0.50	- رونالد ريغن : رئيس الولايات المتحدة الأمريكية 1981-1989.صاحب فكرة حرب النجوم . وقع مع الاتحاد السوفيتي على معاهدة تدمير الصواريخ النووية	
1.50	6×0.25	3* التوقيع على الخريطة	

العلامة		عناصر الإجابة	محاور الموضوع
المجموع	مجزأة		
0.50	0.50	<b>الجزء الثاني (4 نقاط)</b> انهيار المعسكر الشيوعي وتفكك الاتحاد السوفياتي فرض القوة الأمريكية المطلقة على العالم	المقدمة
	0.25	1 - ملامح النظام الدولي الجديد :	العرض
01.5	0.50	- تهميش دور الاتحاد السوفياتي في العلاقات الدولية	
	0.50	- تهميش المنظمات العالمية والإقليمية	
	0.50	- غزو الو.م.أ واحتلالها العديد من المناطق في العالم (العراق 2003 ، أفغانستان 2001 ...)	
11.50	0.25	- الدعم اللامتناهي للكيان الصهيوني	الخاتمة
	0.50	2 - <u>مؤسساته الفاعلة:</u>	
	0.50	- الاقتصادية : صندوق النقد الدولي، البنك العالمي، منظمة التجارة العالمية	
	0.50	الشركات الاحتكارية	
	0.25	السياسية : هيئة الأمم المتحدة	
0.50	0.25	العسكرية : حلف الشمال الأطلسي	
	0.25	الإعلامية : وكالات الأنباء ، الانترنت	
	0.50	عانى الشعوب الضعيفة في ظل القطبية الأحادية ما لم تعانیه في ظل القطبية الثنائية.	



## الولايات المنبثقة عن مؤتمر الصومام



العلامة		عناصر الإجابة	محاور الموضوع
المجموع	مجزأة		
الجغرافيا			
		<b>الجزء الأول (6نقاط)</b>	
		<b>1* شرح ما تحته خط:</b>	
	0.75	-الاتحاد الأوروبي : تكتل اقتصادي سياسي ثقافي اجتماعي، ظهر بموجب معاهدة روما 1957 ويبلغ تعداد دوله حاليا 27 دولة أوروبية.	
12.50	0.50	- الاندماج :سياسة تبناها الاتحاد الأوروبي لتحقيق الوحدة الشاملة	
	0.75	- النمو الاقتصادي: مؤشر كمي يقيس عملية الغنى(الثراء) لبلد معين خلال فترة زمنية محدودة.	
	0.50	-الفضاء الجغرافي:الامتداد الجغرافي للاتحاد الأوروبي الذي تقدر مساحته بحوالي 3 مليون كلم <sup>2</sup>	
11.50	6×0.25	<b>2*التوقيع على الخريطة</b>	
		<b>3* التعليق على الرسم:</b>	
	0.75	- ارتفاع مساهمة الاتحاد الأوروبي عالميا في قطاع الخدمات 26 %نتيجة:	
12.00	0.25	- التكتل الاقتصادي بين دول الاتحاد.	
	0.25	- تنوع الأنشطة الخدماتية.	
	0.75	- ارتفاع مساهمة الاتحاد الأوروبي في قطاعي الزراعة والصناعة عالميا	
		<b>الجزء الثاني (4نقاط)</b>	
0.50	0.50	التقدم والتخلف بين الإرث التاريخي والهيمنة.	المقدمة
		<b>1- عوامل التفاوت بين الشمال والجنوب:</b>	
	0.50	- الاستعمار (استفادة الشمال واستنزاف خيرات الجنوب)	
11.50	0.25	- الاستقرار السياسي في الشمال وانعدامه في الجنوب.	العرض
	0.25	- التحكم في التكنولوجيا في الشمال والضعف في الجنوب.	
	0.25	- نجاح السياسات الاقتصادية في الشمال وفشلها في الجنوب.	
	0.25	- طبيعة العلاقات الاقتصادية بين الشمال والجنوب (غير عادلة)	

نوع	عناصر الإجابة		العلامة	
			مجزأة	المجموع
نص	1- مظاهر التفاوت الاقتصادية والاجتماعية بين العالمين:			
	* الاقتصادية:			
	-	الزراعة (35% في الجنوب، 65% في الشمال).	0.25	
	-	الصناعة (10% في الجنوب 90% في الشمال).	0.25	
	-	التجارة الدولية (18% في الجنوب 82% في الشمال).	0.25	01.50
	* الاجتماعية:			
	-	الدخل الفردي (1500 دولار في الجنوب 15000 دولار في الشمال)	0.25	
	-	التخمة في الشمال وسوء التغذية والمجاعة في الجنوب.	0.25	
	-	الأمية في الجنوب 40% وشبه منعدمة في الشمال.	0.25	
	خروج عالم الجنوب من التخلف مرهون بحسن استغلال إمكاناته وتنمية التعاون فيما بين دوله.		0.50	0.50

الدول العضوة في الاتحاد الأوروبي من 1981 إلى 1995

