

الجمهورية الجزائرية الديمقراطية الشعبية

الديوان الوطني للامتحانات والمسابقات

دورة: جوان 2009

وزارة التربية الوطنية

امتحان شهادة بكالوريا التعليم الثانوي

الشعبة : آداب وفلسفة

المدة : 04 ساعات ونصف

اختبار في مادة : التاريخ والجغرافيا

على المترشح أن يختار أحد الموضوعين التاليين
الموضوع الأول : (20 نقطة)

التاريخ :

الجزء الأول: (06 نقاط)

"حقا لقد تراجع الاستعمار القديم في عدة جهات و جبهات لكنه في نفس الوقت يمد نفوذه تحت صور أخرى في العالم، ويعمل على تأمين سيطرته على ثروات الشعوب النامية و مواردها.
إن المهام الملقاة على دول عدم الانحياز تتمثل حسب رأينا في ضمان استقلالها الوطني و تحقيق
تتميتها لاستكمال هذا الاستقلال و تعزيزه و مناصرة حركات التحرر، ومصارعة الصهيونية و التمييز
العنصري....و جميع مظاهر الاستغلال و الاستعمار الجديد و الامبريالية..."
مقتطفات من خطاب الرئيس هواري بومدين بمناسبة افتتاح المؤتمر الرابع لحركة
عدم الانحياز المنعقد بالجزائر ما بين 9 سبتمبر 1973.

1- حدد مفهوم المصطلحات التي تحتها خط.

2- عرف بالشخصيات التالية:

- ميخائيل غورباتشوف - مانديس فرانس - رونالد ريغن - محمد بوضياف.
3 - أكمل جدول الأحداث:

الحدث	تاريخه
تقسيم كوريا	
	23 مارس 1954
مشروع مارشال	
	06 أكتوبر 1947

4- على خريطة الجزائر المرفقة وقع الولايات التاريخية المنبثقة عن مؤتمر الصومام :

الجزء الثاني: (04 نقاط)

أعطى مؤتمر الصومام 20 أوت 1956 محتوى للثورة ووضعها في مسارها الحقيقي وقادها نحو النصر
المطلوب : انطلاقا من الفقرة واعتمادا على ما درست ،أكتب مقالا تاريخيا تبين فيه :
1- الهيئات المنبثقة عن المؤتمر .
2- استراتيجية الثورة في مواجهة الاستعمار في المجال الخارجي بعد المؤتمر .

الجغرافيا:

الجزء الأول: (06 نقاط)

- 1- حدد مفهوم المصطلحات التالية:
* - القروض * - الاستقطاب * - الموارد المتجددة * - الأسواق العالمية.
- 2- إليك جدولا لتطور إنتاج الصلب بالو.م.أ و اليابان من 1950 إلى 2006:

الوحدة: مليون طن.

البلد	1950	1974	1982	1990	1998	1999	2000	2006
الو.م.أ	100	132	67	88.6	98.6	97.2	101.5	98.6
اليابان	94	100	98	110	93.3	94	106.4	116.2

المصدر: الصورة الاقتصادية للعالم 2007.

المطلوب: مثل إنتاج البلدين بمنحنيين بيانيين في نفس المعلم بمقياس:

1 سم ← 10 مليون طن.

1 سم ← 5 سنوات.

3- على خريطة أوروبا المرفقة، حدد الأقاليم الصناعية التالية: ألبو - الروهر - باريس - لندن.

4- إليك جدولا لنسبة النمو الاقتصادي في بعض دول العالمين المتقدم والمتخلف سنة 2002:

البلد	نسبة النمو %	البلد	نسبة النمو %
الو.م.أ	4.4	الجزائر	5.3
اليابان	2.6	الهند	7.3
ألمانيا	1.7	البرازيل	5.2

المصدر: حالة العالم 2006

المطلوب: حل معطيات الجدول.

الجزء الثاني: 04 نقاط

يمتلك العالم المتخلف ثروات متنوعة وطاقات بشرية هائلة، إلا أنه يعاني التخلف في شتى المجالات .

المطلوب: انطلاقا من الفقرة واعتمادا على ما درست، أكتب موضوعا جغرافيا تبرز فيه :

1 مظاهر التخلف باعتماد مؤشرات اقتصادية

2 حلولا للخروج من دائرة التخلف .

الموضوع الثاني : (20 نقطة)

التاريخ:

الجزء الأول: (06 نقاط)

- 1- حدد مفهوم المصطلحات التالية :
- الستار الحديدي - الامبريالية - التحرر السياسي - النظام الدولي الجديد.
- 2- عرف بالشخصيات التالية:
- جورج مارشال - نيكيتا خروتشوف - جوزيف بروز تيتو - هواري بومدين.
- 3- أكمل جدول الأحداث:

الحدث	تاريخه
قيام هيئة الأمم المتحدة	1955/08/20
مبدأ ترومان	25 جانفي 1949

4- على خريطة العالم المرفقة وقع أربع أزمت للحرب الباردة على أن تكون واحدة في كل قارة

جزء الثاني: (04 نقاط)

يرى البعض أن لجوء فرنسا للتفاوض مع قادة الثورة الجزائرية كان خيارا استراتيجيا، في حين يرى البعض الآخر أنه كان ضرورة فرضتها الضربات العنيفة التي تلقتها على يد الثورة الجزائرية.

المطلوب : انطلاقا من الفقرة واعتمادا على ما درست ، أكتب مقالا تاريخيا تبرز فيه :

- 1 - مبادئ جبهة التحرير الوطني في التفاوض .
- 2- أهداف فرنسا من التفاوض .

الجغرافيا:

جزء الأول: (06 نقاط)

1- - حدد مفهوم المصطلحات التالية :

- التنمية البشرية - التهيئة الإقليمية - عالم الشمال - الاستقطاب.

2- استخلص من الجدول التالي معايير تصنيف الدولتين وفق مؤشر التنمية البشرية:

بلد	المساحة	عدد السكان	معدل الحياة	نسبة الأمية	الدخل الوطني الخام	الدخل الفردي الخام
تونس	9.3 م. كلم	298.5 م. ن	78 سنة	0.5 %	11712 مليار دولار	31872 دولار
الجزائر	2.3 م. كلم	33 م. ن	73 سنة	30 %	85 مليار دولار	2620 دولار

المصدر: الصورة الاقتصادية العالمية 2004.

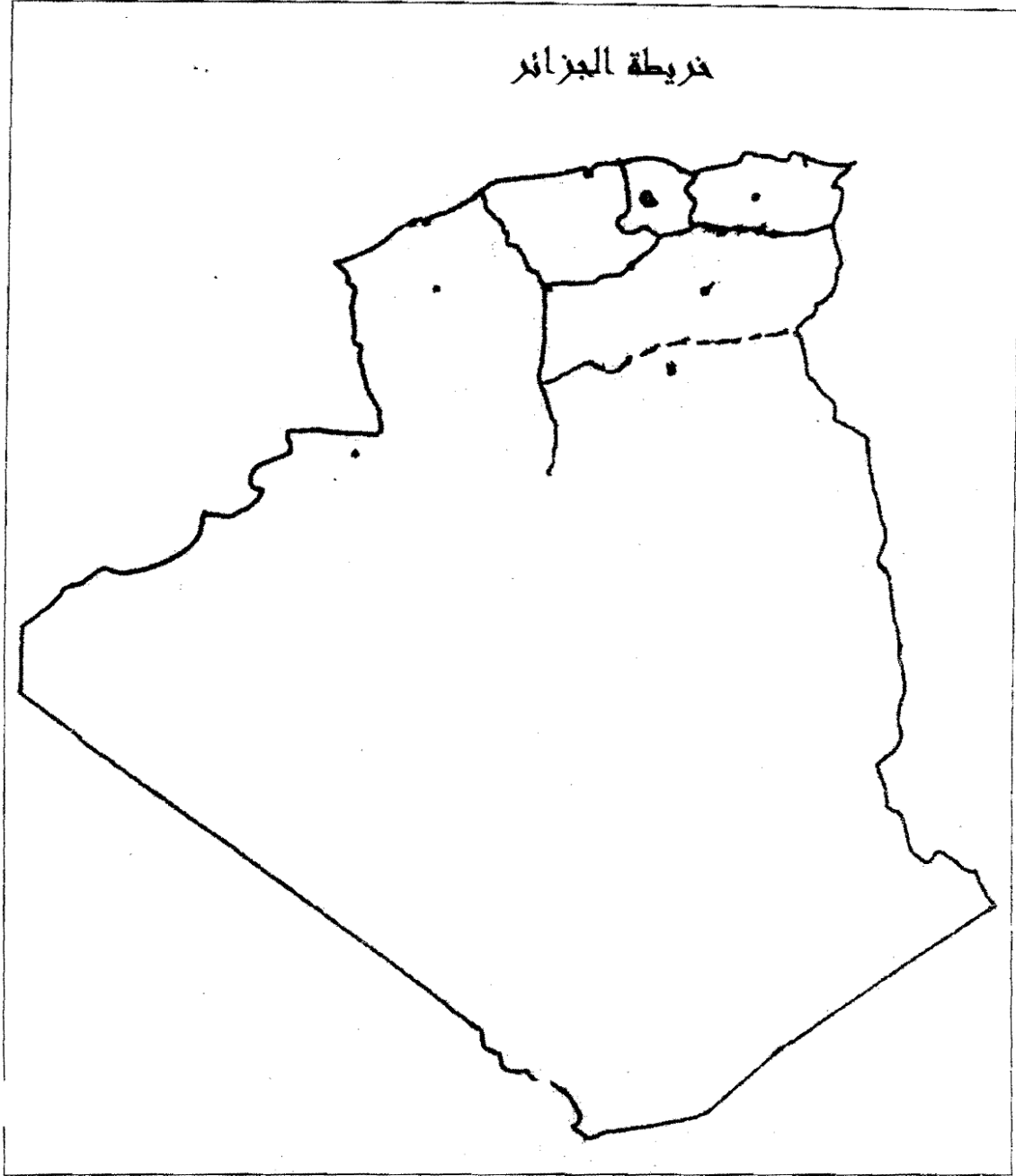
3- على خريطة شرق وجنوب شرق آسيا وقع دولتين (02) من التينينات و دولتين (02) من النمر الأسوية .

إجزء الثاني: 04 نقاط

تتميز الولايات المتحدة الأمريكية بوزنها الاقتصادي والديمقراطي والدور الذي تلعبه في الفضاء العالمي .

المطلوب : انطلاقا من الفقرة واعتمادا على ما درست ، أكتب موضوعا جغرافيا تبين فيه :

- 1- مظاهر الهيمنة الاقتصادية الأمريكية على العالم .
- 2- أثر الهيمنة الأمريكية على الاقتصاد العالمي .

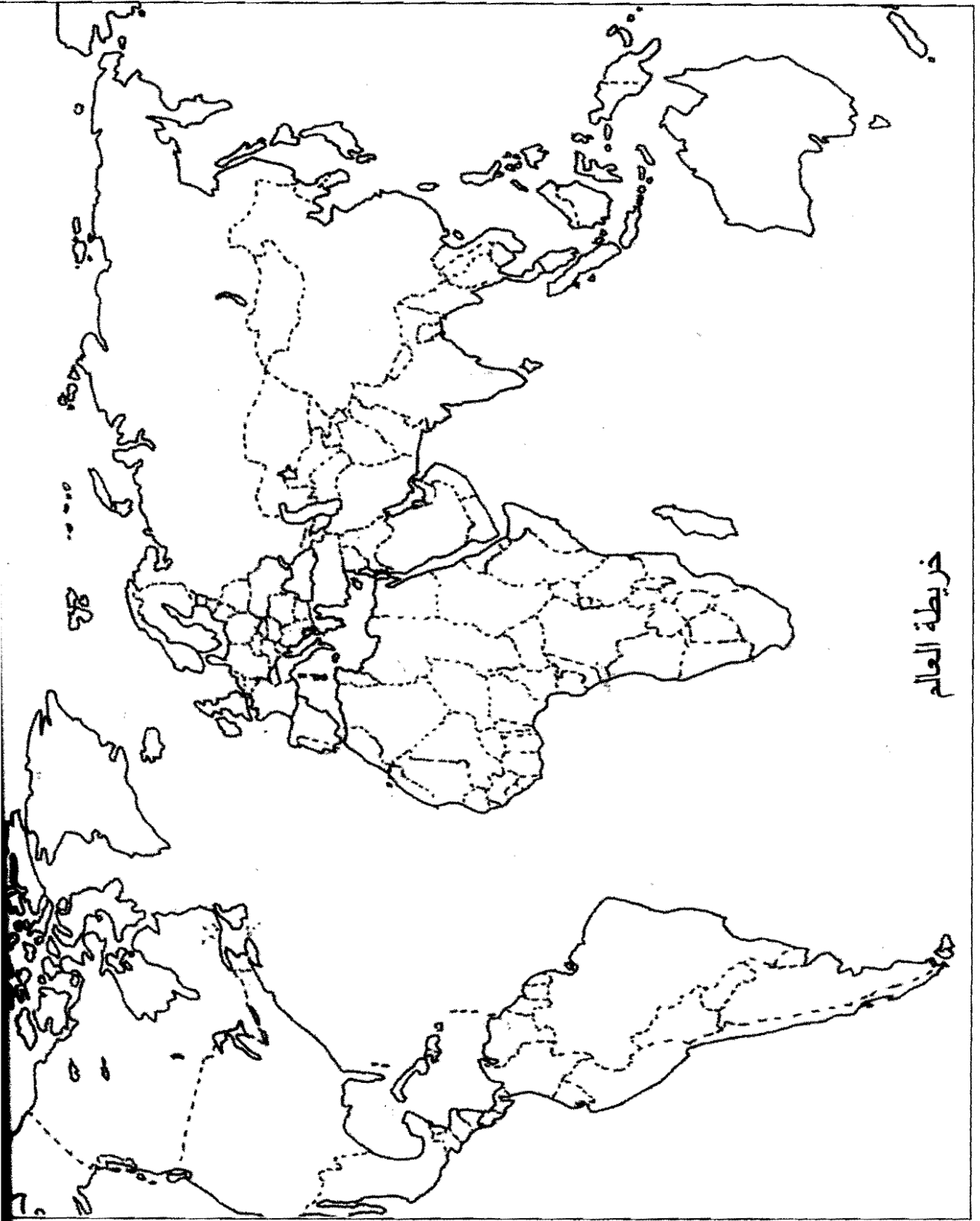


ينجز العمل المطلوب على الخريطة المرفقة وتعاد مع أوراق الإجابة

خريطة أوروبا



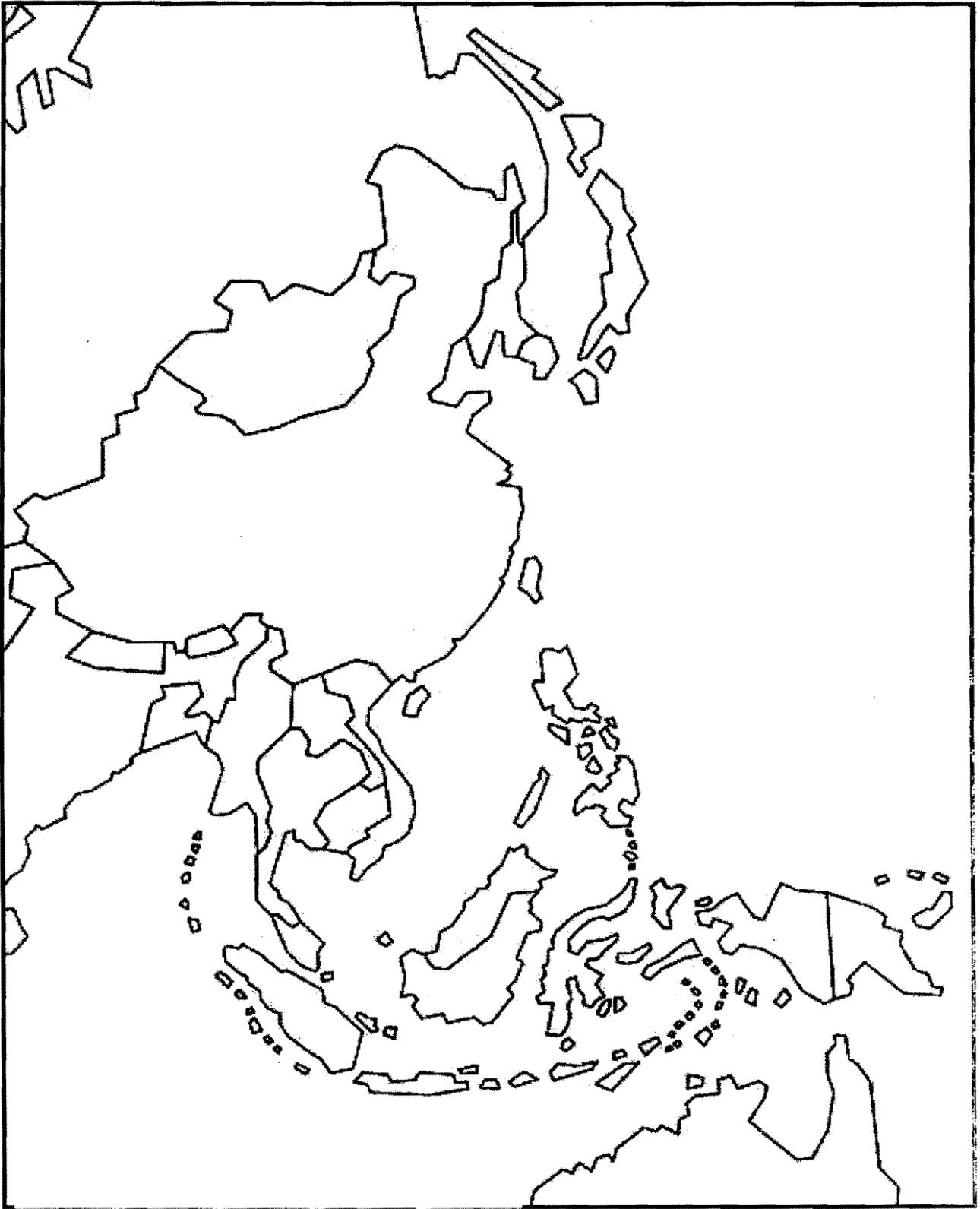
يُنجز العمل المطلوب على الخريطة المرفقة وتعاد مع أوراق الإجابة



خريطة العالم

يُنجز العمل المطلوب على الخريطة المرفقة وتعاد مع أوراق الإجابة

خريطة شرق وجنوب شرق آسيا



يُنجز العمل المطلوب على الخريطة المرفقة ويتاح مع أوراق الإجابة

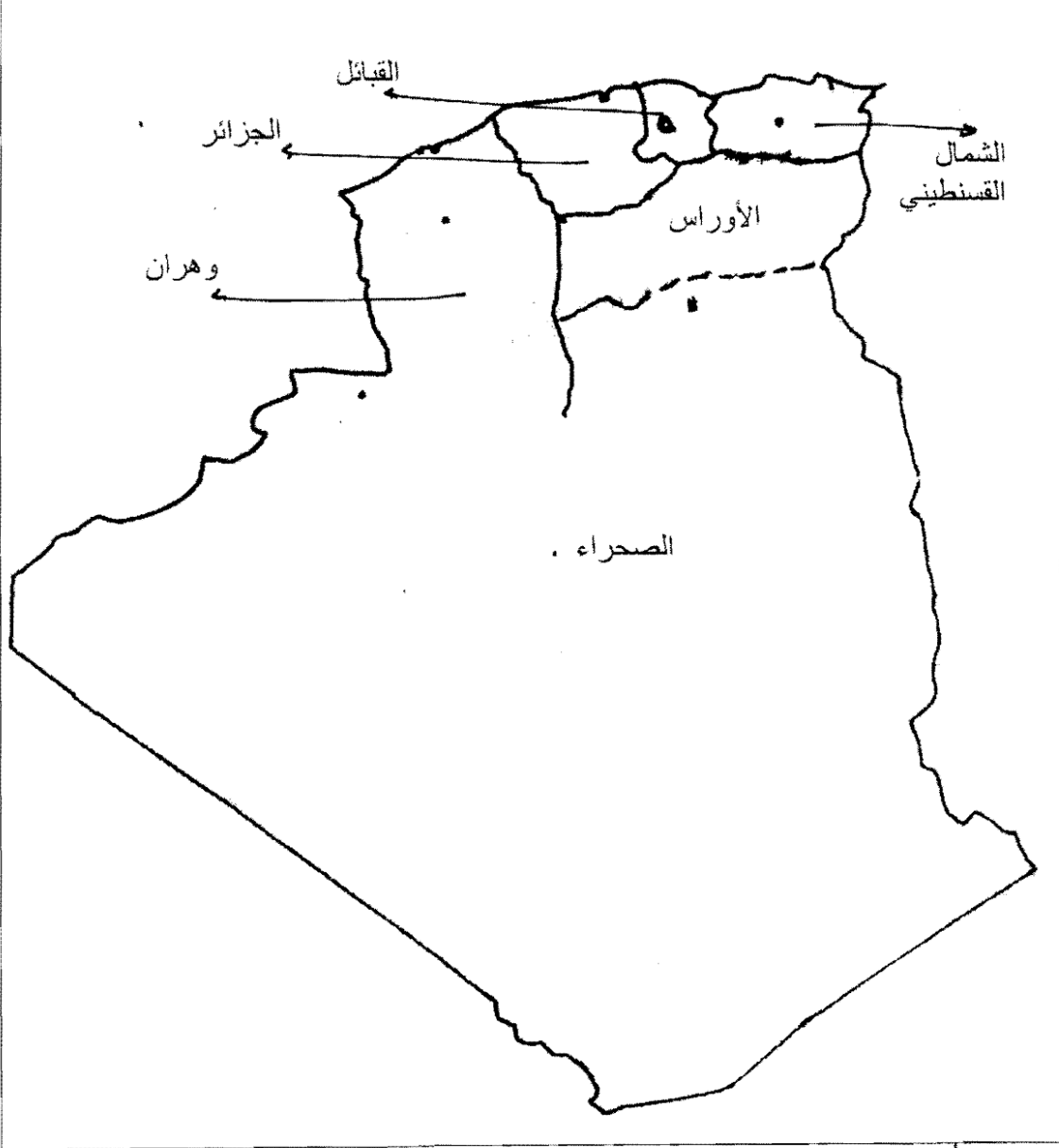
الإجابة النموذجية وسلم التنقيط لامتحان شهادة البكالوريا دورة 2009
المادة : تاريخ وجغرافيا الشعبة: آداب وفلسفة

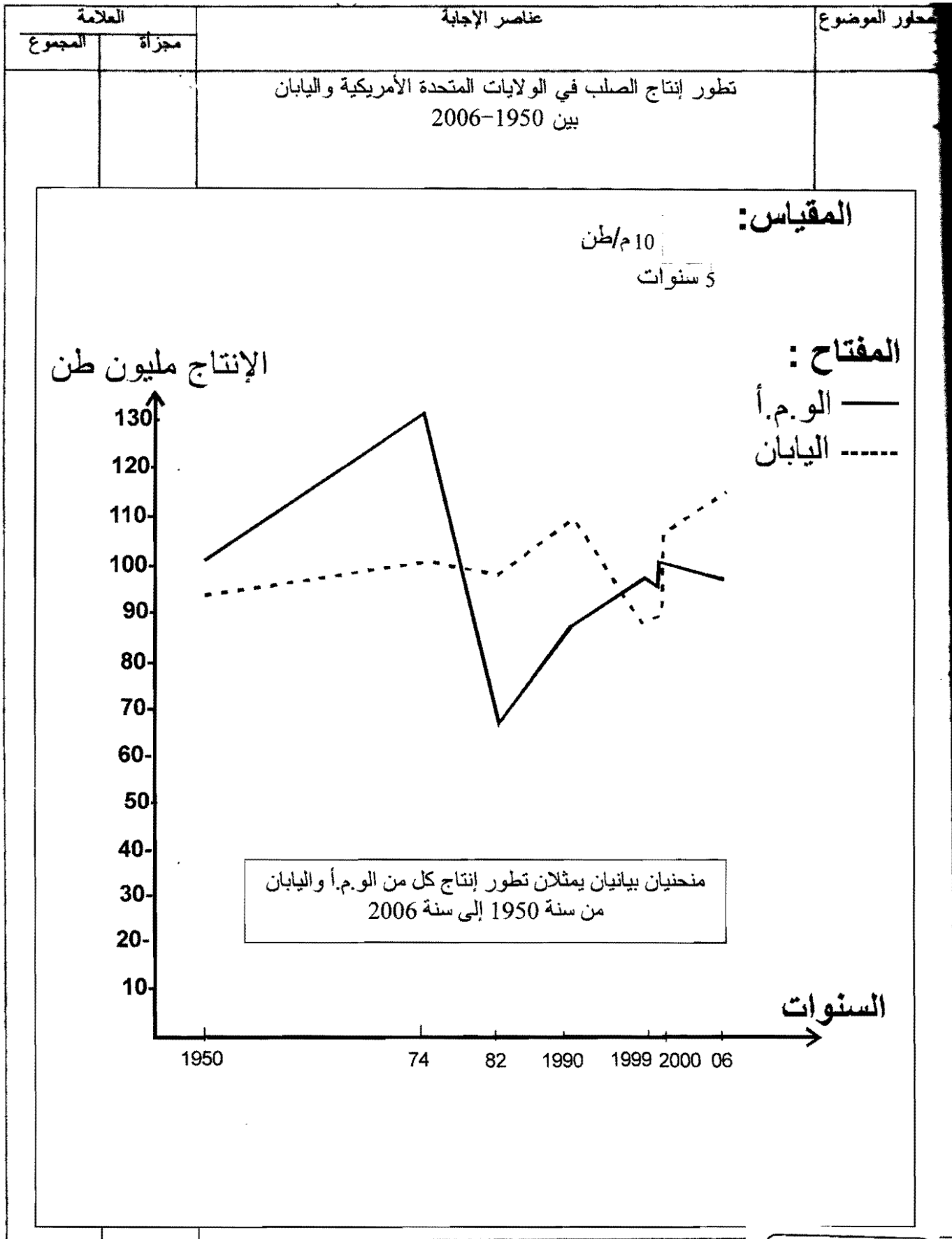
الإجابة النموذجية وسلم التنقيط

العلامة		عناصر الإجابة	معايير الموضوع
المجموع	مجزأة		
06		الموضوع الأول :	
	0.5	* - تاريخ - الجزء الأول * - عدم الانحياز : سياسة انتهجت من طرف الدول المستقلة بعد الحرب العالمية الثانية ، معناها عدم الانضمام لأي من المعسكرين المتصارعين ، ظهرت رسميا في مؤتمر بلغراد 1961 .	1- مفهوم المصطلحات
	0.50	* - الصهيونية : حركة قومية عنصرية تعمل على لم شمل اليهود واتخاذ فلسطين وطنا قوميا لهم ، ظهرت في مؤتمر بازل 1897 .	
	0.50	* - الاستعمار الجديد : أسلوب جديد اتبعته الدول المتقدمة بهدف إعادة فرض الهيمنة بشتى الوسائل على دول العالم الثالث المستقلة حديثا (الضغط الاقتصادي ، المنظمات غير الحكومية والشركات متعددة الجنسيات)	
	0.50	* - الامبريالية : لون من ألوان الاستعمار الجديد ، تعني سيطرة دولة على دولة أو دول أخرى ، وقد تكون السيطرة اقتصادية ، مالية وثقافية دون القضاء على النظام السياسي للدولة الخاضعة .	
	0.50	* - غورباتشوف : رئيس الاتحاد السوفياتي 1985-1991 ، مهندس الإصلاحات (البريسترويكا والglasnost) ، كان وراء إنهاء صراع الحرب الباردة مع المعسكر الرأسمالي سنة 1989 .	2- التعريف بالشخصيات :
	0.50	* - مانديس فرانس : محامي فرنسي ورئيس وزراء فرنسا بين 1954-1955 .	
	0.50	* - رونالد ريغن : رئيس الولايات المتحدة الأمريكية 1981-1989 ، متشدد في علاقاته مع الاتحاد السوفياتي ، صاحب مشروع حرب النجوم .	
	0.50	* - محمد بوضياف 1919-1992 ، مناضل حزب الشعب / حركة الانتصار للحريات الديمقراطية ، عضو المنظمة الخاصة ومجموعة 22 منسق مجموعة الستة عضو بارز في قيادة الثورة ، رئيس الدولة الجزائرية 1992	

العلامة		عناصر الإجابة	محاور الموضوع
المجموع	مجزأة		
04	0.25	- تقسيم كوريا : 1947/10/10 .	3- جدول
	0.25	- تأسيس اللجنة الثورية للوحدة والعمل : 1954/03/23 .	الأحداث :
	0.25	- مشروع مارشال : 1947/06/05 .	
	0.25	- تأسيس الكومنفرم : 1947/10/06 .	
	0.50	- الإنجاز :	4- التوقيع
	0.25	- العنوان :	على
	0.25	- المفتاح :	الخريطة
		الجزء الثاني :	
	0.5	مؤتمر الصومام بين التقييم والتنظيم	مقدمة
		1- الهيئات المنبثقة عن المؤتمر :	
	0.50	- المجلس الوطني للثورة (المؤسسة التشريعية) .	
	0.50	- لجنة التنسيق والتنفيذ (المؤسسة التنفيذية) .	
	0.50	- جيش التحرير الوطني (المؤسسة العسكرية) .	
		2- استراتيجية الثورة في مواجهة الاستعمار خارجيا :	العرض
		أ - عسكريا :	
	0.25	- نقل الثورة إلى الأراضي الفرنسية .	
	0.25	- البحث عن مصادر التمويل بالسلاح .	
		ب - دبلوماسيا :	
	0.50	- تدويل القضية الجزائرية .	
	0.25	- تأمين مصادر التمويل .	
	0.25	- مواجهة الحملات الدعائية والحرب النفسية والإعلامية الفرنسية .	
	0.5	مؤتمر الصومام أرسى قواعد الدولة الجزائرية الحديثة .	الخاتمة
		* - جغرافيا	
		- الجزء الأول	
		* - القروض : استدانة مبالغ مالية من البنوك والمؤسسات المالية لأجل محددة مقابل نسبة من الفوائد .	1- مفهوم
	0.50	* - الاستقطاب : مجموعة من العلاقات المتعددة والمتنوعة بين المدينة المركز أو القطب وجزء من المجال تقوم فيه المدينة المركز أو القطب بتوفير جملة من الخدمات .	المصطلحات :
	0.50	* - الموارد المتجددة : الموارد الموجودة في الطبيعة غير قابلة للنفاذ تتجدد بحكم قوانين الطبيعة (الطاقة الشمسية ، الرياح ، الماء ... الخ) .	
	0.50	* - الأسواق العالمية : مناطق التبادل التجاري تعرف حركة كثيفة في الاستيراد والتصدير ومختلف الأنشطة التجارية	

العلامة		عناصر الإجابة	محاور الموضوع	
المجموع	مجزأة			
06	1.25	- الإنجاز :	2- التمثيل البياني :	
	0.25	- المقياس :		
	0.25	- العنوان :		
	0.25	- المفتاح :		
	0.75	- الإنجاز :	3- التوقيع على الخريطة	
	0.25	- العنوان :		
	0.25	- المفتاح :		
	0.25	- التباين في نسب النمو الاقتصادي بين العالم المتقدم والعالم المتخلف	4- تحليل معطيات الجدول	
	0.25	- نسبة النمو في العالم المتخلف لا تعكس التطور الحقيقي .		
	0.25	- العالم المتقدم منتج للثروة والعالم المتخلف مستهلك لها وريعي .		
04	0.50	الجزء الثاني : العالم المتخلف بين وفرة الإمكانيات ومرارة الواقع .	مقدمة :	
	0.50	1- مظاهر التخلف : - الناتج الوطني الخام (يضم 80 % من سكان العالم ولا ينتج سوى 20 % من الثروة العالمية) .		
	0.50	- سوء توزيع اليد العاملة على القطاعات (ارتفاعها في القطاع الأول والثالث وانخفاضها في القطاع الثاني) .		العرض
	0.50	- الهياكل القاعدية (صناعة استخراجية ، ضعف نصيب الفرد ، عدم تكافؤ بين السكان والإنتاج .. الخ)		
	0.50	2-الحلول : - حسن استغلال الموارد (طبيعية ، بشرية ومادية) .	الخاتمة	
	0.50	- اعتماد إستراتيجية اقتصادية واقعية .		
	0.50	- اعتماد العصرية والتحديث .		
	0.50	العالم المتخلف أمام تحديات كبرى للخروج من دائرة التخلف .		

العلامة المجموع	مجزأة	عناصر الإجابة	محاور الموضوع
		<p data-bbox="406 235 1236 302">خريطة الولايات التاريخية المنبثقة عن مؤتمر الصومام 1956</p> 	



العلامة		عناصر الإجابة	محاور الموضوع
المجموع	مجزأة		
		خريطة بعض الأقاليم الصناعية بأوروبا	

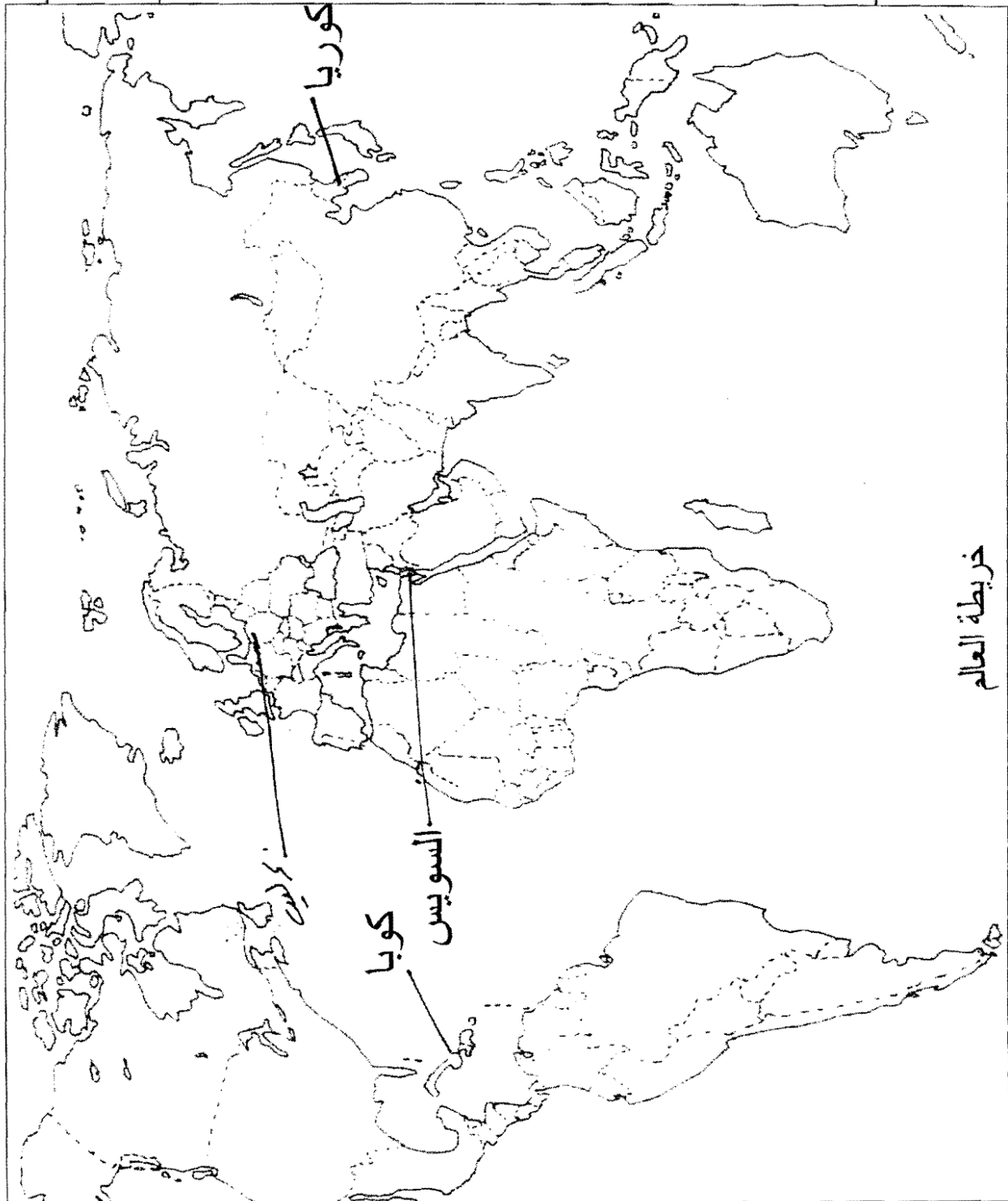


- ① باريس
 ② لندن
 ③ البير
 ④ الروطر

العلامة		عناصر الإجابة	محاور الموضوع										
المجموع	مجزأة												
		الموضوع الثاني :											
		* - تاريخ											
		- الجزء الأول											
0.50		- <u>الستار الحديدي</u>: مصطلح استعمله رئيس الوزراء البريطاني ونستون تشرشل في خطابه باليوم 1946/03/05 ويعني الحصار الذي فرضه الاتحاد السوفيتي على المناطق التي سيطر عليها في وسط وشرق أوروبا خلال الحرب.ع.2.	1- مفهوم المصطلحات										
0.50		- <u>الامبريالية</u>: هي سياسة تقسيم العالم إلى مناطق نفوذ للدول الكبرى بهدف نهب واستغلال ثرواتها.....											
0.50		- <u>التحرر السياسي</u>: تحقيق الاستقلال و الانعقاد وإقامة سلطة سياسية لكن دون التحكم التام في الشؤون الاقتصادية.											
0.50		- <u>النظام الدولي الجديد</u>: النظام الذي أعلن عنه بوش بعد نهاية الحرب الباردة والذي يقوم على هيمنة اليوم.أ (نظام أحادي القطبية).	2- التعريف بالشخصيات:										
0.50		- <u>جورج مارشال</u>: عسكري وسياسي أمريكي، وزير خارجية اليوم.أ في عهد ترومان، اقترن اسمه بمشروع مساعدات لإعادة بناء أوروبا في جوان 1947.											
0.50		- <u>نيكيتا خروتشوف</u>: 1894-1971 الأمين العام للحزب الشيوعي سنة 1953 و رئيس الاتحاد السوفيتي عام 1956 لعب دورا كبيرا في انجاح مبادرة التعايش السلمي، أبعد من السلطة سنة 1964.											
0.50		- <u>جوزيف بروز تيتو</u>: 1892-1980، سياسي يوغوسلافي قاد الحزب الشيوعي منذ 1920 والمقاومة ضد النازية ،من مؤسسي حركة عدم الانحياز											
0.50		- <u>هواري بومدين</u>: (محمد بوخروبة) 1932-1978: شارك في الثورة التحريرية، كان قائدا للولاية الخامسة من 1957 إلى 1960 ثم تولى قيادة أركان الجيش من 1960 إلى 1962، بعد الاستقلال عين وزيرا للدفاع ثم نائبا لرئيس مجلس الوزراء سنة 1963، ثم رئيسا لمجلس الثورة والدولة 1965-1978 .											
		<table><tr><th>التاريخ</th><th>الحدث</th></tr><tr><td>1945/10/24</td><td>قيام هيئة الأمم المتحدة</td></tr><tr><td>1955/08/20</td><td>هجوم الشمال القسنطيني</td></tr><tr><td>12 مارس 1947</td><td>مبدأ ترومان</td></tr><tr><td>25 جانفي 1949</td><td>إنشاء الكوميكون</td></tr></table>	التاريخ	الحدث	1945/10/24	قيام هيئة الأمم المتحدة	1955/08/20	هجوم الشمال القسنطيني	12 مارس 1947	مبدأ ترومان	25 جانفي 1949	إنشاء الكوميكون	3- جدول الأحداث :
التاريخ	الحدث												
1945/10/24	قيام هيئة الأمم المتحدة												
1955/08/20	هجوم الشمال القسنطيني												
12 مارس 1947	مبدأ ترومان												
25 جانفي 1949	إنشاء الكوميكون												
0.25		- الإنجاز .	4- التوقيع على الخريطة :										
0.25		- العنوان .											

العلامة		عناصر الإجابة	محااور الموضوع
المجموع	مجزأة		

خريطة أزمات الحرب الباردة :



خريطة العالم

العلامة		عناصر الإجابة	معايير الموضوع
المجموع	مجزأة		
04	0.5	الجزء الثاني : الحرب على بساط المفاوضات أعنف من حرب الجبال .	مقدمة
	0.50	1 - مبادئ جبهة التحرير الوطني في التفاوض :	المعرض
	0.50	- حق تقرير المصير .	
	0.25	- جبهة التحرير الوطني الممثل الشرعي والوحيد .	
	0.25	- وحدة الشعب الجزائري .	
	0.25	- وحدة التراب .	
	0.50	- التفاوض يفضي إلى وقف القتال	الخاتمة
	0.50	2- أهداف فرنسا من التفاوض :	
	0.25	- المماطلة وريح الوقت .	
	0.50	- ممارسة الضغط .	
	0.50	- المساومة .	
06	0.5	جبهة التحرير الوطني ربحت حرب المفاوضات مثلما ربحت حرب الجبال	1- مفهوم المصطلحات :
	0.50	* - جغرافيا	
	0.50	- الجزء الأول	
	0.50	* - التنمية البشرية: التنمية التي تأخذ بعين الاعتبار متطلبات البشر من صحة وتعليم ودخل....	
	0.50	* - التهيئة الإقليمية: عبارة عن تنظيم للمظاهر الجغرافية والاقتصادية على المستوى الإقليمي، أي بوضع خطة و معايير تأخذ بعين الاعتبار الظروف الطبيعية و الموارد البشرية والاقتصادية.	2- الاستخلاص من الوثيقة
	0.75	* - عالم الشمال: مصطلح اقتصادي للدلالة على الدول المتقدمة اقتصاديا وتكنولوجيا و الواقع معظمها إلى الشمال من دائرتي عرض 30° و 35° شمالا.	
	0.50	* - الاستقطاب: الجذب و الإقبال بسبب الفوائد الممنوحة و الضمانات التي يوفرها تنوع مجالات الاستثمار.	
	0.50	معايير تصنيف الدولتين وفق مؤشر التنمية:	
	0.50	- أمل الحياة	
	0.50	- نسبة التمدن (نسبة الأمية)	3 - التوقيع على الخريطة
	0.50	- الدخل الفردي الخام	
	01.25	- الإنجاز :	
	0.50	- العنوان :	
	0.50	- المفتاح :	

العلامة		عناصر الإجابة	محاور الموضوع
المجموع	مجزأة		
04	0.50	الجزء الثاني : تملك الولايات المتحدة الأمريكية قوة اقتصادية وبشرية مكنتها من نفوذ جيوسياسي عالمي .	مقدمة :
	0.50	1- مظاهر الهيمنة الاقتصادية الأمريكية .:	العرض
	0.50	- ضخامة الإنتاج الزراعي والصناعي الموجه للتصدير .	
	0.25	- اتساع نفوذ الشركات الأمريكية الكبرى (جنرال موتورز، إيب م)	
	0.25	- اعتماد الدولار كعملة مرجعية لمختلف العملات .	
	0.25	- امتلاكه لأكبر بورصة في العالم (وول ستريت) .	
	0.50	2- أثر الهيمنة الأمريكية على الاقتصاد العالمي : - سيطرة الشركات الأمريكية على منابع الثروة في العالم .	
	0.50	- تأثر اقتصاد العالم بالاقتصاد الأمريكي إيجابا وسلبا (الأزمة العالمية 1929 و 2008)	
	0.25	- ارتباط أسعار الموارد بنمو الاقتصاد الأمريكي .	الخاتمة
	0.25	- فرض توجه اقتصادي عالمي بمنظور أمريكي (النظام الاقتصادي العالمي) .	
	0.50	قوة الاقتصاد الأمريكي مكنها من فرض نظام دولي سياسي واقتصادي جديد	

العلامة	مجزأة	عناصر الإجابة	محاور الموضوع
		خريطة شرق وجنوب آسيا :	
		<p>① كوريا الجنوبية</p> <p>② تايوان</p> <p>③ هونغ كونغ</p> <p>④ الفلبين</p> <p>⑤ تايلاند</p> <p>⑥ ماليزيا</p> <p>⑦ اندونيسيا</p> <p>⑧ سنغافورة</p> <p>⑨ - التينينات</p> <p>⑩ - النمر</p>	