

على المترشح أن يختار أحد الموضوعين الآتين:

الموضوع الأول

يحتوي الموضوع الأول على 03 صفحات (من الصفحة 1 من 6 إلى الصفحة 3 من 6)

التاريخ:

الجزء الأول: (06 نقاط)

(1) "... وكان رد فعل جبهة التحرير الوطني هو الترحيب بفكرة تقرير المصير التي برزت إلى الوجود بفضل المعارك التي خاضها جيش التحرير الوطني الجزائري بحيث تم إجبار العدو على دفن فكرة الجزائر الفرنسية... وربما كان قصد ديغول من هذه المراوغة هو تهدئة أعصاب الأوروبيين والسعي لخلق قوة ثالثة ...".
المرجع: عمار بوحوش، التاريخ السياسي للجزائر، ص438، (بتصرف).

المطلوب: اشرح ما تحته خط في النص.

(2) عرّف بالشخصيات التالية:

- دوايت إيزنهاور - حسين آيت أحمد - فيدال كاسترو.

(3) وقّع على خريطة أوروبا المرفقة، ثلاث دول استقادت من مشروع مارشال.

الجزء الثاني: (04 نقاط)

تعد الحركة التحررية المصرية والكوبية نموذجان لرفض الهيمنة الإمبريالية، ارتبط ظهورهما بالتغيرات الأساسية التي حدثت في بنية العلاقات الدولية بعد الحرب العالمية الثانية.

المطلوب: انطلاقا من العبارة واعتمادا على ما درست، اكتب مقالا تاريخيا تبين فيه:

(1) خصائص الكفاح التحرري في كل من كوبا ومصر.

(2) آثار صراع المعسكرين على هاتين الدولتين.

الجغرافيا:

الجزء الأول: (06 نقاط)

(1) "... إنَّ العالم المتخلف كان من الناحية العملية مستعمرا بشكل مباشر أو غير مباشر من جانب القوى الغربية... إنَّ الاستعمار هو المتسبب في تخلفنا حتى وإن كانت المقاليد السياسية بأيدينا... إنَّ الاستثمار الأجنبي لم يُقَوِّض اقتصادياتنا فحسب بل أحدث تدميرا لتلك الاقتصاديات بتحويلها إلى اقتصاديات أحادية الجانب... وكلّما زاد استثمارنا في فروع التصدير من أجل السوق العالمية ازداد انحرافنا عن الاستثمار من أجل التّمية...".
المرجع: " أوروبا والتخلف في إفريقيا " والتر رودني (بتصرف).

المطلوب: اشرح ما تحته خطّ في النّص.

(2) إليك جدولا يمثل النّسب المئوية لصادرات وواردات الولايات المتحدة الأمريكية لسنة 2012.

المبادلات التجارية	المنتجات الصناعية	المحروقات والمواد الأولية	المنتجات الفلاحية	منتجات أخرى
الصادرات %	70.8 %	12.5 %	11.4 %	5.3 %
الواردات %	67.2 %	23.1 %	6.1 %	3.6 %

المصدر: منظمة التجارة العالمية 2013.

المطلوب: أ) مثل معطيات الجدول (نسب الصادرات والواردات) في دائرتين نسبيتين:

المقياس: نصف القطر: 3 سم.

ب) علّق على معطيات الجدول.

الجزء الثاني: (04 نقاط).

يشكّل الاتفاق الذي بات يجمع الجزائر مع الاتحاد الأوروبي إطارا مواتيا لتعزيز العلاقات المتعددة الأشكال القائمة بينهما... يشكّل دخول الجزائر في شراكة مع أوروبا خيارا استراتيجيا بمثابة الرهان بالنسبة لمستقبل الجزائر.

المطلوب: انطلاقا من الفقرة واعتمادا على ما درست، اكتب مقالا جغرافيا تبين فيه:

(1) أهمية الشراكة بين الجزائر والاتحاد الأوروبي.

(2) الآفاق المستقبلية لهذه الشراكة.



انتهى الموضوع الأول

الموضوع الثاني

يحتوي الموضوع الثاني على 03 صفحات (من الصفحة 4 من 6 إلى الصفحة 6 من 6)

التاريخ:

الجزء الأول: (06 نقاط).

(1) "... وإن ظل ميزان القوى لصالح الحلفاء الذين أخضعوا الهند الصينية إلى قوات بريطانيا ثم عودة فرنسا إلى منطقة نفوذها من جديد فدخلت في صراع مسلح مع الوطنيين انتهى إلى هزيمة عسكرية للفرنسيين في معركة "ديان بيان فو" ولما فشلت في الاحتفاظ بجزء من مستعمراتها هنالك قررت إنهاء وجودها في الهند الصينية كي تتفرغ لإخماد الثورة في المغرب العربي الذي اندلعت فيه ثورة نوفمبر 1954 في الجزائر بقوة وتصميم على التحرر".
المرجع: الكتاب المدرسي السنة الثالثة ثانوي تاريخ، ص87.

المطلوب: اشرح ما تحته خط في النص.

(2) عرّف بالشخصيات التالية: - رونالد ريغن - كريم بلقاسم - نيولاي بولغانين.

(3) أكمل الجدول التالي:

الحدث	تاريخه	انعكاساته
وفاة جوزيف ستالين		
مؤتمر بان دونغ		
تأسيس منظمة الكوميكون		

الجزء الثاني: (04 نقاط).

ورد في إحدى افتتاحيات جريدة المجاهد لسنة 1958: "إنّ الثورة الجزائرية هي ثورة الشعب بأكمله، هي ثورة جميع الطبقات... وإنّها من تلك الحركات التي لا يعرفها شعب من الشعوب إلا مرة أو مرتين خلال حياته الطويلة...".

المطلوب: انطلاقا من الفقرة واعتمادا على ما درست، اكتب مقالا تاريخيا تبين فيه:

(1) خصائص الثورة الجزائرية .

(2) رد فعل الاستعمار لإفراغ الثورة من محتواها الشعبي.

الجغرافيا:

الجزء الأول: (06 نقاط)

(1) " تشهد المناطق الحرة في مختلف دول العالم زخما كبيرا يتواكب مع انفتاح التجارة العالمية واتساع نطاق الاستثمار... ولا شك في أنّ المناطق الحرة تلعب دورا مهما في جذب الاستثمارات ... ورؤوس الأموال العربية والأجنبية ... "

المرجع: جريدة القبس اليومية، عدد 12075، 14 جانفي 2007، ص 49.

المطلوب: اشرح ما تحته خطّ في النصّ.

(2) إليك جدولا يمثل معدلات النمو الاقتصادي لبعض دول العالم سنة 2014:

الدولة	الو. م. أ.	بريطانيا	الصين	البرازيل	المكسيك
معدل النمو الاقتصادي	02.4 %	02.6 %	07.4 %	00.1 %	02.1 %

المرجع: التقرير الاقتصادي العربي الموحد، 2015، ص 375.

المطلوب:

(أ) علّق على معطيات الجدول.

(ب) وقّع على خريطة العالم المرفقة الدول التالية (الواردة في الجدول):

- بريطانيا - الصين - البرازيل

الجزء الثاني: (04 نقاط)

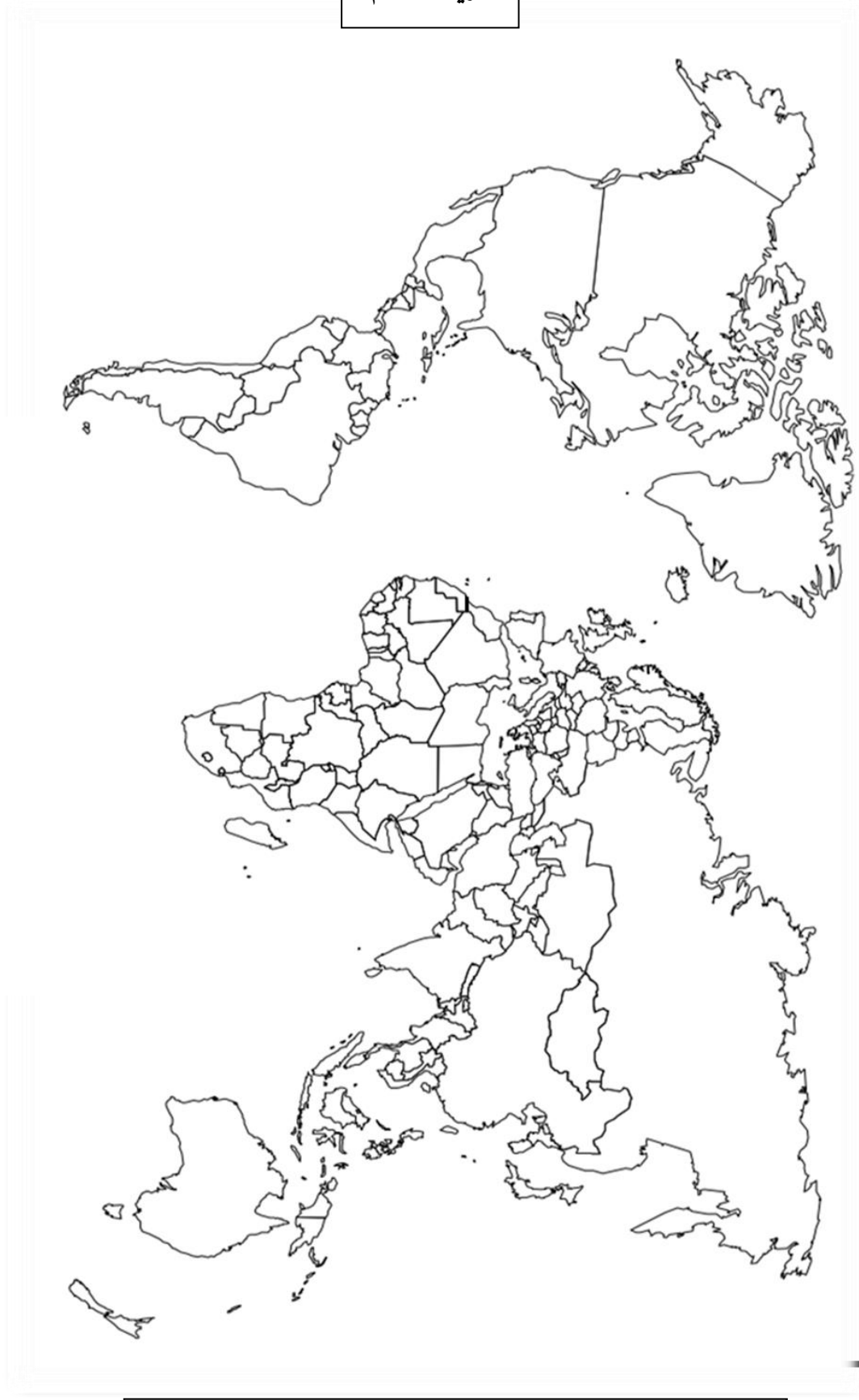
يمثل إقليم الراين قلب أوروبا موقعا و اقتصادا وهو يشبه إقليم البحيرات الكبرى في أمريكا الشمالية من حيث ارتباطه بالملاحة النهرية فقد ساهم في تطور الاتحاد الأوروبي في جميع المجالات .

المطلوب: انطلاقا من العبارة واعتمادا على ما درست، اكتب مقالا جغرافيا تبين فيه:

(1) عوامل التطور الاقتصادي لإقليم الراين .

(2) الأهمية الاقتصادية لهذا الإقليم بالنسبة للاتحاد الأوروبي.

خريطة العالم



انتهى الموضوع الثاني

ينجز العمل المطلوب على الخريطة وتعاد مع أوراق الإجابة

العلامة		عناصر الإجابة
مجموع	مجزأة	
06		الموضوع الأول
		التاريخ
		الجزء الأول:
		(1) شرح ما تحته خط في النص:
	0.75	- تقرير المصير: مبدأ من مبادئ الأمم المتحدة يمنح الحق لكل شعب في اختيار نظام حكمه دون ضغط خارجي.
	0.75	- فكرة الجزائر فرنسية: وهم من أوهام المستوطنين، الإدارة الاستعمارية وبعض الموالين للاستعمار الفرنسي ، الذين يعتبرون أن الجزائر جزء من فرنسا.
	0.5	- قوة ثالثة: وهي فئة من الجزائريين الموالين لفرنسا (العملاء، القياد، بعض المنتخبين)، سعى ديغول لتشكيلها بهدف عزل جبهة التحرير الوطني وتظليل الرأي العام العالمي.
		(2) التعريف بالشخصيات:
	0.5	- ديوانت إزنهاور : (1890-1969) رئيس أركان الجيش الأمريكي خلال الحرب ع2 ،رئيس الولايات المتحدة الأمريكية بين 53-61،صاحب سياسة ملئ الفراغ ومشروع باسمه 1957 استجاب لفكرة التعايش السلمي.
	0.75	- حسين آيت أحمد : (1926-2015): مناضل في حزب الشعب ثم حركة انتصار الحريات الديمقراطية، ثاني رئيس للمنظمة الخاصة بعد بلوزداد، عضو في مجموعة التسعة ،اعتقل في حادثة اختطاف الطائرة 1956، أسس جبهة القوى الاشتراكية سنة 1963 .
04	0.75	- فيدال كاسترو : (1926-2016) ثائر وسياسي كوبي قاد الثورة ضد باتستا، حكم كوبا منذ 1959 ، طبق النظم الشيوعي فحاولت الو.م. الأمريكية الإطاحة به(أزمة كوبا 1961-1963) .
		(3) التوقيع على خريطة أوروبا:
	1.5	الإنجاز :
	0.25	المفتاح :
	0.25	العنوان :
		الجزء الثاني:
	0.5	مقدمة : الثورتان المصرية والكوبية من محاربة الاستعمار إلى مناهضة الامبريالية.
		(1) خصائص الكفاح التحرري في كل من كوبا ومصر:
		- في مصر:
		- أسلوب عسكري أطاح بنظام الملك فاروق العميل للاستعمار الإنجليزي(حركة الضباط الأحرار).
		- تطبيق النظام الاشتراكي ومباشرة سياسة التأميم لتحقيق السيادة الكاملة (تأميم قناة السويس 26 جويلية 1956).
	×6	- دعم الحركات التحررية في العالم الثالث (الجزائر، فلسطين ...) .
	0.25	- في كوبا:
		- أسلوب عسكري أطاح بنظام باتيسستا العميل للولايات المتحدة الأمريكية.
		- دعمها للحركات التحررية في دول أمريكا اللاتينية.
		- اعتمادها على المبادئ الشيوعية .
		(2) آثار صراع المعسكرين على هاتين الدولتين:

06	<p>- <u>على مصر:</u></p> <p>- تأميم قناة السويس (1956/07/26) وتعرضها للعدوان الثلاثي (فرنسا، بريطانيا، إسرائيل) 29 أكتوبر 1956.</p> <p>- تدخل الاتحاد السوفياتي في هذه الأزمة بتهديده بقصف عواصم الدول الثلاث المعتدية .</p> <p>- مواجهة السياسة الإمبريالية الأمريكية (ملء الفراغ) : رفض الانضمام إلى حلف بغداد 1955</p> <p>والمساعدات الأمريكية لبلدان الشرق الأوسط في إطار مشروع إيزنهاور 1957 ، كما أصبحت عضوا فعالا في حركة عدم الانحياز 1961.</p> <p>- <u>على كويا:</u></p> <p>- محاربة كوبا للهيمنة الأمريكية مما عرضها لحصار وتهديد أمريكي طويل.</p> <p>- أزمة الصواريخ 1962 بكوبا (من بؤر التوتر في صراع الحرب الباردة) .</p> <p>- دعم الحركات الثورية الشيوعية في أمريكا اللاتينية.</p>	6×0.25
	<p>- <u>خاتمة:</u> الثورتان المصرية والكوبية نموذجان لرفض الهيمنة الاستعمارية والارتباط بأي من الكتلتين المتصارعتين.</p>	0.5
	<p><u>الجغرافيا</u></p>	
	<p><u>الجزء الأول</u></p>	
	<p><u>(1) تعريف ما تحته خط في النص:</u></p>	
	<p>- <u>العالم المتخلف:</u> مصطلح اقتصادي يطلق على الدول التي تعيش حالة الفقر والركود الاقتصادي وتدهور أوضاعها الاجتماعية نتيجة سوء استغلال مواردها الاقتصادية والبشرية .</p>	0.75
	<p>-<u>الاستثمار الأجنبي:</u>توظيف مبالغ مالية ضخمة من قبل الأفراد والمؤسسات الأجنبية وتحويلها إلى وسائل عمل (مصانع، مكائن) بهدف زيادة الإنتاج وإشباع حاجات اقتصادية ورفع مستوى التنمية الاقتصادية للبلد.</p>	0.75
	<p>-<u>التنمية:</u> كافة التغيرات الهيكلية التي تحدث في المجتمع بأبعاده المختلفة (اقتصادية وسياسية واجتماعية...) لتوفير الحياة الكريمة لجميع أفراد المجتمع.</p>	0.5
	<p><u>(2) أ- تمثيل معطيات الجدول بدائرتين نسبيتين:</u></p>	
	<p>العنوان.....</p>	1.25
	<p>المقياس..... نق = 3 سم</p>	0.25
	<p>المفتاح.....</p>	0.25
	<p>الانجاز.....</p>	0.25
	<p><u>(ب) التعليق على الجدول:</u></p>	
	<p>-تباين نسبة الصادرات و الواردات بالنسبة لمختلف المواد والمنتجات .</p>	
	<p>-تحتل المنتجات المصنعة الصدارة في المبادلات التجارية الأمريكية بحوالي 70% .</p>	
	<p>-ارتفاع نسبة الصادرات من المنتجات المصنعة و الفلاحية عن نسبة ما تستورده منها بينما تستورد نسبة أكبر من نسبة ما تصدره من المواد الأولية ومصادر الطاقة.</p>	4 × 0.5
	<p>- ضالة نسبة وارداتها من المنتجات الفلاحية.</p>	

04	0.5	<p>الجزء الثاني :</p> <p>مقدمة: سعت الجزائر إلى تطوير منظومة اقتصادها عبر عقد اتفاقات شراكة مع الخارج خاصة الاتحاد الأوروبي</p>
	×6 0.25	<p>(1) أهمية الشراكة بين الجزائر والاتحاد الأوروبي:</p> <ul style="list-style-type: none"> - الرفع من حجم التبادل التجاري وتنشيطه. - رفع نسبة النمو الاقتصادي (الاستثمارات) خاصة بالنسبة للجزائر . - التخفيف من أعباء النقل للسلع. - الاستفادة من التكنولوجيا المتطورة. - تحسين الأداء الاقتصادي للجزائر . - توفير الاحتياجات وتصريف فائض الإنتاج.
	×6 0.25	<p>(2) الآفاق المستقبلية لهذه الشراكة:</p> <ul style="list-style-type: none"> - ضرورة تعزيز التعاون والشراكة بينهما على أساس المصالح المشتركة . - السعي للاستفادة المتبادلة (التكنولوجيا والتقنيات المتطورة= الموارد الطاقوية) . - تنشيط الحوار بين الجزائر والصفة الشمالية للحفاظ على المصالح المشتركة. - رفع حجم المبادلات التجارية عن طريق إلغاء القيود الجمركية. - زيادة حجم الاستثمارات الأوروبية المباشرة في الجزائر. - إيجاد آليات لتسهيل حركة تنقل للأشخاص ورؤوس الأموال.
	0.5	<p>خاتمة: أهمية الشراكة الجزائرية الأوروبية في الدفع بعجلة التنمية الاقتصادية للجزائر والحفاظ على المصالح الأوروبية في الجزائر .</p> <p>ملاحظة: (:تقبل الإجابات الصحيحة الأخرى).</p>

تعيين 03 دول استفادت من مشروع مارشال .

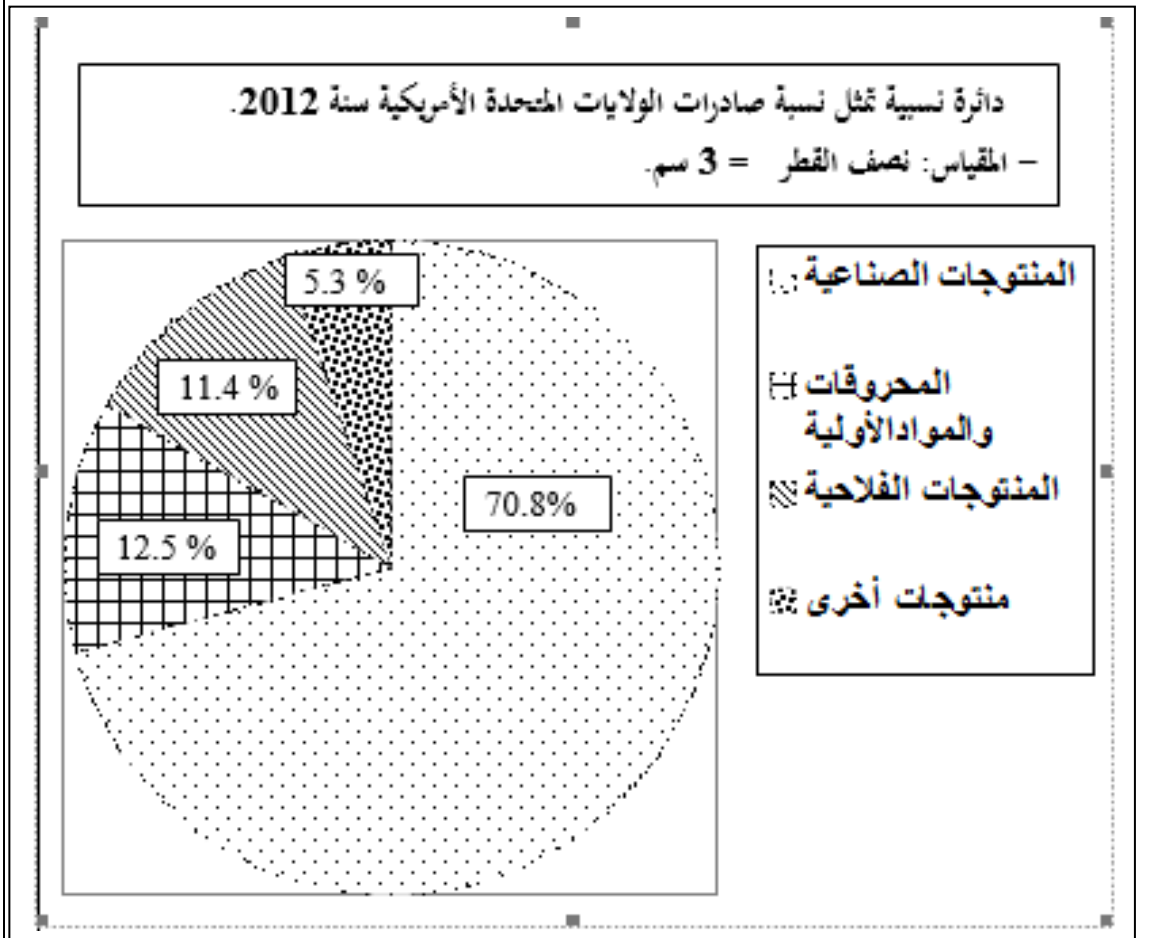


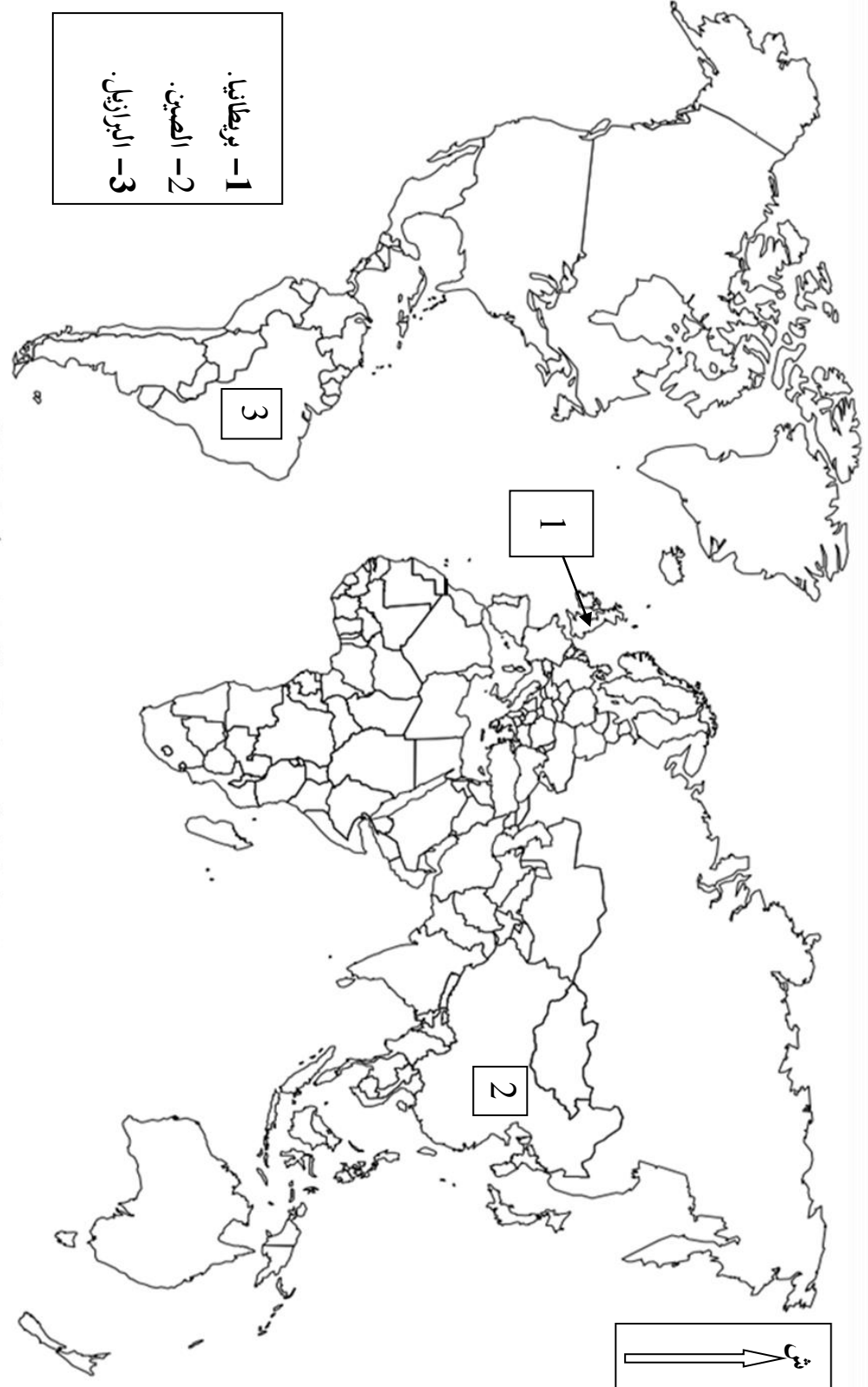
العلامة		عناصر الإجابة												
مجموع	مجزأة													
06		(الموضوع الثاني)												
		<u>التاريخ:</u> <u>الجزء الأول:</u> <u>(1) شرح ما تحته خط في النص:</u> - <u>ديان بيان فو:</u> معركة عسكرية جرت بين القوات الفرنسية بقيادة فارا والقوات الفيتنامية بقيادة جياب في الفترة ما بين 13 مارس الى 7ماي 1954 انتهت بهزيمة الجيش الفرنسي وانسحاب فرنسا من الفيتنام سنة 1954. - <u>ثورة نوفمبر 1954:</u> فعل تحرري شامل ورد شعبي عنيف بهدف استرجاع السيادة الوطنية والاستقلال من خلال مجموع العمليات العسكرية والسياسية لجيش التحرير و جبهة التحرير التي انطلقت منذ اول نوفمبر 1954 وانتهت في سنة 1962 . - <u>التحرر:</u> مبدأ ناضلت من اجله الشعوب المستعمرة من اجل استرجاع الحرية و الاستقلال و إخراج قوات المستعمر وبناء دولة وطنية تحظى بالاعتراف الدولي . <u>(2) التعريف بالشخصيات:</u> - <u>رونالد ريغن :</u> شخصية سياسية أمريكية الرئيس الأربعون للو.م.أ (1981 . 1988) مؤسس التيار المحافظ المعتمد على فكرة استعادة أمجاد و قيم للمجتمع الأمريكي انتهج سياسة خارجية متشددة في 1983. أطلق ما عرف بمبادرة الدفاع الاستراتيجي ضد الاتحاد السوفيتي - حرب النجوم - . - <u>كريم بلقاسم:</u> شخصية سياسية ثورية جزائرية ، مناضل بحزب الشعب منذ 1947 و عضو مجموعة الستة كان احد مفجري الثورة و قائد الولاية الثالثة بالقبائل الكبرى. حضر مؤتمر الصومام 1956 . - <u>نيولاي بولغانين:</u> شخصية سياسية سوفياتية ، أحد كبار قادة الحزب الشيوعي السوفياتي ، أحد أعضاء القيادة الثلاثية بعد وفاة ستالين 1953. تميزت العلاقات في عهده بالاعتدال تجاه الصراع ضد الغرب الرأسمالي و أحد دعاة التعايش السلمي. <u>(3) إكمال الجدول:</u>												
		<table><tr><th>الحدث</th><th>تاريخه</th><th>انعكاساته</th></tr><tr><td>وفاة جوزيف ستالين</td><td>1953/03/05</td><td>حل الأزمة الكورية وظهور التعايش السلمي...</td></tr><tr><td>مؤتمر بان دونغ</td><td>1955/04/24-18</td><td>ظهور التكتل الأفرو - آسيوي كتمهيد لحركة عدم الانحياز</td></tr><tr><td>تأسيس منظمة الكوميكون</td><td>1949/01/25</td><td>الهيمنة السوفياتية على أوربا الشرقية اقتصاديا وسياسيا...</td></tr></table>	الحدث	تاريخه	انعكاساته	وفاة جوزيف ستالين	1953/03/05	حل الأزمة الكورية وظهور التعايش السلمي...	مؤتمر بان دونغ	1955/04/24-18	ظهور التكتل الأفرو - آسيوي كتمهيد لحركة عدم الانحياز	تأسيس منظمة الكوميكون	1949/01/25	الهيمنة السوفياتية على أوربا الشرقية اقتصاديا وسياسيا...
	الحدث	تاريخه	انعكاساته											
	وفاة جوزيف ستالين	1953/03/05	حل الأزمة الكورية وظهور التعايش السلمي...											
	مؤتمر بان دونغ	1955/04/24-18	ظهور التكتل الأفرو - آسيوي كتمهيد لحركة عدم الانحياز											
	تأسيس منظمة الكوميكون	1949/01/25	الهيمنة السوفياتية على أوربا الشرقية اقتصاديا وسياسيا...											
		<u>الجزء الثاني:</u> <u>مقدمة:</u> اتسمت الثورة الجزائرية بخصائص متميزة كونها تمكنت من تحقيق أهدافها رغم السياسة الاستعمارية المسلحة على الشعب. <u>(1) خصائص الثورة الجزائرية:</u> - الوحدة الزمنية في كامل التراب الوطني والقيادة الجماعية للثورة. - التنظيم الثوري على جميع الأصعدة العسكرية والسياسية الداخلية والخارجية												

04	6×0.25	<p>- الشمولية حيث لم تقتصر على منطقة دون أخرى.</p> <p>- المزج بين الكفاح المسلح و السياسي (العمل العسكري إلى جانب بيان نوفمبر).</p> <p>- الشعبية (شاركت فيها جميع فئات المجتمع من فلاحين ، طلبه...).</p> <p>- الاعتماد على الإمكانيات الذاتية وقبول المساعدات من الدول الصديقة والشقيقة.</p> <p>(2) رد فعل الاستعمار لإفراغ الثورة من محتواها الشعبي:</p> <p>- انشاء القوة الثالثة.</p> <p>- انشاء المحتشدات (3426 محتشد)</p>
	6×0.25	<p>- تدعيم التنظيمات المناوئة لج ت و =وحدات بلونيس.</p> <p>- تقديم مشاريع اغرائية (مشروع سوستال، قسنطينة)</p> <p>- تطبيق المسؤولية الجماعية.</p> <p>- اعتماد سياسة التهجير الجماعي.</p>
	0.5	<p>خاتمة: إصرار وعزيمة الشعب الجزائري مكنته من انتصار ثورته على الاستعمار رغم الصعوبات التي واجهته</p> <p>الجغرافيا:</p> <p>الجزء الاول :</p>
	0.75	<p>(1) شرح ما تحته خط في النص</p> <p>- المناطق الحرة: هي فضاءات تجارية غير خاضعة للتعريفات والحواجز الجمركية، تنشأ عن اتفاق بين دولتين أو أكثر.</p>
	0.5	<p>- التجارة العالمية: هي عملية تبادل السلع والخدمات بين مختلف المناطق والدول، وتعرف أيضا بالتجارة الخارجية.</p>
06	0.75	<p>- جذب الاستثمارات: عملية استقطاب رؤوس أموال محلية أو أجنبية لتوظيفها في مشاريع تنموية، و يكون ذلك بتوفير جملة من الحوافز والتسهيلات كالإعفاءات الضريبية ...</p>
	01.5 0.5	<p>(2) التوقع على الخريطة : (خريطة العالم)</p> <p>- الإنجاز والمفتاح:</p> <p>- العنوان:</p>
	4×0.5	<p>(3) التعليق على الرسم :</p> <p>- تباين معدل النمو الاقتصادي بين الدول المتقدمة والدول المتخلفة.</p> <p>- ارتفاع معدل النمو الاقتصادي في الصين مما يعكس التطور الذي تعرفه كقوة صاعدة .</p> <p>- تقلص الفجوة الاقتصادية بين الدول المتقدمة (الو م أ و المملكة المتحدة) وبعض الدول النامية (الصين والمكسيك).</p> <p>- انخفاض معدل النمو الاقتصادي في البرازيل بسبب سيطرة الرأسمال الأجنبي على الاستثمارات في هذا البلد .</p>
	0.5	<p>الجزء الثاني:</p> <p>مقدمة : يمثل إقليم الراين أكبر إقليم اقتصادي و تجمع سكاني في أوروبا فما عوامل ذلك و ما دور الإقليم في تنشيط الاقتصاد الأوربي؟</p> <p>(1) عوامل التطور الاقتصادي لإقليم الراين:</p>
04		<p>- مهد الثورة الصناعية بعد إنجلترا. - الثروات الطبيعية (الفحم و الحديد).</p>

<p>6×0.25</p>	<p>- الأنهار (الري و المواصلات) - الأراضي الخصبة.</p> <p>- اتصاله بالواجهة البحرية الشمالية .</p> <p>- أكبر تجمع بشري في أوروبا (اليد العاملة والسوق الاستهلاكية)</p> <p>(2) <u>الأهمية الاقتصادية للإقليم:</u></p> <p>- تسهيل المواصلات بين الموانئ الشمالية و المناطق الداخلية (التجارة الداخلية بين بلدان الاتحاد الأوروبي والمبادلات مع الخارج.</p>
<p>6×0.25</p>	<p>- الإنتاج الزراعي (الحبوب، الخضر، الفواكه، تربية المواشي...).</p> <p>- الإنتاج الصناعي (أكبر المراكز الصناعية).</p> <p>- ينتج حوالي نصف الدخل الخام لدول الاتحاد الأوروبي.</p> <p>- سوق استهلاكية واسعة (رواج السلع والبضائع)</p> <p>- أكبر نسبة من المؤسسات المالية العالمية (5/4 من البنوك العالمية).</p>
<p>0.5</p>	<p><u>خاتمة:</u> مهما كان التعارض على الحدود الإقليمية فإن منطقة الراين تعتبر إقليم مدن و حوض صناعي في طريق نمو اقتصادي كبير.</p> <p>- <u>ملاحظة:</u> (تقبل الإجابات الصحيحة الأخرى).</p> <p>دائرة نسبية تمثل نسبة واردات الولايات المتحدة الأمريكية سنة 2012</p> <p>المقياس: نصف القطر = 3 سم</p>

المنتج	النسبة المئوية
المنتجات الصناعية	67.2%
المحروقات والمواد الأولية	23.1%
المنتجات الفلاحية	6.1%
منتجات أخرى	3.6%





توقيع الدول التالية: (بريطانيا، الصين، البرازيل) الواردة في الجدول.