



على المترشح أن يختار أحد الموضوعين الآتيين:

الموضوع الأول

يحتوي الموضوع الأول على 03 صفحات (من الصفحة 1 من 6 إلى الصفحة 3 من 6)

التاريخ:

الجزء الأول: (06 نقاط)

1) "... لم تحاول أبدا الحكومات المتعاقبة على الحكم ببائيس منذ 1954 الوصول إلى حل بالتفاوض، ولم تأخذ بعين الاعتبار قرارات وتوصيات الأمم المتحدة ومنظمات دولية أخرى كالجامعة العربية والمؤتمرات الإسلامية والمؤتمر الإفريقي الآسيوي ... إلخ. حاولت هذه الحكومات الفرنسية أن تفرض حلولها التي فشلت كلها، ومنها فكرة الإدماج التي اقترحها "سوستال" الحاكم العام الذي أراد تطبيقها، واقترح "غي مولي" المعروف بنقاطه الثلاث: وقف إطلاق النار، الانتخابات، المفاوضات والتي رفضتها بالطبع جبهة التحرير الوطني ... وسوف يلجأ "الجنرال ديغول" إلى هذه الصيغة عند عودته إلى السلطة عام 1958..."

المرجع: بن يوسف بن خدة، اتفاقيات إيفيان. ديوان المطبوعات الجامعية الجزائر ص 14.

المطلوب: اشرح ما تحته خط في النص.

2) عرّف بالشخصيات التالية مبينا تأثيرها على العلاقات الدولية:

- جواهرلال نهرو - جمال عبد الناصر - أحمد سوكرانو.

3) وقّع على خريطة العالم المرفقة، ثلاث دول تنتمي لحلف جنوب شرق آسيا (SEATO) .

الجزء الثاني: (04 نقاط)

إنّ تحول البلدان من مستعمرات إلى دول حرة يتم في بعض الأحيان دون عنف، ولكن في غالب الأحيان كان يأتي بعد القيام بحروب ثورية ضد المستعمر، ولكن بعد استقلالها عمل الاستعمار على إبقاء هيمنته عليها بأساليب غير مباشرة.

المطلوب: انطلاقا من العبارة واعتمادا على ما درست، اكتب مقالا تاريخيا تبين فيه:

1) أهداف الحركات التحررية.

2) استراتيجية الدول الاستعمارية لإبقاء هيمنتها على مستعمراتها السابقة.



الجغرافيا:

الجزء الأول: (06 نقاط)

(1) " يتمتع الشمال بهيمنة مالية على العالم المعاصر. فالشمال هو الذي أسس النظام النقدي العالمي الراهن وأنشأ المؤسسات النقدية الدولية وهو الذي يحتضن المصارف والبنوك الاحتكارية والعملاقة ويسيطر على القسم الأكبر من سوق العملات والأوراق المالية والسيولة النقدية التي توظف في مجمل المبادلات التجارية والعلاقات المالية الدولية .

المرجع: عبد الخالق عبد الله، العالم المعاصر والصراعات الدولية ص 161.

المطلوب: اشرح ما تحته خط في النص.

(2) إليك جدولا يمثل إنتاج واستهلاك البترول لبعض المناطق في العالم سنة 2014.

(الوحدة: مليون برميل يوميا.)

المناطق	الشرق الأوسط	أمريكا الشمالية	إفريقيا	آسيا والمحيط الهادي
الإنتاج	28.5	18.7	8.2	8.3
الاستهلاك	8.7	23.3	3.8	30.8

المصدر: النشرة الرقمية لشركة بريتيش بتروليوم سنة 2015.

المطلوب: أ) مثل معطيات الجدول بواسطة أعمدة بيانية بمقياس 1 سم لكل 2 مليون برميل يوميا.

1 سم لكل عمود.

ب) علق على المعطيات الإحصائية الواردة في الجدول.

الجزء الثاني: (04 نقاط)

صرح "جون موني" أحد منظري الوحدة الأوروبية سنة 1943 بما يلي: "... البلدان الأوروبية ضيقة جدا لا يُمكنها ذلك من تحقيق الرخاء والتنمية لشعوبها إلا إذا شكلت هذه البلدان اتحادا وكيانا اقتصاديا أوروبا مشتركا".

المصدر: مؤسسة جون موني لأجل أوروبا. لوزان. (أرشيف جون موني) . ص 676.

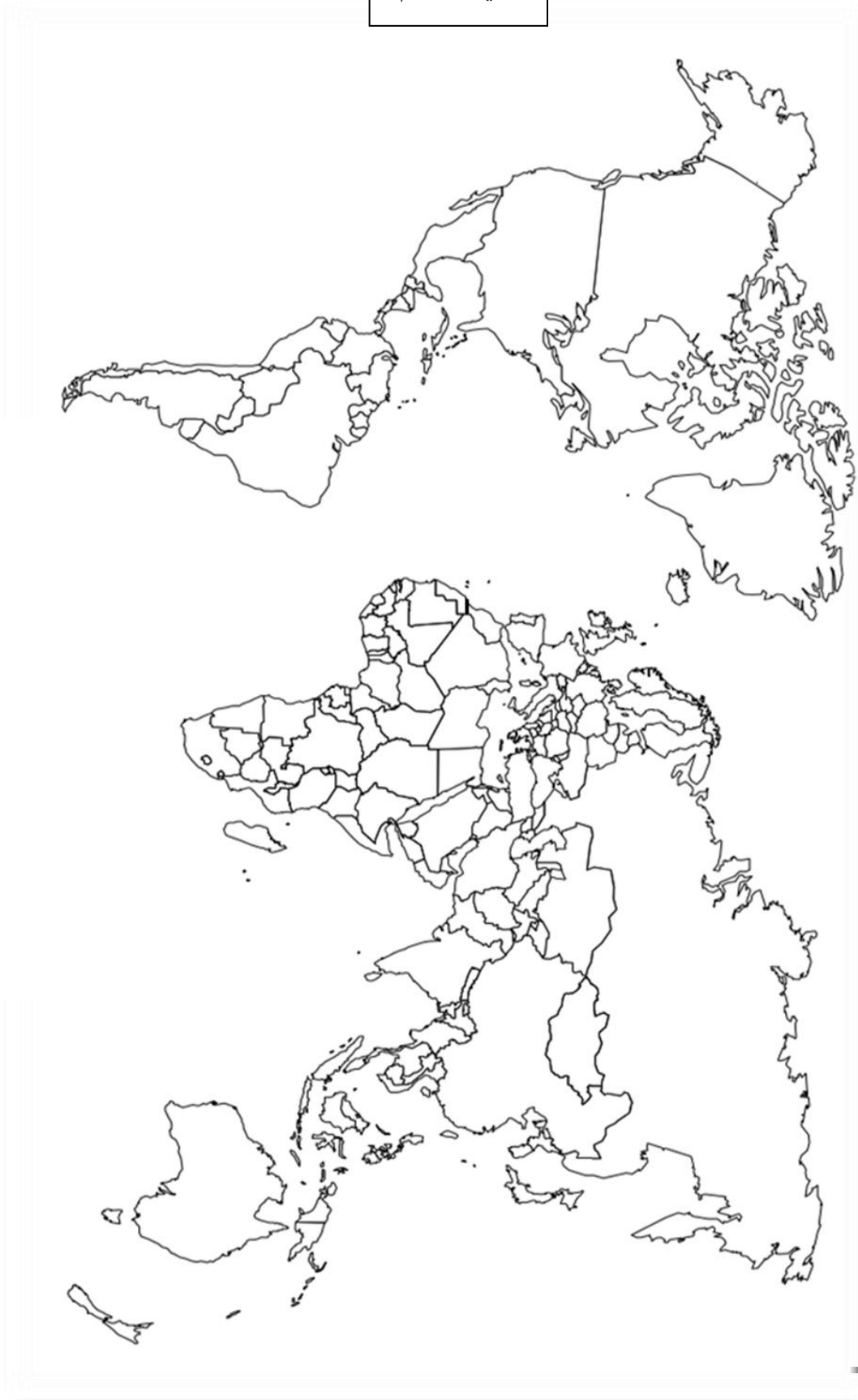
المطلوب: انطلاقا من التصريح واعتمادا على ما درست، اكتب مقالا جغرافيا تبين فيه:

(1) دوافع التكتل الاقتصادي لأوروبا.

(2) دور التكتل في تحقيق الرخاء والتنمية لشعوبها.



خريطة العالم



٤٠



انتهى الموضوع الأول

ينجز العمل المطلوب على الخريطة وتعاد مع أوراق الإجابة



الموضوع الثاني

يحتوي الموضوع الثاني على 03 صفحات (من الصفحة 4 من 6 إلى الصفحة 6 من 6)

التاريخ:

الجزء الأول: (06 نقاط)

(1) " في سنة 1974 وضعت الأزمة الاقتصادية العالمية التوجه نحو الانفراج على المحك. وقد وجد المعارضون للانفراج الدولي حجة لتمرير رؤيتهم، بعد انتهاج الاتحاد السوفياتي سياسة خارجية تقوم على أساس أن الواجب يدفعه لمساندة القوى الوطنية والثورية في العالم ضد الرأسمالية الاستغلالية الامبريالية..."
المرجع: الكتاب المدرسي للسنة الثالثة ثانوي، تاريخ، ص 40.

المطلوب: اشرح ما تحته خط في النص.

(2) عرّف بالشخصيات التالية:

- محمد خيضر - جوزيف ستالين - الجنرال جياب .

(3) أكمل الجدول التالي:

التاريخ	الحدث	انعكاساته
04-11 فيفري 1945
08 ماي 1945
20 جويلية 1954

الجزء الثاني: (04 نقاط)

إنّ ثورة الجزائر عجلت باستقلال الشعوب الإفريقية، وكانت نموذجا لمختلف حركات التحرر في العالم وكدولة مستقلة عاشت الاستعمار وتبعاته، هي منبر يدعو لتصفية الاستعمار وصوت مسموع في المحافل الدولية.
المطلوب: انطلاقا من العبارة واعتمادا على ما درست، اكتب مقالا تاريخيا تبين فيه:

(1) أسس السياسة الخارجية للجزائر المستقلة.

(2) إسهامات الجزائر في مناهضة السياسة الاستعمارية والامبريالية.



الجغرافيا:

الجزء الأول: (06 نقاط)

1) " فرض التينان كوريا وتايوان نفسيهما كاققتصاد خدمات على الأسواق العالمية (60 % من الإنتاج الداخلي الخام)، وقد أسستا ديناميكيتهما على هياكل قاعدية وبنية تحتية قوية، موائى هامة ذات الوزن والكفاءة العالمية ... إنّ المجموعات الاقتصادية والتجارية لكوريا الجنوبية تساهم في تنشيط الاقتصاد الوطني ... وقد عرفت أنظمة الإنتاج تطور فروعها منذ سنوات..."

المرجع: الكتاب المدرسي للسنة الثالثة ثانوي، جغرافيا، ص97.

المطلوب: اشرح ما تحته خطّ في النصّ.

2) إليك جدولا يمثل كمية استيراد القمح حسب المناطق الجغرافية الكبرى في العالم.

(الوحدة: مليون طن)

المناطق الموسم	أوروبا	مجموعة الدول المستقلة	أمريكا الشمالية والوسطى	أمريكا الجنوبية	الشرق الأوسط	الشرق الأقصى	إفريقيا
2013/2012	06.6	07.3	10.6	14.3	24.2	38	39.6
2014/2013	05.6	07	13.7	14.4	26.6	41.9	43.3
2015/2014	06.3	07.4	11.5	12.9	25.5	38.5	42.4

المصدر: المجلس العالمي للحبوب (إحصائيات 2014/06/26).

المطلوب: علّق على معطيات الجدول.

3) وقّع على خريطة العالم المرفقة، دولتين عضوين في اتحاد دول جنوب شرق آسيا (الآسيان - ASEAN) ودولة عضو في مجموعة التبادل الحر (ألينا. ALENA).

الجزء الثاني: (04 نقاط)

تتمتع البلدان الغنية المتقدمة بمستوى عالي من التطور التكنولوجي، أما البلدان الفقيرة فهي تعاني من انخفاض هائل في القدرات التكنولوجية، ولا تتفق سوى القليل في مجال البحث والتطوير.

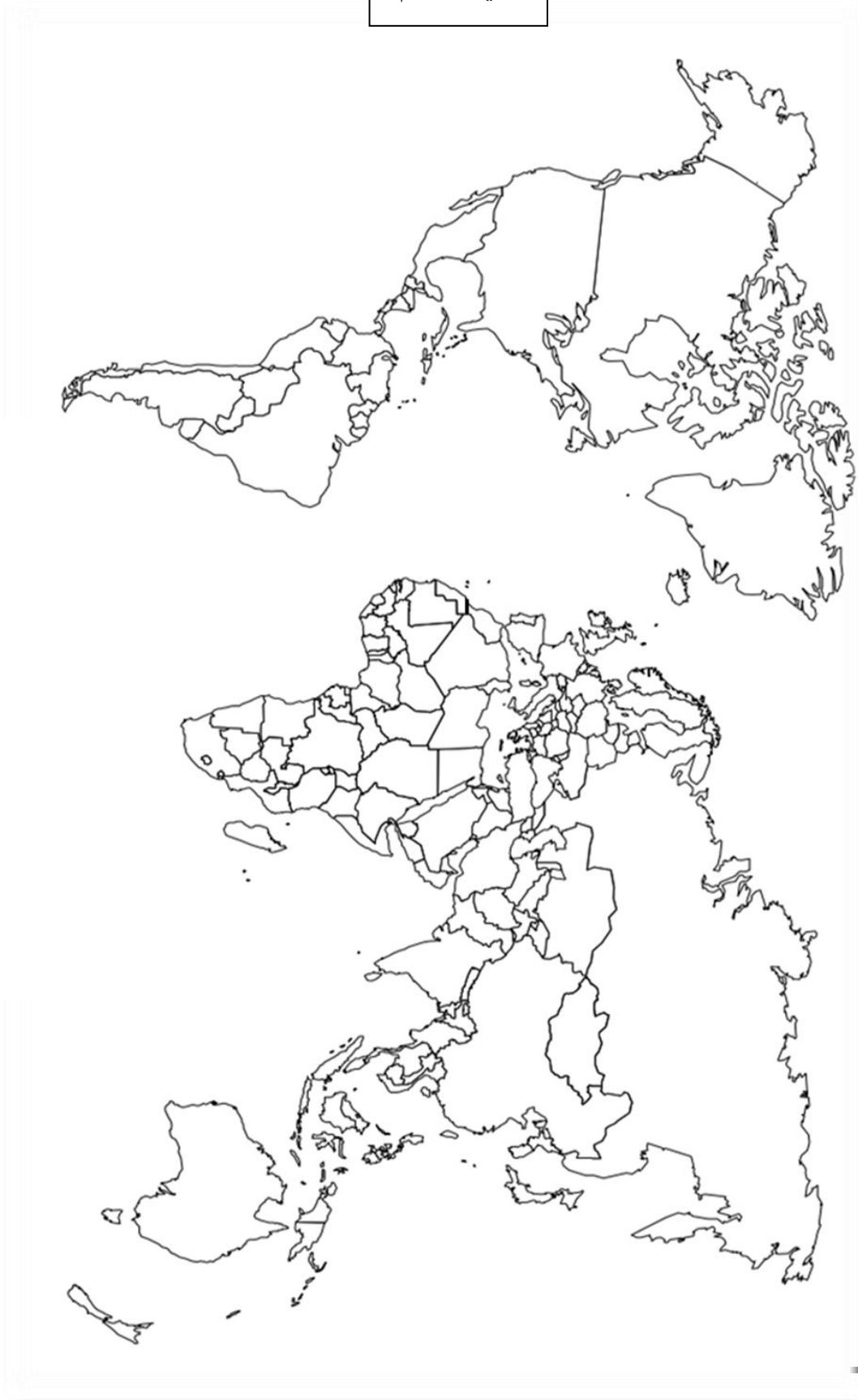
المطلوب: انطلاقا من العبارة واعتمادا على ما درست، اكتب مقالا جغرافيا تبين فيه:

1) عوامل عدم تحكم دول الجنوب في التكنولوجيا.

2) أثر ذلك على واقعها الاقتصادي والاجتماعي.



خريطة العالم



٤٠



انتهى الموضوع الثاني

ينجز العمل المطلوب على الخريطة وتعاد مع أوراق الإجابة

العلامة		عناصر الإجابة
مجموع	مجزأة	
06		<p><u>الموضوع الأول</u></p> <p><u>مادة التاريخ:</u> <u>الجزء الأول:</u></p> <p>(1) <u>شرح ما تحتها خط في النص:</u></p> <p>- <u>التفاوض:</u> الحوار بين جبهة التحرير الوطني والسلطات الاستعمارية الفرنسية لإيجاد حل سياسي للقضية الجزائرية وإنهاء الحرب والذي انتهى بتوقيع اتفاقية إيفيان.</p> <p>- <u>توصيات الأمم المتحدة:</u> القرارات الصادرة عن هيئة الأمم المتحدة القاضية بمنح الشعب الجزائري حقه في تقرير مصيره.</p> <p>- <u>الإدماج:</u> محاولة صهر المجتمع الجزائري في المجتمع الفرنسي (الثقافة، العادات، التقاليد...) عن طريق مشاريع إغرائية...</p> <p>(2) <u>التعريف بالشخصيات وتأثيرها على العلاقات الدولية:</u></p> <p>أ) <u>التعريف بالشخصيات:</u></p> <p>- <u>جواهر لال نهرو:</u> (1889 - 1964) سياسي هندي، تزعم حزب المؤتمر الوطني الهندي، ناضل ضد الاستعمار الإنجليزي إلى جانب غاندي من مؤسسي حركة عدم الانحياز 1961، حضر مؤتمر باندونغ 1955.</p> <p>- <u>جمال عبد الناصر:</u> (1918 - 1970) من أبرز أعضاء تنظيم الضباط الأحرار في مصر وثورة 23 جويلية 1952 ضد النظام الملكي رئيس مصر (1954 - 1970) ،أمم قناة السويس مما عرض مصر لعدوان ثلاثي (بريطانيا، فرنسا، إسرائيل) حضر مؤتمر باندونغ 1955، من أبرز مؤسسي حركة عدم الانحياز 1961.</p> <p>- <u>أحمد سوكارنو:</u> (1901 - 1970) سياسي إندونيسي ناضل ضد الاستعمار الهولندي رئيس إندونيسيا (1949 - 1967) نظم مؤتمر باندونغ 1955 من أبرز مؤسسي حركة عدم الانحياز 1961.</p> <p>ب) <u>تأثير هذه الشخصيات على العلاقات الدولية:</u></p> <p>- محاربة الاستعمار بكل أشكاله.</p> <p>- السعي للتضامن الأفروآسيوي (مؤتمر باندونغ 1955).</p> <p>- تأسيس حركة عدم الانحياز (مؤتمر بلغراد 1961).</p> <p>- دعم الحركات التحررية للتخلص من الاستعمار.</p> <p>- محاربة سياسة الأحلاف العسكرية والمشاريع الاقتصادية والصراع.</p> <p>- مساندة سياسة التعايش السلمي والانفراج الدولي.</p>
	0.50	
	0.50	
	0.50	
	0.50	
	0.50	
	0.50	
	0.50	
	0.50	
	6×0.25	

04	0.75 0.25 0.50	<p>3) التوقيع على الخريطة:</p> <p>- الإنجاز</p> <p>- المفتاح</p> <p>- العنوان</p>
	0.50	<p>الجزء الثاني :</p>
	6×0.25	<p>مقدمة: الحركات التحررية بين تطلعاتها المشروعة في التحرر والأطماع الاستعمارية.</p> <p>1) أهداف الحركات التحررية:</p> <p>- الاستقلال والتخلص من كل أشكال الهيمنة الخارجية (الاستعمارية).</p> <p>- تخليص شعوب المستعمرات من الآثار السلبية للسيطرة الاستعمارية.</p> <p>- تحقيق مبدأ تقرير المصير (دون ضغوطات خارجية) والقضاء على الأنظمة العميلة.</p> <p>- تحسين مستوى معيشة شعوب المستعمرات.</p> <p>- التعاون الدولي لمواجهة الأزمات السياسية الاقتصادية والاجتماعية.</p> <p>- المحافظة على السلام العالمي والتمسك بمبادئ الأمم المتحدة والمواثيق الدولية.</p>
	6×0.25	<p>2) استراتيجية الدول الاستعمارية لإبقاء هيمنتها على مستعمراتها السابقة:</p> <p>- إنشاء أحلاف عسكرية (سياسية الاحتواء): حلف بغداد وجنوب شرق آسيا.</p> <p>- اتفاقيات اقتصادية: مساعدات، استثمارات، قروض....</p> <p>- دعم الأنظمة الموالية والانقلابين ضد الأنظمة المناهضة للاستعمار.</p> <p>- إثارة النزاعات الطائفية والإقليمية</p> <p>- إنشاء منظمات (الكومنولث من قبل بريطانيا والفرنكوفونية من قبل فرنسا) لدعم لغتها وثقافتها واقتصادها وبالتالي تكريس الهيمنة الثقافية.</p> <p>- ممارسة الضغط عن طريق المنظمات الدولية (مجلس الأمن، صندوق النقد الدولي، والمنظمات غير الحكومية...).</p>
	0.50	<p>خاتمة: رغم الجهود التي بذلتها وتبذلها الحركات التحررية لمواجهة الاستعمار والإمبريالية إلا أن البلدان المستقلة لا تزال تتخبط تحت وطأة تلك القوى.</p>

06	<p>جغرافيا:</p> <p>الجزء الأول</p> <p>1) <u>شرح ما تحته خط في النص:</u></p> <p>- <u>هيمنة مالية:</u> تحكم الدول الكبرى في الأسواق والمؤسسات المالية العالمية وفرض عملاتها في المبادلات التجارية العالمية والاستثمارات ...</p> <p>- <u>النظام النقدي العالمي:</u> مجموعة القواعد والقوانين التي تدير العلاقات النقدية بين الدول ويشرف عليها صندوق النقد الدولي وتأسس هذا النظام في بروتون وودز بالو.م.أ. عام 1944.</p> <p>- <u>المبادلات التجارية:</u> عملية التصدير والاستيراد (بيع وشراء) للسلع والخدمات بين دول العالم.</p> <p>2) تحويل المعطيات الإحصائية الواردة في الجدول الذي يمثل كمية إنتاج واستهلاك البترول لبعض المناطق في العالم سنة 2014 إلى أعمدة بيانية.</p> <p>- الإنجاز:</p> <p>- العنوان:</p> <p>- المفتاح:</p> <p>- المقياس:</p> <p>3) <u>التعليق</u> على المعطيات الإحصائية الواردة في الجدول الذي يمثل كمية إنتاج واستهلاك البترول لبعض المناطق في العالم سنة 2014:</p> <p>- وثيقة إحصائية تبين كمية إنتاج واستهلاك البترول لبعض المناطق الجغرافية الكبرى في العالم.</p> <p>- تباين كمية الإنتاج (تحتل منطقة الشرق الأوسط الصدارة بـ 28.5 مليون برميل يوميا) .</p> <p>- تباين كمية الاستهلاك: (تحتل منطقة آسيا والمحيط الهادي الصدارة بـ 30.8 مليون برميل يوميا ثم أمريكا الشمالية بـ 23.3 مليون برميل يوميا نظرا للتقدم الاقتصادي وكثافة النشاطات ، إضافة إلى ارتفاع مستوى المعيشة والوزن الديمغرافي، بينما تقل هذه الكمية في الشرق الأوسط وإفريقيا) نتيجة التخلف الاقتصادي وضعف مستوى المعيشة خاصة في إفريقيا ..</p> <p>الجزء الثاني :</p> <p><u>مقدمة:</u> التكتل ضرورة حتمية أملت لها ظروف أوروبا ما بعد الحرب ع.2.</p>
	0.75
	0.75
	0.50
	1.25
	0.25
	0.25
	0.25
	02
	0.50

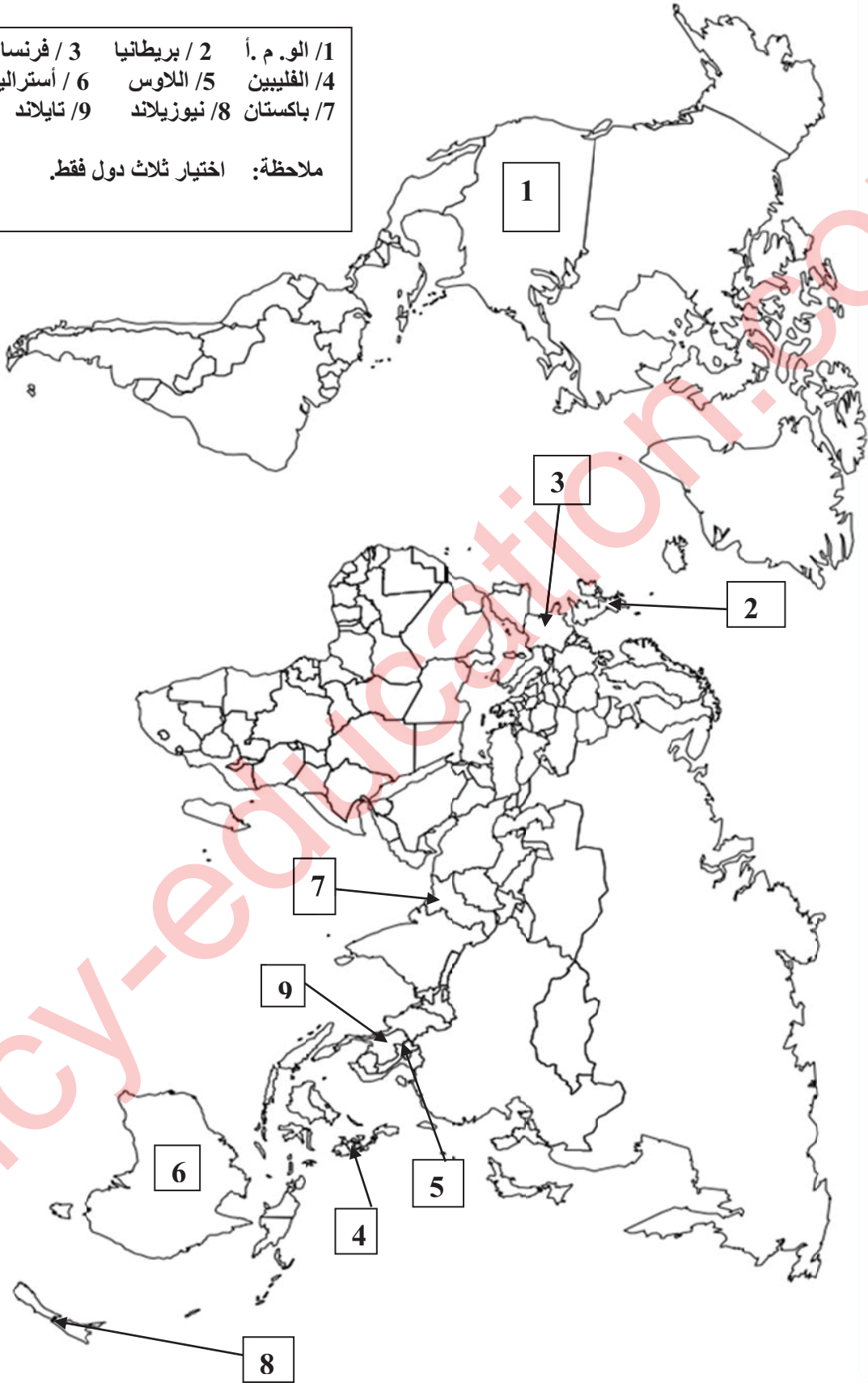
04	6×0.25	<p>(1) <u>دوافع التكتل الاقتصادي لأوروبا:</u></p> <ul style="list-style-type: none"> - تحقيق التكامل الاقتصادي نظرا للتفاوت في الموارد. - توحيد الجهود والاستغلال العقلاني للإمكانيات المتاحة. - استرجاع مكانتها الاقتصادية والتخلص من الهيمنة الأمريكية. - مساعدة دول أوروبا الشرقية في التخلص من الآثار السلبية للأنظمة الشيوعية (البطالة و الفقر) وتحقيق الرفاهية والتنمية لشعوبها. - توسيع السوق الاستهلاكية ومواجهة المنافسة الخارجية (اليابان و .و .م أ) - توسيع مجال الاستثمارات من دول أوروبا الغربية نحو دول أوروبا الشرقية. <p>(2) <u>دور التكتل في تحقيق الرخاء والتنمية لشعوبها:</u></p> <p>*- مكن أوروبا من:</p> <ul style="list-style-type: none"> - تحقيق الاكتفاء في مختلف الحاجيات (السلع - الخدمات..). - رفع المستوى المعيشي للشعوب الأوروبية (الرفاهية) - تطور اقتصادي كبير (زراعة، صناعة، خدمات). - حرية تنقل البضائع والأشخاص بدون حواجز جمركية. - التخلص من الفوارق في مستوى التنمية بين دوله. - الاستقرار والأمن. <p><u>خاتمة:</u> التكتل مكن أوروبا من إعادة بناء اقتصادها وحولها إلى قطب اقتصادي عالمي.</p> <p><u>ملاحظة :</u> (تقبل الإجابات الصحيحة الأخرى).</p>
	6×0.25	
	0.50	

توقيع ثلاث دول تنتمي إلى حلف جنوب شرق آسيا


- 1/ الو.م.أ. / 2/ بريطانيا / 3/ فرنسا
4/ الفلبين / 5/ اللوس / 6/ أستراليا
7/ باكستان / 8/ نيوزيلاند / 9/ تايلاند

ملاحظة: اختيار ثلاث دول فقط.

يُنجز العمل المطلوب على الخريطة وتُعاد مع أوراق الإجابة



إنتاج و استهلاك البترول في بعض مناطق العالم 2014



العلامة		عناصر الإجابة											
مجموع	مجزأة												
06		الموضوع الثاني											
		التاريخ											
		الجزء الأول:											
		(1) شرح ما تحته خط في النص:											
	0.75	- الانفراج الدولي: التخلي عن التشدد والاحتقان في العلاقات بين الشرق بزعامة الإتحاد السوفياتي والغرب بزعامة الولايات المتحدة الأمريكية وتفضيل الحلول السلمية .											
	0.75	- القوى الوطنية والثورية: الأحزاب السياسية و الحركات المناهضة للاستعمار بكل أشكاله والأنظمة المحلية الموالية له، و التي تعمل على إقامة أنظمة اشتراكية أو شيوعية.											
	0.50	- الإمبريالية : شكل من أشكال الاستعمار غير المباشرة، يقوم على الهيمنة السياسية والاقتصادية والثقافية ، ويمثل أقصى أنواع الاستغلال .											
		(2) التعريف بالشخصيات:											
	0.75	- محمد خيضر (1912-1967): مناضل جزائري انخرط في صفوف حزب الشعب ثم ح.ا.ح.د.، عضو مجموعة 09 والوفد الخارجي ، أعتقل عام 1956 في حادثة اختطاف الطائرة ، عين وزيرا في الحكومة المؤقتة.											
	0.75	- الجنرال حباب: عسكري فيتنامي قاد معركة ديان بيان فو 1954 ضد الجيش الفرنسي ثم في الحرب الفيتنامية ضد التدخل العسكري الأمريكي.											
	0.50	- جوزيف ستالين:(1879-1953) رئيس الاتحاد السوفياتي من 1924 إلى 1953 تميز بتشدده في علاقاته مع الغرب (أزمة برلين كوريا، سباق التسلح) القنبلة النووية (1949) ،فرض أنظمة شيوعية في دول أوربا الشرقية...											
		(3) تكملة جدول الأحداث:											
		<table><tr><th>التاريخ</th><th>الحدث</th><th>انعكاساته</th></tr><tr><td>1945/02/11-04</td><td>مؤتمر يالطا</td><td>القضاء على النازية وتقسيم ألمانيا إلى مناطق نفوذ لصالح الحلفاء...</td></tr><tr><td>1945/05/08</td><td>مجازر 08 ماي 1945</td><td>45 ألف شهيد، خلافات داخل الحركة الوطنية، إعادة بناء الحركة الوطنية ترسيخ فكرة استرجاع الحرية بالقوة...</td></tr><tr><td>1954/07/20</td><td>مؤتمر جنيف (خاص بالفيتنام)</td><td>تقسيم فيتنام التدخل العسكري الأمريكي لدعم حكومة الجنوب ...</td></tr></table>	التاريخ	الحدث	انعكاساته	1945/02/11-04	مؤتمر يالطا	القضاء على النازية وتقسيم ألمانيا إلى مناطق نفوذ لصالح الحلفاء...	1945/05/08	مجازر 08 ماي 1945	45 ألف شهيد، خلافات داخل الحركة الوطنية، إعادة بناء الحركة الوطنية ترسيخ فكرة استرجاع الحرية بالقوة...	1954/07/20	مؤتمر جنيف (خاص بالفيتنام)
التاريخ	الحدث	انعكاساته											
1945/02/11-04	مؤتمر يالطا	القضاء على النازية وتقسيم ألمانيا إلى مناطق نفوذ لصالح الحلفاء...											
1945/05/08	مجازر 08 ماي 1945	45 ألف شهيد، خلافات داخل الحركة الوطنية، إعادة بناء الحركة الوطنية ترسيخ فكرة استرجاع الحرية بالقوة...											
1954/07/20	مؤتمر جنيف (خاص بالفيتنام)	تقسيم فيتنام التدخل العسكري الأمريكي لدعم حكومة الجنوب ...											
	الجزء الثاني :												
0.50	مقدمة : الثورة الجزائرية من محاربة الاستعمار التقليدي إلى مناهضة الاستعمار الجديد.												
	(1) أسس السياسة الخارجية للجزائر المستقلة:												
	- مساندة الحركات التحررية والقضايا العادلة ونبذ التمييز العنصري.												
	-المطالبة بحق الشعوب في تقرير مصيرها.												
	-تبني موقف الحياد الايجابي. والتمسك بعدم التدخل في الشؤون الداخلية لأي دولة.												
6×0.25	-السيادة في القرار السياسي والتعاون الدولي، ورفض الاستعمار .												

04	6×0.25	<p>- العمل على التحرر الاقتصادي وتحقيق التنمية الشاملة.</p> <p>- الالتزام بالقانون الدولي والمواثيق الدولية.</p> <p>(2) إسهامات الجزائر في مناهضة السياسة الإمبريالية :</p> <p>- دعم قضايا التحرر في إفريقيا وآسيا (القضية الفلسطينية، الصحراء الغربية...).</p> <p>- دورها الفعّال في تعزيز التكتلات الإقليمية والقارية (الاتحاد المغاربي ، الجامعة العربية ، الاتحاد الإفريقي...).</p> <p>- احتضانها للقمة الرابعة لحركة عدم الانحياز عام 1973 والدعوة إلى إقامة نظام اقتصادي جديد عادل.</p> <p>- رفضها للتدخل الأجنبي في الشؤون الداخلية للدول (المشكلة الليبية، المالية).</p> <p>- انضمامها ومساهمتها الكبيرة في منظمة الأوبك (محاربة الشركات الاحتكارية)</p> <p>- تفعيل التعاون جنوب جنوب والحوار شمال جنوب على أسس عادلة.</p> <p>- خاتمة: تأكيد دور الجزائر في دعم القضايا العادلة وتقويض الاستعمار بجميع أشكاله.</p> <p>الجغرافيا</p> <p>الجزء الأول:</p> <p>(1) شرح ما تحته خط في النص:</p> <p>- خدمات: هي مختلف الأنشطة غير المنتجة بطريقة مباشرة المصنفة ضمن القطاع الثالث منها : التجارة ، التعليم.</p> <p>- الأسواق العالمية : وهي الفضاءات المخصصة لتداول جميع السلع (بيع ، شراء ، مقايضة) وعقد الصفقات التجارية بين دول العالم...</p> <p>- هياكل القاعدية : هي مختلف البنى التحتية التي تعد مقياس لتطور أي بلد وهي عنصر ضروري لتنشيط الحياة الاقتصادية منها الموانئ ، شبكة المواصلات ، الجسور ، الجامعات والمستشفيات ...</p> <p>(2) التعليق على معطيات الجدول :</p> <p>- تمثل الأرقام كمية استيراد القمح من قبل دول كل منطقة من المناطق الجغرافية الكبرى في العالم.</p> <p>- تباين كمية الاستيراد بين المناطق.</p> <p>- تقلص الاستيراد بالنسبة للدول الأوروبية و دول الاتحاد السوفياتي (سابقا) وأمريكا الشمالية نظرا لكثرة الإنتاج</p> <p>- ترتفع كمية الاستيراد بالنسبة لدول إفريقيا والشرق الأوسط بالخصوص نظرا لضعف الإنتاج...</p>
06	<p>4×0.50</p> <p>1.50</p> <p>0.25</p> <p>0.25</p> <p>0.50</p> <p>6×0.25</p>	<p>(3) التوقيع على الخريطة :</p> <p>- الإنجاز:</p> <p>- العنوان</p> <p>- المفتاح</p> <p>الجزء الثاني:</p> <p>مقدمة: التخلف التكنولوجي في العالم الثالث بين الواقع والانعكاسات.</p> <p>(1) عوامل عدم تحكم دول الجنوب في التكنولوجيا :</p> <p>- مخلفات الاستعمار وعدم الاستقرار السياسي.</p> <p>- قلة الاهتمام بالبحث العلمي .</p> <p>- هجرة الأدمغة.</p> <p>- قلة الاستثمار في تنمية العنصر البشري .</p> <p>- ضعف التحصيل العلمي.</p> <p>- احتكار الدول الكبرى للتكنولوجيا.</p>

04	6×0.25	<p>(2) <u>أثر ذلك على واقعها الاقتصادي و الاجتماعي :</u></p> <ul style="list-style-type: none"> -الضعف الاقتصادي وعدم مسايرة التطورات. -التبعية في جميع الميادين . -تردي الخدمات و مستوى المعيشة. -ارتفاع حجم المديونية و تبعاتها. -عدم تحقيق الاكتفاء الذاتي. -اتساع الهوة بين الشمال و الجنوب .
	0.50	<p>- <u>خاتمة:</u> التحكم في التكنولوجيا شرط أساسي لتحقيق التقدم.</p>
		<p><u>ملاحظة:</u> تقبل الإجابات الصحيحة الأخرى.</p>

