

على المترشح أن يختار أحد الموضوعين التاليين:

الموضوع الأول

يحتوي الموضوع الأول على صفتين (الصفحة 1 من 5 والصفحة 2 من 5)

التاريخ:

الجزء الأول: (06 نقاط)

جاء في بيان أول نوفمبر ما يلي: «... فإذا كان هدف أي حركة ثورية في الواقع هو خلق جميع الظروف الثورية للقيام بعملية تحريرية، فإننا نعتبر الشعب الجزائري في أوضاعه الداخلية متحدا حول قضية الاستقلال... ، أما في الأوضاع الخارجية فإن الانفراج الدولي مناسب لتسوية بعض المشاكل الثانوية التي من بينها قضيتنا التي تجد سندها الدبلوماسي وخاصة من إخواننا العرب والمسلمين...».

المرجع : الكتاب المدرسي - تاريخ ص 178

1- اشرح ما تحته خط في النص.

2- عرّف بالشخصيات التالية: المهاتما غاندي - العربي بن مهيدي - ونستون تشرشل.

3- أكمل جدول الأحداث التالي:

الحدث	تاريخه
مشروع قسنطينة
.....	1947-08-15
معركة ديان بيان فو

الجزء الثاني: (04 نقاط)

خاضت جبهة التحرير الوطني معركة سياسية ودبلوماسية على الصعيدين الداخلي والخارجي، من أجل دعم الكفاح المسلح وإقناع المجتمع الدولي بعدالة القضية الجزائرية.

المطلوب:

انطلاقا من الفقرة واعتمادا على ما درست، اكتب مقالا تاريخيا تبين فيه:

1- مظاهر النشاط السياسي للثورة على المستوى الداخلي.

2- الانتصارات التي حققتها الثورة على الصعيد الدبلوماسي.

الجغرافيا:

الجزء الأول: (06 نقاط)

- إن الإمضاء على اتفاق الشراكة مع الاتحاد الأوروبي وانضمام الجزائر لمنظمة التجارة العالمية ، سيؤدي حتما إلى انفتاح كبير لحدودنا الاقتصادية مما يفرض علينا:
- تأهيل أداتنا الإنتاجية لتحضير مؤسساتنا لمواجهة المنافسة.
 - حيازة مواقع في الأسواق العالمية.
 - تشجيع الاستثمار وتوسيع رقعته في البلاد.

المرجع: الكتاب المدرسي - جغرافيا - ص/ 169.

1- اشرح ما تحته خط في النص.

2- إليك جدولا يمثل نسب مساهمة بعض الدول في الإنتاج العالمي للأرز سنة 2010 .

الدول	الصين	الهند	اندونيسيا	بنغلادش	الفيتنام
نسبة الإنتاج %	28.7	19.5	9.4	6.9	5.6

المصدر: منظمة الأغذية والزراعة 2011.

المطلوب:

أ- مثل نسب الجدول بأعمدة بيانية بمقياس: 1 سم ← 5%

1 سم ← عمود

ب- علق على الرسم البياني.

الجزء الثاني: (04 نقاط)

لا تزال مساهمة الجزائر في المبادلات التجارية العالمية متواضعة بسبب عدم تنوع مواردها الاقتصادية.

المطلوب:

انطلاقا من الفكرة و اعتمادا على ما درست، اكتب مقالا جغرافيا تبين فيه:

- 1- طبيعة المبادلات التجارية الجزائرية.
- 2- الانعكاسات المترتبة عن اعتماد الجزائر على اقتصاد المورد الواحد.

انتهى الموضوع الأول

الموضوع الثاني

يحتوي الموضوع الثاني على 03 صفحات (من الصفحة 3 من 5 إلى الصفحة 5 من 5)

التاريخ:

الجزء الأول: (06 نقاط)

"... إذا كان الاتحاد السوفييتي قد بذل محاولات جدية للوصول إلى تفاهم مع الغرب، فمعنى ذلك أنه مقتنع بضرورة التعايش السلمي مع سائر النظم السياسية، ريثما يتمكن أحد المعسكرين من التغلب على الآخر، دون اللجوء إلى الحرب. وفي يقين السوفييات أن النظام الرأسمالي يحمل في طياته بذور دماره بينما الاشتراكية هي النظام الذي يفرض نفسه في النهاية..."

المرجع: لبيب شفيق أحداث القرن 20 دار دمشق ص 245. بتصرف.

1- اشرح ما تحته خط في النص.

2- عرّف بالشخصيات التالية: زيغود يوسف، جواهر لال نهرو، دوايت إيزنهاور.

3- أكمل الجدول التالي:

التاريخ	الحدث
.....	إعلان ديغول عن مشروع تقرير المصير
29 أكتوبر 1956
.....	توحيد الألمانيتين

الجزء الثاني: (04 نقاط)

استطاعت الولايات المتحدة الأمريكية في أواخر الثمانينيات وبداية التسعينيات من حسم المواجهة مع الشرق لصالحها وانفرادها بالزعامة الدولية.

المطلوب:

انطلاقا من الفقرة واعتمادا على ما درست، اكتب مقالا تاريخيا تبين فيه:

1- مظاهر انفراد الولايات المتحدة الأمريكية بالزعامة الدولية.

2- الوسائل التي استعملتها الولايات المتحدة الأمريكية للهيمنة على العالم.

الجغرافيا:

الجزء الأول: (06 نقاط)

"... القطب الأول هو اليابان...يعتمد في نجاحه على قوة الشركات متعددة الجنسيات ويتمثل القطب الثاني في التنينات التي استفادت من التحول التكنولوجي الياباني ... وهي بذلك ذات دخل وطني مرتفع وقوة تجارية ومراكز مالية هامة..."

المرجع: الكتاب المدرسي/ السنة الثالثة ثانوي/جغرافيا/ ص:108. بتصرف.

1- اشرح ما تحته خط في النص.

2- إليك جدولا يمثل نسب امتلاك بعض الدول من الشركات متعددة الجنسيات سنة 2006.

البلد	الولايات المتحدة	اسبانيا	بريطانيا	استراليا	باقي العالم
النسبة %	44.20	09.60	10.00	04.00	32.20

المصدر: مجلة بدائل اقتصادية رقم 70 سنة 2006.

المطلوب:

أ- مثل معطيات الجدول بدائرة نسبية: نق = 3 سم.

ب- وقع على خريطة العالم المرفقة الدول الواردة في الجدول.

الجزء الثاني: (04 نقاط)

أنتج النظام الاقتصادي العالمي المعاصر عالما متقدما غنيا ومهيمننا على الاقتصاد العالمي وعالما فقيرا متخلفا وتابعا.

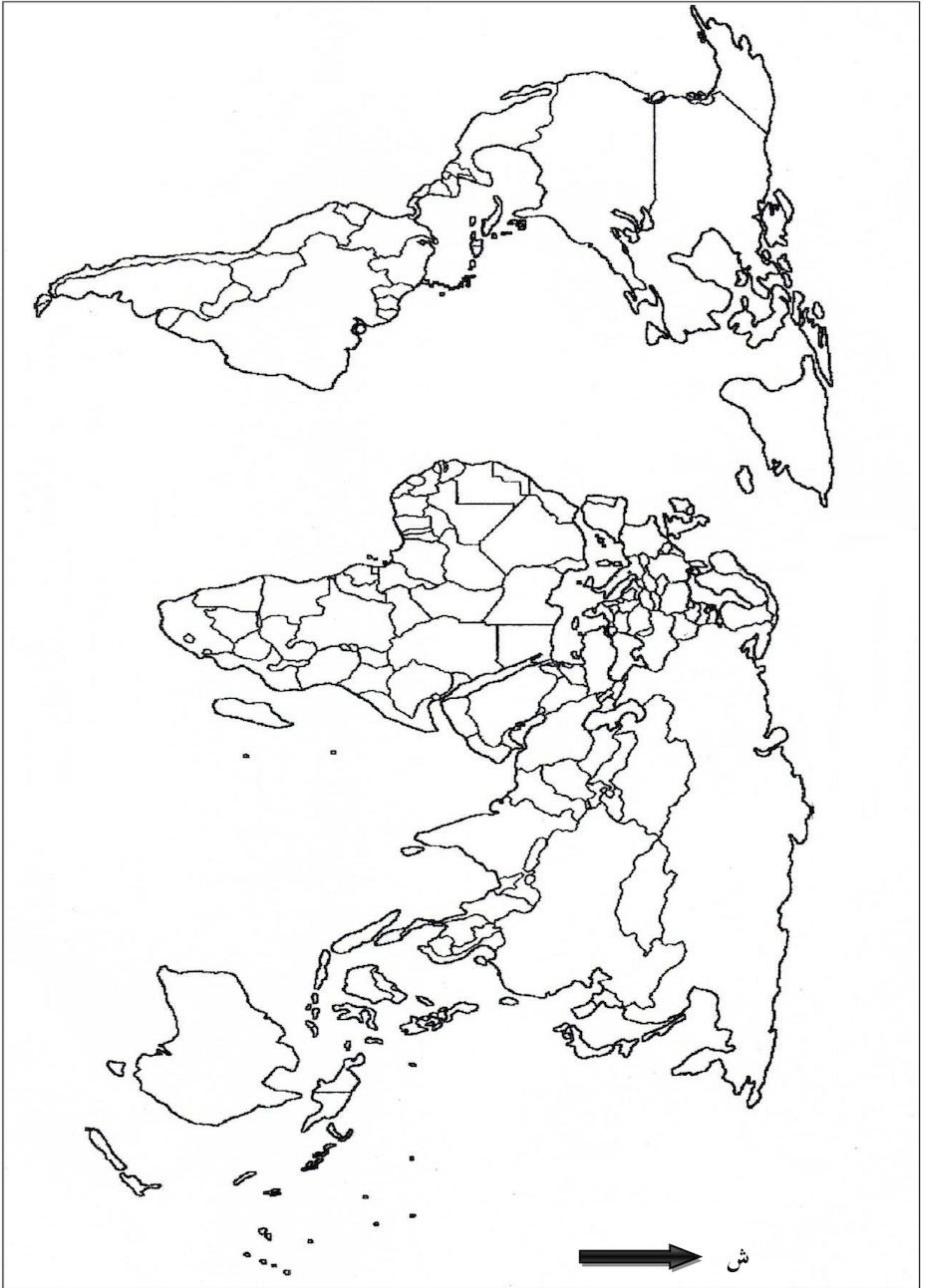
المطلوب:

انطلاقا من الفقرة واعتمادا على ما درست، اكتب مقالا جغرافيا تبين فيه:

1- مظاهر اختلال العلاقات التجارية بين العالمين.

2- أدوات الهيمنة التجارية للعالم المتقدم على العالم المتخلف.

خريطة العالم



ينجز العمل المطلوب على الخريطة وتعاد مع أوراق الإجابة

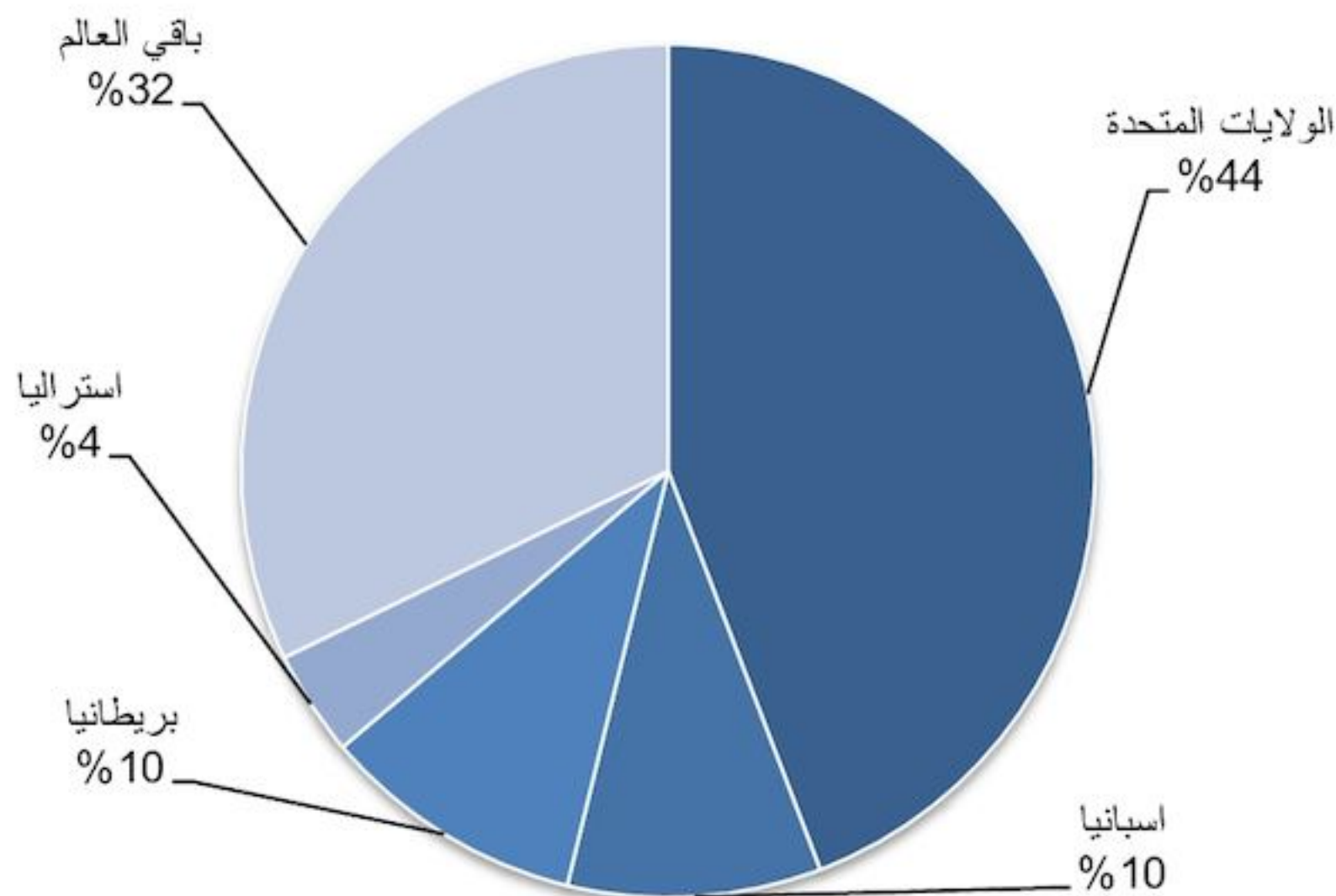
انتهى الموضوع الثاني

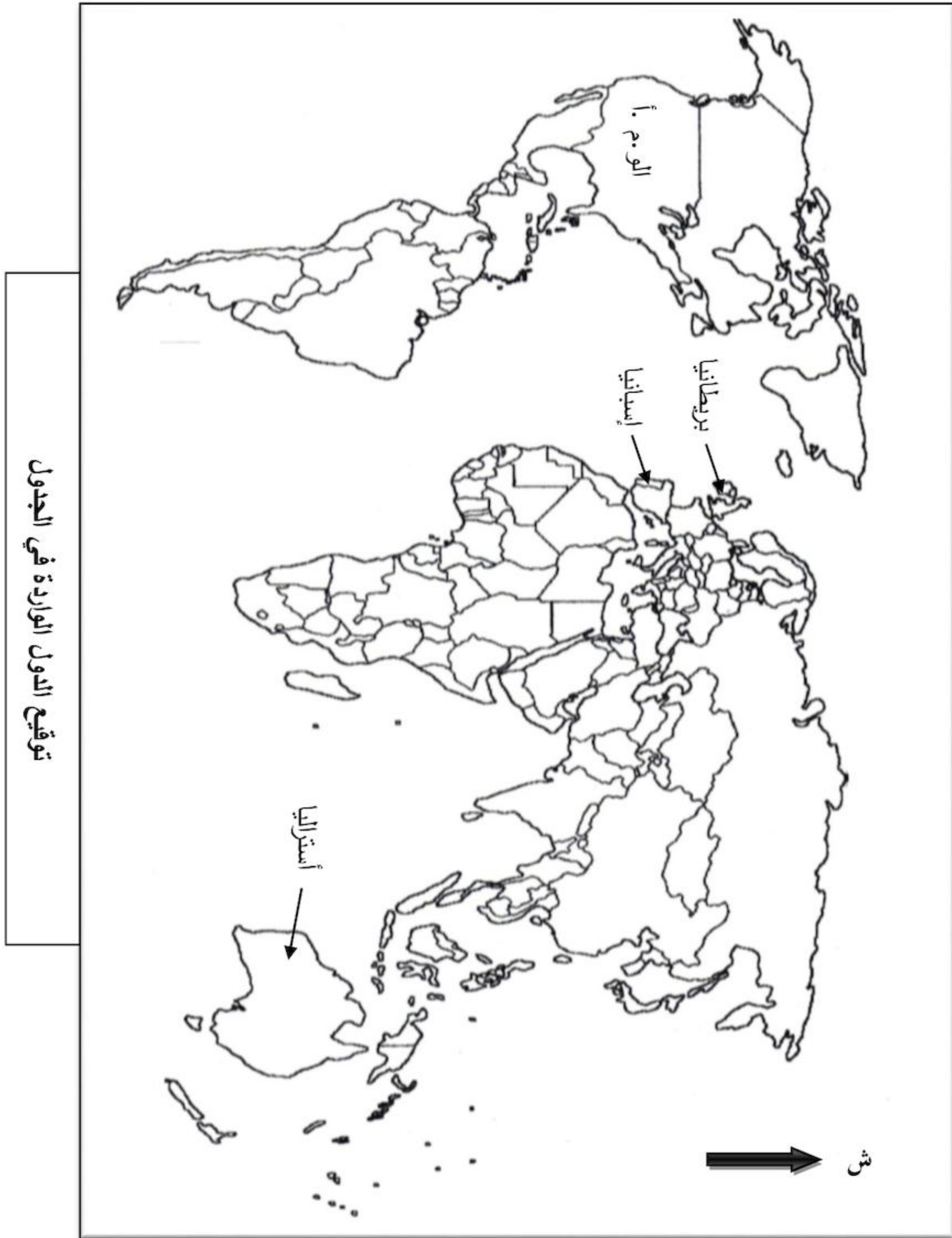
العلامة		عناصر الإجابة								
مجموع	مجزأة									
06		<p>التاريخ</p> <p>الجزء الأول: (06ن)</p> <p>1-شرح المصطلحات:</p> <ul style="list-style-type: none">● التعايش السلمي: هو مسعى سياسي نادى به خروتشوف سنة 1956 بغية حل المشاكل الدولية بالطرق السلمية بعيدا عن المواجهة العسكرية المباشرة بين المعسكرين.● النظام الرأسمالي: نظام سياسي واقتصادي واجتماعي يقوم على مبدأ الحرية والملكية الفردية الخاصة لوسائل الإنتاج في ظل المنافسة الحرة.● الاشتراكية: نظام سياسي واقتصادي واجتماعي يقوم على مبدأ الملكية العامة لوسائل الإنتاج والثروة بهدف تحقيق العدالة الاجتماعية. <p>2-التعريف بالشخصيات:</p> <ul style="list-style-type: none">● زيغود يوسف: شخصية وطنية تاريخية ومناضل في حزب الشعب، المنظمة الخاصة ومجموعة 22،قائد المنطقة الثانية، منظم هجومات الشمال القسنطيني في 20 أوت 1955.● جواهر لال نهرو: أول رئيس وزراء الهند بعد الاستقلال 1947،من مؤسسي حركة عدم الانحياز وزعمائها التاريخيين.● دوايت إيزنهاور: قائد قوات الحلفاء خلال ح 2 ورئيس الو.م.أ خلفا لهاري ترومان، صاحب مشروع ايزنهاور 1957 وسياسة ملء الفراغ. <p>3-جدول الأحداث المعلمية:</p> <table><tr><th>التاريخ</th><th>الحدث</th></tr><tr><td>16سبتمبر 1959</td><td>إعلان ديغول عن مشروع تقرير المصير</td></tr><tr><td>29 أكتوبر 1956</td><td>العدوان الثلاثي على مصر</td></tr><tr><td>03أكتوبر 1990</td><td>توحيد الألمانيتين</td></tr></table>	التاريخ	الحدث	16سبتمبر 1959	إعلان ديغول عن مشروع تقرير المصير	29 أكتوبر 1956	العدوان الثلاثي على مصر	03أكتوبر 1990	توحيد الألمانيتين
	التاريخ	الحدث								
	16سبتمبر 1959	إعلان ديغول عن مشروع تقرير المصير								
	29 أكتوبر 1956	العدوان الثلاثي على مصر								
	03أكتوبر 1990	توحيد الألمانيتين								
			<p>الجزء الثاني: (04ن)</p> <p>المقدمة: نهاية الصراع بين الشرق والغرب بتفكك المعسكر الشرقي وانفراد الولايات المتحدة بقيادة العالم.</p> <p>1-مظاهر انفراد الولايات المتحدة الأمريكية بقيادة العالم:</p> <ul style="list-style-type: none">● التأسيس لنظام عالمي جديد قائم على الهيمنة الأمريكية "الأمركة".● التدخل في الشؤون الداخلية للدول بحجة حماية حقوق الأقليات ونشر قيم الديمقراطية.● تهميش دور المنظمات الدولية والإقليمية كالأمم المتحدة وحركة عدم الانحياز.● تسوية النزاعات الدولية وفق المنظور الأمريكي.● فرض النمط الليبرالي الأمريكي (العولمة).● إحكام السيطرة الأمريكية على الاقتصاد العالمي.							

العلامة		عناصر الإجابة
مجموع	مجزأة	
		<p>2- الوسائل التي استعملتها الولايات المتحدة الأمريكية للهيمنة على العالم:</p> <ul style="list-style-type: none"> • توظيف هيئة الأمم المتحدة و أجهزتها لإضفاء الشرعية الدولية على ممارساتها. • استخدام حلف شمال الأطلسي لفرض مواقفها. • المنظمات المالية والاقتصادية الدولية F.M.I+O.M.C "صندوق النقد الدولي، منظمة التجارة العالمية". • مؤسسات المجتمع المدني والمنظمات غير الحكومية. • وسائل الإعلام والاتصال المختلفة. <p>الخاتمة: نهاية نظام القطبية الثنائية كرس الهيمنة الأمريكية على العالم.</p>
		<p>الجغرافيا</p> <p>الجزء الأول: (06ن)</p> <p>1- شرح المصطلحات:</p> <ul style="list-style-type: none"> • الشركات متعددة الجنسيات: شركات احتكارية عالمية عملاقة تملك وتدير بصورة مباشرة وغير مباشرة أنشطة استثمارية متعددة خارج الدولة الأم. • التتينات: هي مجموعة دول من شرق وجنوب شرق آسيا شهدت تحولات اقتصادية كبرى بلغت من خلالها ركب الدول المتطورة، تضم: كوريا الجنوبية. هونغ كونغ. تايوان. سنغافورة. • الدخل الوطني: حاصل قيمة السلع والخدمات المنتجة من قبل سكان بلد ما داخليا وخارجيا خلال سنة معينة. <p>2- التمثيل البياني والتوقيع على الخريطة :</p> <p>أ - التمثيل البياني:</p> <ul style="list-style-type: none"> • الانجاز. • العنوان. • المقياس. • المفتاح. <p>ب- التوقيع على الخريطة:</p> <ul style="list-style-type: none"> • الانجاز. • العنوان. • المفتاح.
06	0.75 0.75 0.75 1.50 0.25 0.25 0.25 01 0.25 0.25	

04	0.50	الجزء الثاني:(04ن)
	0.50	المقدمة: ظاهرة التفاوت الاقتصادي بين العالمين المتقدم والمتخلف مرتبطة بواقع الاقتصاد العالمي المختل.
	0.25	1-مظاهر اختلال العلاقات التجارية بين العالمين:
	0.25	• احتكار الدول المتقدمة للتجارة العالمية.
	0.25	• ضعف مساهمة الدول المتخلفة في التجارة الدولية.
	0.25	• هيمنة الثالوث العالمي على 70 %من التجارة الدولية.
	0.25	• ارتفاع أسعار المواد المصنعة و المواد الغذائية الإستراتيجية مقابل انخفاض أسعار المواد الأولية.
	0.25	• سيطرة الشركات متعددة الجنسيات على 40%من التجارة العالمية.
		2/ أدوات الهيمنة التجارية للعالم المتقدم على العالم المتخلف :
	0.25	• احتكار الدول المتطورة للتكنولوجيا
	X	• توظيف المؤسسات المالية والاقتصادية الدولية (صندوق النقد الدولي، البنك العالمي، المنظمة العالمية للتجارة).
	6	• توظيف الشركات متعددة الجنسيات.
		• السيطرة على أسواق المواد الأولية(البورصات العالمية).
		• الهيمنة على وسائل الإعلام والاتصال.
0.5	• إغراق الدول المتخلفة في الديون.	
	الخاتمة: التفاوت والاختلال الحاصل في النظام الاقتصادي العالمي الحالي يستدعي إعادة النظر في العلاقات الاقتصادية الدولية.	
	(تقبل كل الإجابات الصحيحة)	

نسب امتلاك بعض الدول من الشركات متعددة الجنسيات سنة 2006.





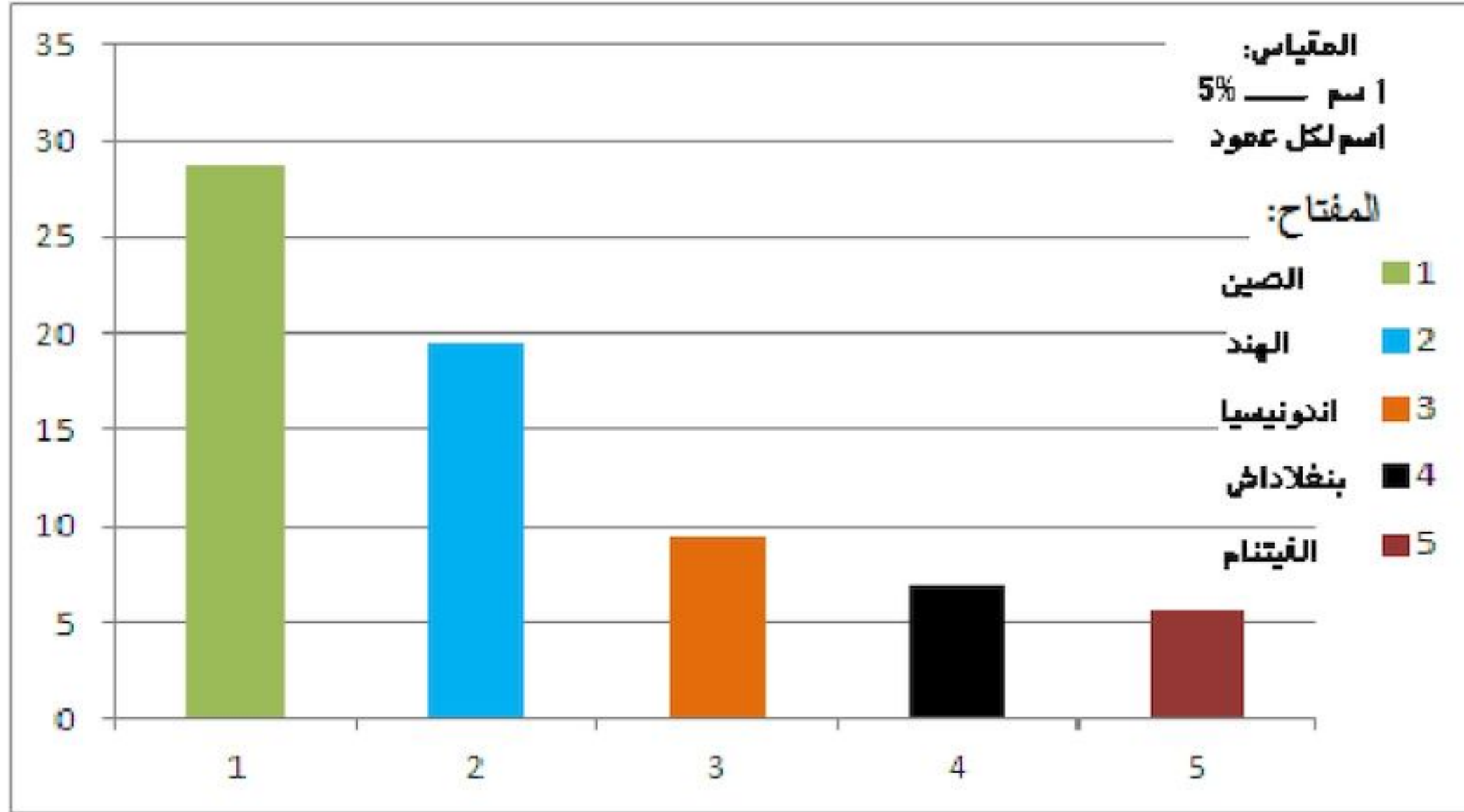
العلامة		عناصر الإجابة							
مجموع	مجزأة								
06		تاريخ : الجزء الأول (06 نقاط)							
		1- شرح المصطلحات:							
	0.75	• حركة ثورية: رد فعل شعبي تحرري شامل ، يهدف إلى تحقيق الاستقلال واسترجاع السيادة الوطنية.							
	0.75	• الانفراج الدولي : وصف لطبيعة العلاقات بين المعسكرين بعد تسوية أزمة كوبا 1962 ، حيث تخلص كل منهما عن شن حملات دعائية، مما أدى الى ذوبان الجليد ، ليسود التفاهم والتعاون مؤقتا.							
	0.75	• سندها الدبلوماسي: هو ذلك الدعم السياسي و المعنوي للثورة على الصعيد الخارجي، من خلال الجهود المبذولة من طرف ممثلي الثورة في الخارج.							
		2- التعريف بالشخصيات:							
	0.75	• المهاتما غاندي : سياسي هندي ، من مؤسسي حزب المؤتمر صاحب سياسة اللاعنف							
	0.75	• العربي بن مهيدي: (1923-1957) أحد مفجري الثورة وقائدا للمنطقة الخامسة ، أستشهد تحت التعذيب مارس 1957.							
	0.75	• ونستون تشرشل: (1874-1965) رئيس وزراء بريطانيا لفترتين ، صاحب مصطلح الستار الحديدي.							
		3- جدول الأحداث المعلمية :							
	<table><tr><th>الحدث</th><th>تاريخه</th></tr><tr><td>مشروع قسنطينة</td><td>1958/10/04</td></tr><tr><td>استقلال الهند وباكستان</td><td>1947/08/15</td></tr><tr><td>معركة ديان بيان فو</td><td>1954/05/07</td></tr></table>	الحدث	تاريخه	مشروع قسنطينة	1958/10/04	استقلال الهند وباكستان	1947/08/15	معركة ديان بيان فو	1954/05/07
الحدث	تاريخه								
مشروع قسنطينة	1958/10/04								
استقلال الهند وباكستان	1947/08/15								
معركة ديان بيان فو	1954/05/07								
	الجزء الثاني : (04 نقاط)								
	المقدمة: انتصارات الثورة الجزائرية تحققت بفضل النشاط السياسي الداخلي والدبلوماسي الخارجي الذي كان مكملا للعمل العسكري.								
	1- مظاهر النشاط السياسي على المستوى الداخلي:								
0.25	• نشر وتوزيع بيان أول نوفمبر (الأهداف والوسائل).								
0.25	• استقطاب رموز الحركة الوطنية (العلماء والنخبة...).								
0.25	• التنظيم الجماهيري (العمال. الطلبة. التجار...).								
0.25	• التنظيم المؤسساتي للثورة (المجلس الوطني للثورة. لجنة التنسيق والتنفيذ).								
0.50	• الإضرابات والمظاهرات (إضراب الثمانية ايام 1957. مظاهرات 11 ديسمبر 1960...)								
	2- الانتصارات التي حققتها الثورة على الصعيد الدبلوماسي:								
0.5	• تدويل القضية الجزائرية (الأمم المتحدة) و تصحيح صورتها لدى الرأي العام العالمي.								
0.25	• طرح القضية الجزائرية في مؤتمر باندونغ 1955، بلغراد 1961.								
0.25	• دعم القضية الجزائرية عربيا وإفريقيا (مؤتمر طابنجة. الجامعة العربية....).								
0.25	• إنشاء الحكومة الجزائرية المؤقتة و الاعتراف الدولي بها (إقناع المجتمع الدولي بشرعية الكفاح).								
0.25	• إقرار الأمم المتحدة بحق الشعب الجزائري في تقرير مصيره.								

الإجابة النموذجية لموضوع امتحان البكالوريا دورة: 2016

(الموضوع الأول)

اختبار مادة: تاريخ وجغرافيا الشعبة: لغات أجنبية المدة: 03 سا و 30 د

0.5	الخاتمة: الثورة الجزائرية نموذج حي لحركة التحرر، جمعت بين العمل المسلح والنشاط السياسي والعمل الدبلوماسي.
	ملاحظة: تقبل الإجابات الصحيحة الأخرى
06	<p>الجغرافيا :</p> <p>الجزء الأول : (06 نقاط)</p> <p>1- شرح المصطلحات:</p> <ul style="list-style-type: none"> • الشراكة: تعاون بين أطراف مختلفة ، لها أهداف مشتركة وفق اتفاقيات مبرمة. • الأسواق العالمية: مناطق التبادل التجاري على المستوى العالمي ، تعرف نشاطا كثيفا في الاستيراد والتصدير. • الاستثمار: عملية توظيف رؤوس الأموال في المشاريع المختلفة ، قصد تحقيق أرباح ، قد تكون وطنية أو أجنبية. <p>2 - أ - التمثيل البياني :</p> <ul style="list-style-type: none"> • الانجاز • العنوان • مقياس الرسم <p>ب- التعليق على الرسم البياني:</p> <ul style="list-style-type: none"> • الدول الكبرى في إنتاج مادة الأرز تنتمي إلى قارة آسيا لملاءمة الظروف الطبيعية والعادات الغذائية. • هيمنة الصين على أكبر نسبة في إنتاجه لتلبية الاستهلاك المحلي. • استحوذ الهند على نسبة معتبرة من الإنتاج لتحقيق الاكتفاء الذاتي. • التباين في الإنتاج بين الدول بسبب التفاوت في الإمكانيات . <p>الجزء الثاني : (04 نقاط)</p> <ul style="list-style-type: none"> • مقدمة: صادرات الجزائر بين عدم تنوعها وانعكاس ذلك على الاقتصاد الوطني. <p>1- طبيعة المبادلات التجارية الجزائرية:</p> <p>أ- الصادرات:</p> <ul style="list-style-type: none"> • المحروقات 98 % . • مواد متنوعة (معادن - زراعة) 1 % • منتجات مصنعة وغيرها 1 % <p>ب - الواردات :</p> <ul style="list-style-type: none"> • مواد مصنعة ونصف مصنعة. • مواد غذائية. • منتجات استهلاكية أخرى. <p>2- الانعكاسات المترتبة عن اعتماد على اقتصاد المورد الواحد:</p> <ul style="list-style-type: none"> • عدم استقرار مدا خيل الدولة . • تعرض الدولة لخطر المديونية . • إرباك الخطط التنموية . • التبعية الاقتصادية ومخاطرها . • انخفاض قيمة العملة وضعف الاستثمار المحلي. • تراجع درجة الرخاء الاجتماعي وما يصاحبه من توترات اجتماعية . • خاتمة: بإمكان الجزائر تنويع صادراتها ، تجنباً لتقلبات السوق الفجائية وضمان الاستقرار الاقتصادي. <p>(تقبل كل الإجابات الصحيحة)</p>
04	<p>0.75</p> <p>0.75</p> <p>0.75</p> <p>1.25</p> <p>0.25</p> <p>0.25</p> <p>0.5</p> <p>0.5</p> <p>0.5</p> <p>0.5</p> <p>0.5</p> <p>0.25</p> <p>0.25</p> <p>0.25</p> <p>0.25</p> <p>0.25</p> <p>0.25</p> <p>0.25</p> <p>0.5</p>



أعمدة بيانية تبرز مساهمة بعض الدول في الإنتاج العالمي للأرز سنة 2010