

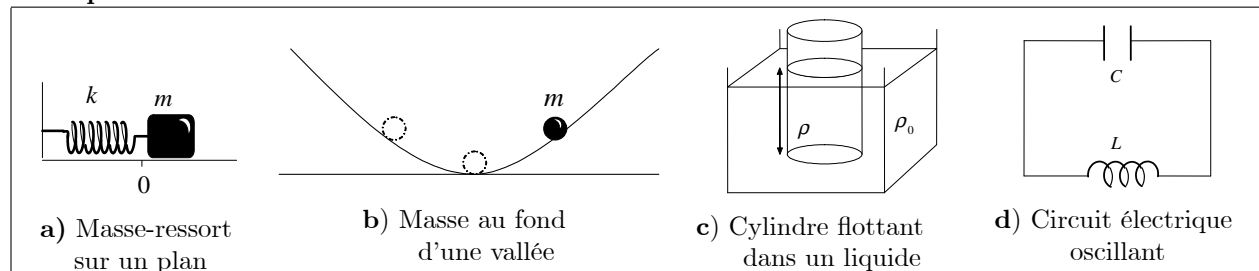
# PARTIE I. VIBRATION

## CHAPITRE 1. Généralités sur les vibrations.

### 1.1 Définition d'une oscillation (vibration)

On appelle oscillation, un mouvement qui s'effectue de **part et d'autre** d'une position d'équilibre. (Par **vibration**, on désigne les oscillations **rapides** des systèmes **mécaniques**.)

#### Exemples



### 1.2 Définition d'un mouvement périodique

Un mouvement est dit périodique s'il se répète identique à lui même pendant des intervalles de temps égaux. Le plus petit intervalle de répétition est appelé **période** (notée  $T$ , mesurée en secondes "s".) Le nombre de répétitions par seconde est appelé **fréquence** (notée  $f$ , mesurée en **Hertz** ou  $s^{-1}$ .) Elle est reliée à la période par

$$f = \frac{1}{T}. \quad (1.1)$$

Le nombre de tours par seconde est appelé **pulsation** (notée  $\omega$ , mesurée en **rad/s**.)

$$\omega = 2\pi f = \frac{2\pi}{T}, \quad (1.2)$$

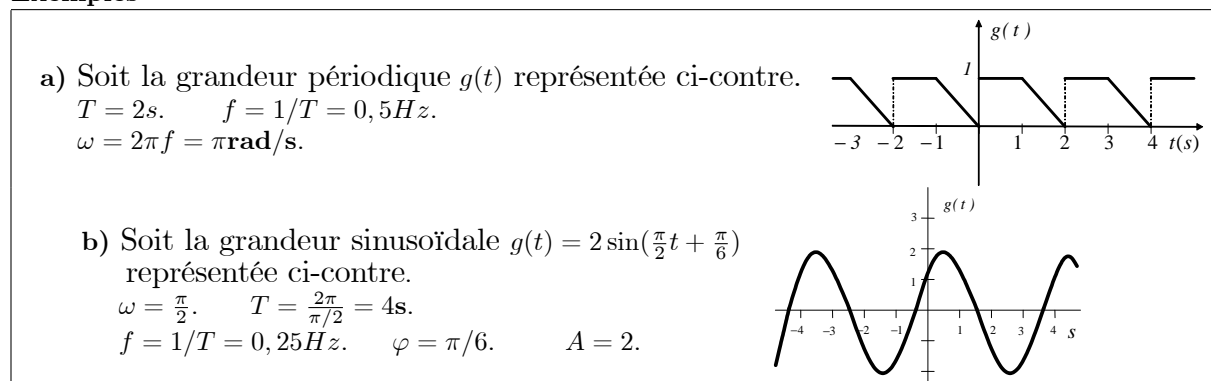
Mathématiquement, la périodicité s'exprime par  $g(t+T) = g(t)$ .

Une grandeur périodique est dite **sinusoïdale** lorsqu'elle est de la forme  $g(t) = A \sin(\omega t + \varphi)$ .  $A$  est appelée **amplitude**,  $\omega$  : la **pulsation**,  $\varphi$  : la **phase initiale**.

Parmi les grandeurs physiques étudiées des systèmes oscillants, on trouve:

- le déplacement  $x$ . • l'angle  $\theta$ . • la charge  $q$ . • le courant  $i$ . • la tension  $u$ . • un champ  $E$ .

#### Exemples



### 1.3 La représentation complexe

Pour faciliter les calculs, nous transformons les grandeurs sinusoïdales en des exponentielles qui sont plus simples à manipuler. Ceci est possible grâce à la formule d'Euler (1748)


$$\boxed{\cos \theta + j \sin \theta = e^{j\theta}} \quad (j^2 = -1). \quad (1.3)$$

#### Exemples

a) Soit le mouvement  $x(t) = x_0 \cos(3t + 5)$ .


Trouver à l'aide de la représentation complexe la vitesse  $\dot{x}(t)$  et l'accélération  $\ddot{x}(t)$ .

$$\begin{aligned} x(t) = x_0 \cos(3t + 5) &\longrightarrow \underline{x}(t) = x_0 e^{j(3t+5)} \\ \dot{x}(t) = 3x_0 \cos\left(3t + 5 + \frac{\pi}{2}\right) &\longleftarrow \underline{\dot{x}}(t) = 3jx_0 e^{j(3t+5)} = 3x_0 e^{j(3t+5+\frac{\pi}{2})} \\ \ddot{x}(t) = -9x_0 \cos(3t + 5) &\longleftarrow \underline{\ddot{x}}(t) = -9x_0 e^{j(3t+5)} \end{aligned}$$

b) Soit une résistance  $R$  et un courant  $i(t) = I_0 \cos \omega t$ . 


Trouver l'impédance complexe  $\underline{Z}_R = \frac{\underline{u}_R}{\underline{i}}$ . Rappel:  $u_R = Ri$ .

$$\begin{aligned} i(t) = I_0 \cos \omega t &\longrightarrow \underline{i}(t) = I_0 e^{j\omega t} \\ u_R(t) = Ri(t) &\longrightarrow \underline{u}_R(t) = R\underline{i} \implies \underline{Z}_R = \frac{\underline{u}_R}{\underline{i}} = \frac{R\underline{i}}{\underline{i}} \implies \boxed{\underline{Z}_R = R} \end{aligned}$$

c) Soit un condensateur et un courant  $i(t) = I_0 \cos \omega t$ . 

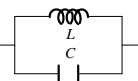
Trouver l'impédance complexe  $\underline{Z}_C = \frac{\underline{u}_C}{\underline{i}}$ . Rappel:  $u_C = \frac{q}{C} = \frac{\int i dt}{C}$ . Car  $i = \frac{dq}{dt}$ .

$$\begin{aligned} i(t) = I_0 \cos \omega t &\longrightarrow \underline{i}(t) = I_0 e^{j\omega t} \\ u_C(t) = \frac{\int i(t) dt}{C} &\longrightarrow \underline{u}_C(t) = \frac{\int \underline{i}(t) dt}{C} = \frac{\int I_0 e^{j\omega t} dt}{C} = \frac{I_0 e^{j\omega t}}{jC\omega} = \frac{\underline{i}}{jC\omega} \implies \underline{Z}_C = \frac{\underline{u}_C}{\underline{i}} = \frac{\underline{i}}{jC\omega \underline{i}} = \boxed{\frac{1}{jC\omega}} \end{aligned}$$

d) Soit une bobine  $L$  et un courant  $i(t) = I_0 \cos \omega t$ . 

Trouver l'impédance complexe  $\underline{Z}_L = \frac{\underline{u}_L}{\underline{i}}$ . Rappel:  $u_L = L \frac{di}{dt}$ .

$$\begin{aligned} i(t) = I_0 \cos \omega t &\longrightarrow \underline{i}(t) = I_0 e^{j\omega t} \\ u(t) = L \frac{di}{dt} &\longrightarrow \underline{u}(t) = L \frac{d\underline{i}}{dt} = L \frac{d(I_0 e^{j\omega t})}{dt} = jL\omega I_0 e^{j\omega t} = jL\omega \underline{i} \implies \underline{Z}_L = \frac{\underline{u}_L}{\underline{i}} = \frac{jL\omega \underline{i}}{\underline{i}} = \boxed{jL\omega} \end{aligned}$$

e) Trouver l'impédance  $\underline{Z}$  du circuit ci-contre: 

Comme les deux éléments sont en parallèle, on a:  $\underline{Z} = \frac{\underline{Z}_L \underline{Z}_C}{\underline{Z}_L + \underline{Z}_C} = \frac{jL\omega \cdot \frac{1}{jC\omega}}{jL\omega + \frac{1}{jC\omega}} = \frac{jL\omega}{1 - LC\omega^2}$ .

### 1.4 Superposition des grandeurs périodiques

L'addition de deux ou plusieurs grandeurs de même nature est appelée superposition.

#### 1.4.1 Grandeurs sinusoïdales de même pulsation

La superposition de deux grandeurs sinusoïdales de même pulsation  $\omega$  est une grandeur **sinusoïdale** de pulsation  $\omega$ .

### Exemples

a) Soit les deux grandeurs sinusoïdales :  $g_1(t) = a \cos(\omega t + \varphi_1)$  et  $g_2(t) = b \cos(\omega t + \varphi_2)$ .  
 Utilisons la représentation complexe pour trouver  $(g_1 + g_2)(t)$ .  

$$g_1(t) + g_2(t) = a \cos(\omega t + \varphi_1) + b \cos(\omega t + \varphi_2) \longrightarrow ae^{j(\omega t + \varphi_1)} + be^{j(\omega t + \varphi_2)} = (ae^{j\varphi_1} + be^{j\varphi_2}) e^{j\omega t}$$

$$= Ae^{j\Phi} e^{j\omega t}$$

$$(g_1 + g_2)(t) = A \cos(\omega t + \Phi) \longleftarrow = Ae^{j(\omega t + \Phi)}.$$

Ceci est bien une grandeur sinusoïdale de pulsation  $\omega$ .

L'amplitude est  $A = |(ae^{j\varphi_1} + be^{j\varphi_2}) e^{j\omega t}| = \sqrt{(ae^{j\varphi_1} + be^{j\varphi_2})(ae^{-j\varphi_1} + be^{-j\varphi_2})}$   

$$= \sqrt{a^2 + b^2 + 2ab \cos(\varphi_1 - \varphi_2)}.$$

La phase  $\Phi$  est donnée par  $\tan \Phi = \frac{\text{Im}(ae^{j\varphi_1} + be^{j\varphi_2})}{\text{Re}(ae^{j\varphi_1} + be^{j\varphi_2})} = \frac{a \sin \varphi_1 + b \sin \varphi_2}{a \cos \varphi_1 + b \cos \varphi_2}$ .

$Ae^{j\Phi}$  est appelée amplitude complexe et notée  $\underline{A}$

b) Soit les deux grandeurs sinusoïdales :  $g_1(t) = \sqrt{2} \cos(3t - \frac{\pi}{4})$  et  $g_2(t) = \sin(3t + \pi)$ .

La superposition est

$$\sqrt{2} \cos(\omega t - \frac{\pi}{4}) + \sin(\omega t + \pi) \longrightarrow \sqrt{2} e^{j(\omega t - \frac{\pi}{4})} + e^{j(\omega t + \pi - \frac{\pi}{2})}$$

$$= (\sqrt{2} e^{-j\frac{\pi}{4}} + e^{j\frac{\pi}{2}}) e^{j\omega t}$$

$$\cos(\omega t) \longleftarrow = 1 \cdot e^{j\omega t}$$

Donc,  $A = 1$ .  $\Phi = 0$ .

### 1.4.2 Grandeurs sinusoïdales de même *amplitude*

La superposition de deux grandeurs sinusoïdales de même **amplitude** est une grandeur sinusoïdale à amplitude **modulée** si les deux pulsations sont **différentes**.

#### Exemple

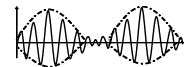
Soit les deux grandeurs sinusoïdales:  $g_1(t) = a \cos \omega_1 t$  ,  $g_2(t) = a \cos \omega_2 t$ .

La superposition est:  $g_1(t) + g_2(t) = a \cos \omega_1 t + a \cos \omega_2 t = \underbrace{2a \cos\left(\frac{\omega_1 - \omega_2}{2} t\right)}_{\text{Amplitude modulée (variable)}} \cos\left(\frac{\omega_1 + \omega_2}{2} t\right)$ .  
↑  
Pulsation résultante

**Remarque:** Lorsque  $\omega_1 \approx \omega_2$  :  $\frac{\omega_1 - \omega_2}{2}$  est très faible, alors  $2a \cos(\frac{\omega_1 - \omega_2}{2} t)$  constitue une

enveloppe à la composante plus rapide  $\cos(\frac{\omega_1 + \omega_2}{2} t)$ .

C'est le phénomène de **battement**.



### 1.4.3 Grandeurs sinusoïdales *quelconques*

La superposition de deux grandeurs sinusoïdales de pulsations **différentes**  $\omega_1$  et  $\omega_2$  ne sera une grandeur périodique **que si** le rapport entre leur périodes est un nombre **rationnel**:  $T_1/T_2 = n/m$ . La période résultante est le plus petit multiple commun:  $T = mT_1 = nT_2$ .

#### Exemples

a) Soit les deux grandeurs sinusoïdales :  $g_1(t) = 5 \cos(5t + 2)$ ,  $g_2(t) = 2 \cos(7t + 3)$ .

Leur superposition est  $5 \cos(5t + 2) + 2 \cos(7t + 3)$ .

Comme  $\frac{T_1}{T_2} = \frac{2\pi/5}{2\pi/7} = \frac{7}{5} = \frac{n}{m}$  est un nombre rationnel ( $n = 7, m = 5$ ), la superposition

est une grandeur périodique de période  $T = m \times \frac{2\pi}{5} = n \times \frac{2\pi}{7} = 2\pi$ s.

b) Soit les deux grandeurs sinusoïdales :  $g_1(t) = 5 \cos(5\pi t + 2)$ ,  $g_2(t) = 2 \cos(7t + 3)$ .

Leur superposition est  $5 \cos(5\pi t + 2) + 2 \cos(7t + 3)$ .

Comme  $\frac{T_1}{T_2} = \frac{2\pi/5\pi}{2\pi/7} = \frac{7}{5\pi}$  n'est pas rationnel, la superposition n'est pas périodique.

## 1.5 Définition des séries de Fourier

Il est possible d'exprimer une grandeur périodique par une somme de sinus et de cosinus qui sont plus simples à manipuler physiquement et mathématiquement. Cette somme est appelée **série de Fourier** (1807).

La série de Fourier d'une fonction  $f(t)$  périodique de période  $T$ , est définie par:

$$f(t) = a_0 + \sum_{n=1}^{\infty} a_n \cos(n\omega t) + \sum_{n=1}^{\infty} b_n \sin(n\omega t). \quad (1.4)$$

- Le  $a_0$ , les  $a_n$ , et les  $b_n$  sont appelés les **coefficients** de Fourier.
- La pulsation  $\omega = \frac{2\pi}{T}$  est appelée la pulsation **fondamentale**.
- Les pulsations supérieures  $n\omega$  (multiples de  $\omega$ ) sont appelées les **harmoniques**.
- Les coefficients de Fourier sont définis par:

$$a_0 = \frac{1}{T} \int_0^T f(t) dt, \quad a_n = \frac{2}{T} \int_0^T f(t) \cos(n\omega t) dt, \quad b_n = \frac{2}{T} \int_0^T f(t) \sin(n\omega t) dt. \quad (1.5)$$

- Le graphe de  $a_n$  et  $b_n$  (et parfois  $\sqrt{a_n^2 + b_n^2}$ ) en fonction de  $n\omega$  est appelé le **spectre** de la fonction.

### 1.5.1 Cas des fonctions paires et impaires

- **Fonctions paires:** Une fonction est dite paire si  $f(-t) = f(t)$ .

Dans la série de Fourier des fonctions paires, il n'y a que les termes en **cosinus** et parfois la **constante**  $a_0$  qui est la valeur moyenne de la fonction:  $b_n = 0$ .

- **Fonctions impaires:** Une fonction est dite impaire si  $f(-t) = -f(t)$ .

Dans la série de Fourier des fonctions impaires, il n'y a que les termes en **sinus**:  $a_0 = a_n = 0$ .

### Exemple

1. La période de la fonction est  $T=2s$ .

$$2. a_0 = \frac{1}{T} \int_0^T f(t) dt = \frac{1}{2} \left[ \int_0^1 1 dt + \int_1^2 (-t+2) dt \right] = \frac{3}{4}.$$

$$a_n = \frac{2}{T} \int_0^T f(t) \cos \frac{2\pi n t}{T} dt = \frac{2}{2} \left[ \int_0^1 \cos \pi n t dt + \int_1^2 (-t+2) \cos \pi n t dt \right]$$

$$= \frac{\cos \pi n - 1}{\pi^2 n^2} = \frac{(-1)^n - 1}{\pi^2 n^2} = \begin{cases} 0 & \text{si } n \text{ est pair.} \\ \frac{-2}{\pi^2 n^2} & \text{si } n \text{ est impair.} \end{cases}$$

$$b_n = \frac{2}{T} \int_0^T f(t) \sin \frac{2\pi n t}{T} dt = \frac{2}{2} \left[ \int_0^1 \sin \pi n t dt + \int_1^2 (-t+2) \sin \pi n t dt \right] = \frac{1}{\pi n}.$$

Donc la série de Fourier est,  $f(t) = \frac{3}{4} + \sum_{n=1}^{\infty} \frac{(-1)^n - 1}{\pi^2 n^2} \cos n\omega t + \sum_{n=1}^{\infty} \frac{1}{\pi n} \sin n\omega t$

Le spectre de  $f(t)$  sera pris comme étant le graphe des  $a_n$  et  $b_n$  en fonction de  $n\omega$ .

