

<p>Université Mohammed FACULTE DES SCIENCES RABAT</p> <p><u>EXAMENS</u></p> <p>Centre (Fac Centre / An. 1 / An. 2)</p> <p>Salle / Amphi. :</p> <p>Date :</p>	<p>NOM :</p> <p>Prénom :</p> <p>Né(e) le :/..../..... à</p> <hr/> <p>..... année du cycle de :</p> <p>Epreuve de :</p>	<p>N° d'examen</p> <p>.....</p> <hr/> <p>NOTE</p>
--	---	---

IMPORTANT : Sous peine d'annulation de sa copie, l'étudiant(e) ne doit omettre aucun des renseignements demandés ci-dessus et doit signer lisiblement à la fin de sa composition

Filière SMC4 - M22

Cristallographie et cristalochimie I

Corrigé contrôle finale 2015-16

Durée 1h30

* Aucun document n'est permis
 * Les GSM et les calculatrices programmables sont strictement interdits,
 * La copie d'examen doit être bien soignée: écriture lisible, figures propres et claires avec axes et légendes.

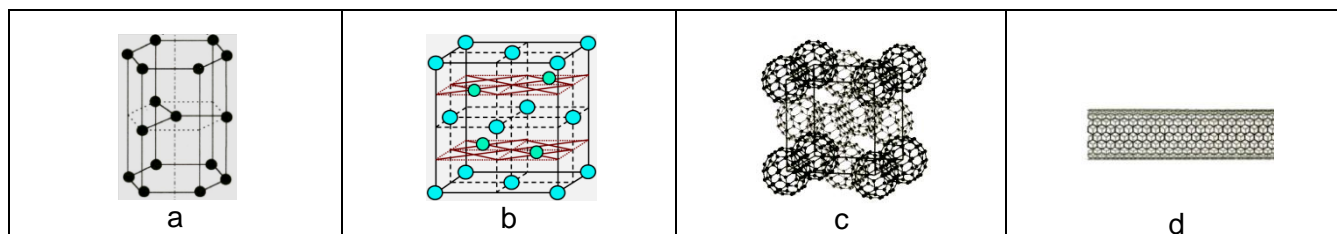
I- questions de cours / 3,5 Points

1- Quelles sont les différents types de liaisons que l'on peut trouver dans les cristaux solides ? Parmi ces liaisons quelles sont celles qui existent dans tous les types de composés solides, liquides ou gaz ?

- les liaisons métalliques, les liaisons ioniques, les liaisons covalentes, les liaisons hydrogène et les liaisons de Van Der Waals.

Les liaisons de Van Der Waals existent dans tous les types de composés solides, liquides ou gaz.

2- Identifier les variétés allotropiques du carbone suivantes, préciser la nature de toutes des liaisons qui assurent la cohésion du cristal, l'état d'hybridation et la coordinence des atomes de carbone?



4 variétés allotropiques du carbone			
	Identification	Nature des liaisons	Etat d'hybridation / Coordinence
a	carbone graphite structure covalente bidimensionnelle	- liaisons covalentes à l'intérieur des plans, - liaisons Van Der Waals entre les plans.	C hybridé sp^2 Coordinence: 3
b	carbone diamant structure covalente tridimensionnelle	liaisons covalentes tridimensionnelles	C hybridé sp^3 Coordinence: 4
c	Fullerène C60 de structure moléculaire. La molécule C60 est composée d'anneaux hexagonaux liés contenant des anneaux pentagonaux. La molécule a une structure similaire à un ballon de foot et occupe les nœuds d'un réseau CFC.	- liaisons covalentes à l'intérieur des molécules C60, - liaisons Van der Waals entre les molécules. C60.	C hybridé sp^2 Coordinence: 3
d	Nanotube de carbone: feuillet graphitique replié sur lui-même.	- liaisons covalentes à l'intérieur des tubes, - liaisons Van Der Waals entre les tubes.	C hybridé sp^2 Coordinence: 3

II Etude du cobalt métallique / 7 Points

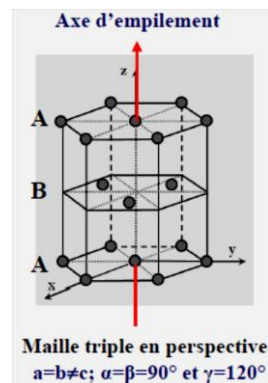
Le cobalt métallique présente 2 variétés allotropiques, la variété $\text{Co}\alpha$ hexagonale compacte et la variété $\text{Co}\beta$ cubique à faces centrées.

Pour la variété hexagonale $\text{Co}\alpha$:

- 1- Donner la relation entre les paramètres a , b et c et les angles α , β , γ .
- 2- Représenter la maille triple en perspective.
- 3- Sur la maille représenter la direction d'empilement et la succession des plans compacts.
- 4- Donner la projection sur le plan (xoy) .
- 5- Déterminer la coordinence du cobalt.
- 6- Calculer la multiplicité de la maille triple (détailler le calcul).
- 7- Calculer les paramètres a et c de la maille.
- 8- Calculer la masse volumique ρ_α de $\text{Co}\alpha$.
- 9- La masse volumique de la variété CFC étant $\rho_\beta = 8,86 \text{ g/cm}^3$, comparer et discuter.

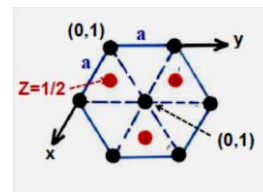
Données: Rayon Co: $r = 1,25 \text{ \AA}$, Masse molaire de Co = $58,93 \text{ g/mol}$, Nombre d'Avogadro = $6,02 \cdot 10^{23}$

1-, 2-, 3-, 4- :



Maille triple en perspective

● : Co



Projection sur le plan xoy

5- Coordinence du cobalt = $6 + 3 + 3 = 12$

6- multiplicité de la maille triple: $m = 3 + 12 \times \frac{1}{6} + 2 \times \frac{1}{2} = 6$

7- Calcul de a et c :

Dans l'HC les atomes étant tangents selon l'arête a :

$$a = 2r = 2 \times 1,25 = 2,5 \text{ \AA}$$

$$c/a = \sqrt{8/3} \Rightarrow c = a\sqrt{8/3} = 2,5 \times 1,633 = 4,0825 \text{ \AA}$$

8- Calcul de la masse volumique (Masse molaire de Co = $58,93 \text{ g/mol}$)

$$\rho_\alpha = \frac{z M_{\text{Co}}}{N V_{\text{maille}}} = \frac{z \times M_{\text{Co}}}{6,02 \cdot 10^{23} a^2 c \sin 120^\circ}$$

$$\rho_\alpha = \frac{6 \times 58,93}{6,02 \cdot 10^{23} \times 3 \times 2,5^2 \times 4,0825 \cdot 10^{-24} \sin 120^\circ} = 8,86 \text{ g/cm}^3$$

9- $\rho_\alpha = \rho_\beta$

III Etude de la structure ZnS blende / 9,5 Points

ZnS blende cristallise avec une structure cubique. Les coordonnées réduites étant:

S^{2-} : (0 0 0) (1/2 1/2 0) (1/2 0 1/2) (0 1/2 1/2)

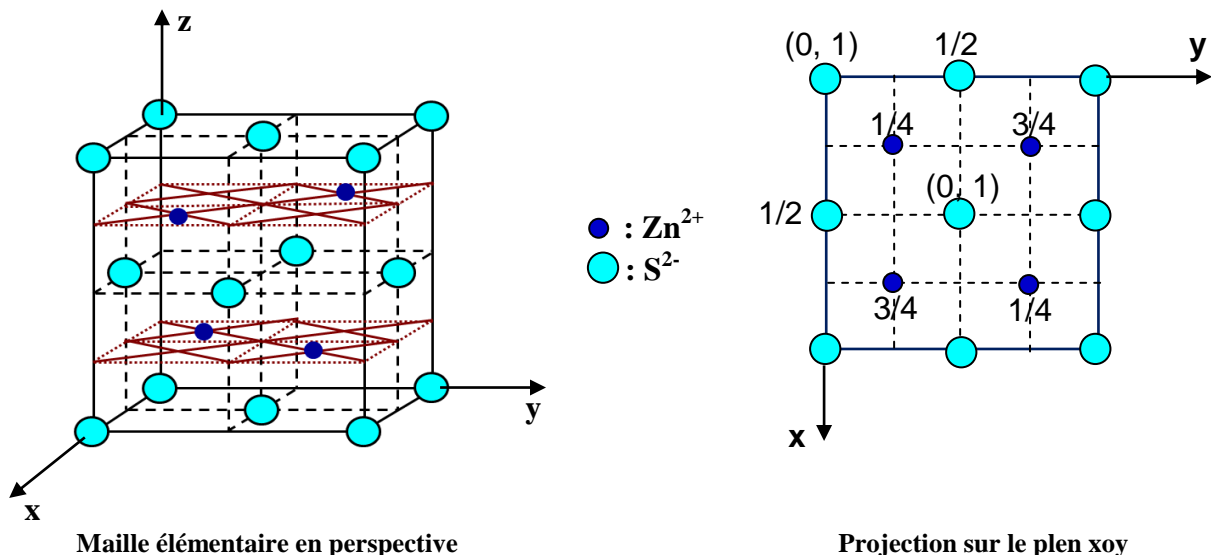
Zn^{2+} : (1/4 1/4 1/4) (3/4 3/4 1/4) (1/4 3/4 3/4) (3/4 1/4 3/4)

- 1- Quelle est la nature de la liaison dans ZnS blende ?
- 2- Représenter la maille élémentaire en perspective et donner sa projection sur le plan xoy.
- 3- Quel est le mode de réseau formé par les anions et les cations ?
- 4- Quel est la nature des sites occupés par le zinc ? Comment se répartissent les ions Zn^{2+} dans ces sites? Quelle est la coordinence des ions Zn^{2+} et S^{2-} ?
- 5- Calculer le nombre de motifs par maille (détailler le calcul).
- 6- Donner la relation générale de l'énergie réticulaire d'un cristal ionique selon le modèle électrostatique de Born-Landé.
- 7- Calculer l'énergie réticulaire de ZnS blende dans ce modèle.
- 8- Sachant que le zinc et le soufre sont des solides monoatomiques dans les conditions standards, établir un cycle de Born-Haber.
- 9- En déduire l'énergie réticulaire de ZnS blende.
- 10- Comparer et discuter les résultats obtenus par les deux méthodes.

Données numériques	Données thermodynamiques
Paramètre de maille de ZnS: $a=5.40\text{\AA}$	$\Delta H_f^\circ(\text{ZnS}) = -206 \text{ KJ/mole}$
Facteur de Landé: $n = 9$	$\Delta H_{\text{sub}}^\circ(\text{Zn}) = 123 \text{ KJ/mole}$ $\Delta H_{\text{sub}}^\circ(\text{S}) = 278.8 \text{ KJ/mole}$
$\frac{e^2 N}{4\pi\epsilon_0} = 332.326 \text{ Kcal/mole}$	$\text{Zn(g)} \rightarrow \text{Zn}^{2+}(\text{g}) + 2e$ $\Delta H_i^\circ = 2268.8 \text{ KJ/mole}$
Constante de Madelung: $M=1.638$	$\text{S(g)} + 2e \rightarrow \text{S}^{2-}(\text{g})$ $\Delta H_a^\circ = 610.8 \text{ KJ/mole}$
	1 Calorie = 4.18 Joule

1- La liaison Zn-S est ionique avec un caractère covalent non important.

2- Représentation de la maille ZnS blende



3- les anions et les cations forment 2 sous réseaux CFC décalés l'un de l'autre de $1/4$ selon la diagonale du cube cad par une translation de type $(1/4 \ 1/4 \ 1/4)$.

4- Nature des sites occupés par Zn^{2+} : sites tétraédriques formés par S^{2-} .

- Zn^{2+} occupe 50% des sites [4] en quinconce.
- Coordination de $\text{Zn}^{2+} = 4$
- Coordination de $\text{S}^{2-} = 4$

5- Nombre de motifs ZnS par maille :

Nombre de $(\text{Zn}^{2+}) = 4$

Nombre de $(\text{S}^{2-}) = 8 \times 1/8 + 6 \times 1/2 = 4$

Donc $z = 4$ motifs ZnS/maille

6- Relation de l'énergie réticulaire dans le modèle électrostatique de Born-Landé.

$$E_{\text{ret}} = \frac{z z' e^2 M N}{4 \pi \epsilon_0 d_i} \left(1 - \frac{1}{n} \right)$$

Avec:

z, z' : valeurs absolues des charges portées par l'anion et le cation,

e : charge d'un électron,

ϵ_0 : permittivité du vide,

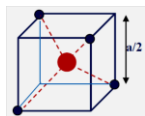
N : nombre d'Avogadro,

M : constante de Madelung,

n : facteur de Landé,

d_i : distance interionique cation-anion dans le cristal.

7- Calcul de l'énergie réticulaire dans ce modèle.

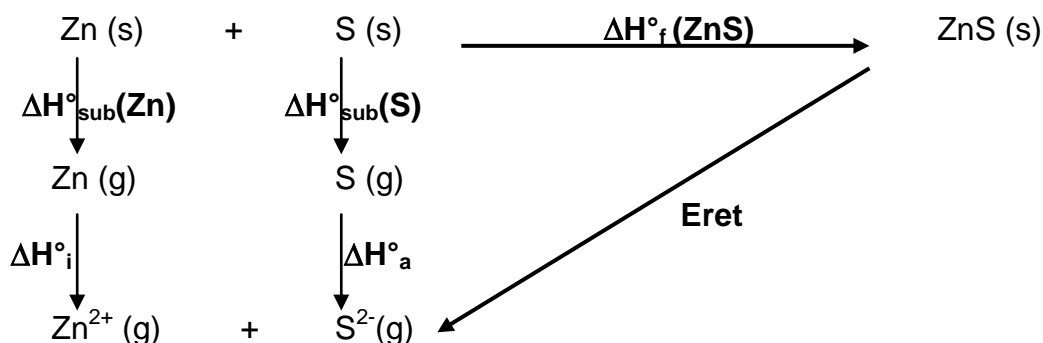


$$d_i = a\sqrt{3}/4 = 5.40 \times \sqrt{3}/4 = 2.34 \text{ \AA}$$

$$z = z' = 2$$

$$E_{\text{ret}} = \frac{2 \times 2 \times 332.326 \times 1.638}{2.34} \left(1 - \frac{1}{9} \right) = 827.12 \text{ Kcal/mole}$$

8- Cycle de Born-Haber.



9- Loi de Hess: $E_{\text{ret}} = -\Delta H_f^\circ(\text{ZnS}) + \Delta H_{\text{sub}}^\circ(\text{Zn}) + \Delta H_{\text{sub}}^\circ(\text{S}) + \Delta H_i^\circ + \Delta H_a^\circ$

$$E_{\text{ret}} = 206 + 123 + 278.8 + 2268.8 + 610.8 = 3487.4 \text{ KJ/mole}$$

$$E_{\text{ret}} = 834.3 \text{ Kcal/mole}$$

10- La différence entre les 2 valeurs reflète le caractère iono-covalent de la liaison Zn-S.