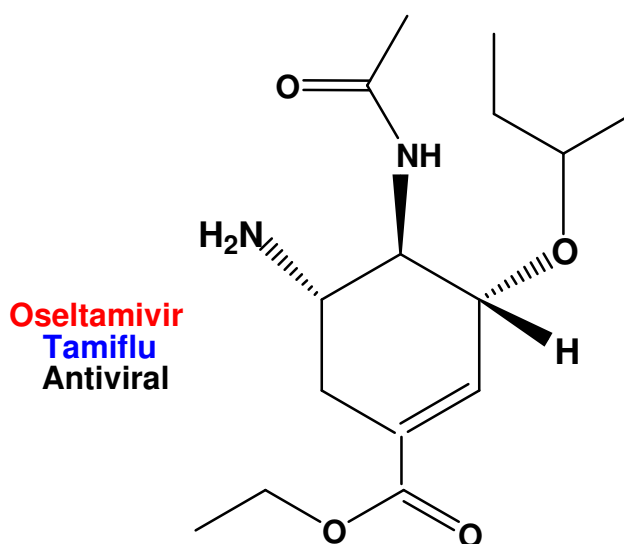
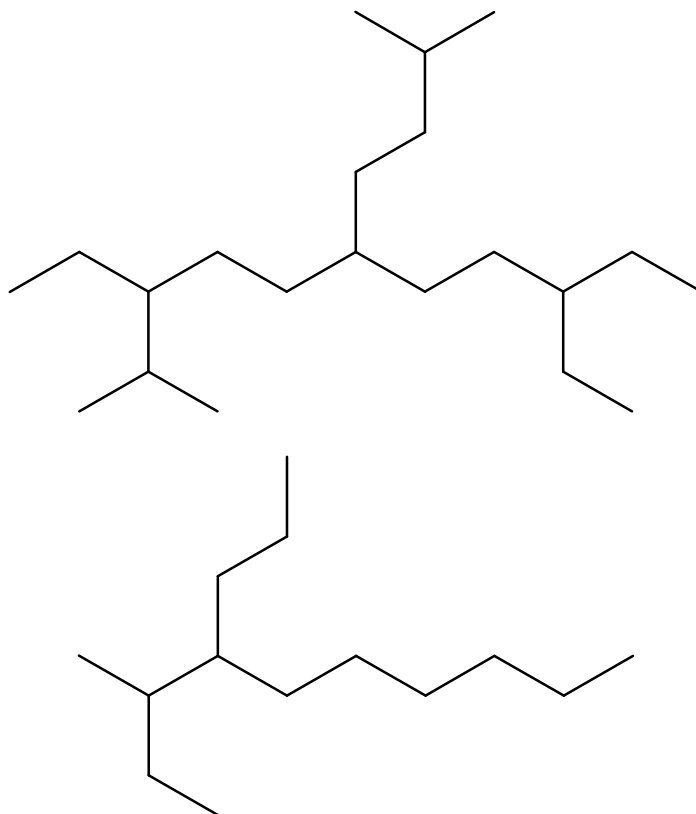


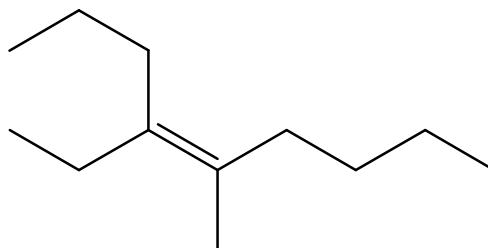
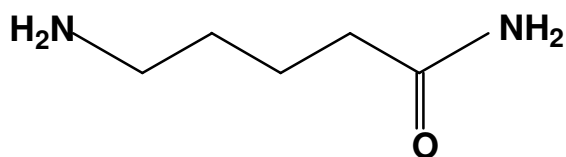
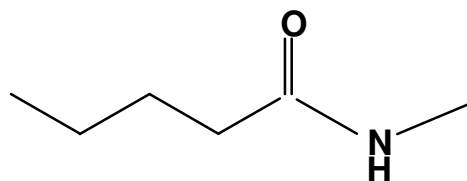
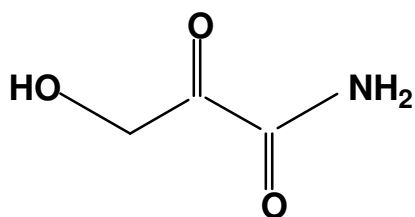
*Travaux dirigés (2015-2016)***Exercice n°1**

Encerclez et nommez les groupements fonctionnels présents dans la molécule suivante :

**Exercice n°2**

Nommer les molécules suivantes selon les règles de Nomenclature IUPAC :



**Exercice n°3**

Donner les formules topologiques des molécules suivantes :

- 1) 5-amino hexan-2-ol
- 2) Acide oct-5-énoïque
- 3) Acide 4-oxopentanoïque
- 4) Acide 6-amino 2-chloro 4-hydroxy hexanoïque