


**Question I: 18 points**

1- Titrer et légender le schéma représentant la structure A.




Structure A :

2- Quel est le rôle essentiel de la structure A, quelle est son origine et sa localisation dans la plante ?

- 
- 
- 

3- Sachant que les structures A et B sont prélevées dans la même plante, titrer et légender le schéma représentant la structure B en précisant son stade de croissance.






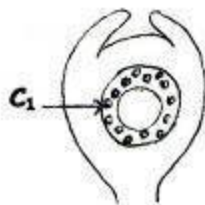
Structure B :

4- représenter sous forme d'un seul schéma titré et légendé la structure B à un stade de croissance beaucoup plus avancé.

**Question II : 9 points**

Compléter le tableau suivant :

	Nom du tissu	Origine	Localisation dans la plante et l'organe	Rôle (s)	Etat des cellules	Nature de la paroi
						
						
						

**Question III : 7 points**Titrer et légender la structure C, montrer le devenir de C<sub>1</sub> sous forme d'un seul schéma légendé.

Structure C :

**Question IV : 6 points**

Citer trois (3) caractères distinctifs et quatre (4) caractères communs les plus importants des deux (2) sous-embranchements ou sous-phylums (X et Y) étudiés.

	X :	Y :
Distinctifs	- - -	- - -
Communs	- - - -	