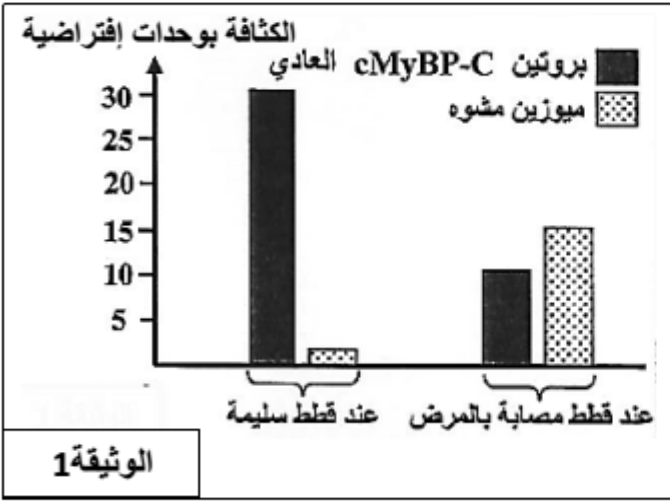


التمرين الأول:

تضخم عضلة القلب مرض وراثي يصيب الإنسان وبعض الحيوانات كالقطط ، ويتميز بتضخم غير عاد لعضلة القلب واضطرابات في نشاطه . لتحديد سبب هذا المرض عند نوع من القطط يدعى Maine Coon ، نفترح دراسة المعطيات التالية :

- من بين البروتينات المشكلة لساركوميرات العضلة (الوحدة الوظيفية للعضلة) نجد بروتين cMyBp-C، وهو جزيئة مرنة ترتبط بخيطي الميوزين والاكيتين (المكونين للساركومير) وتضمن التقلص العادي لعضلة القلب. بينت التحاليل أن القطط المصابة بتضخم عضلة القلب تتركب بروتينا cMyBp-C هشاً يخضع للتفكيك مباشرة بعد تركيبه ، مما يؤدي إلى تشوه خيوط الميوزين. مكنت دراسة كثافة البروتين cMyBp-C العادي والميوزين المشوه في خلايا عضلة القلب عند قطط سليمة وأخرى مصابة بالمرض من الحصول على النتائج الممثلة في الوثيقة 1.



1 - بالاعتماد على معطيات الوثيقة 1 ، قارن النتائج المحصل عليها عند القطط السليمة بتلك المحصل عليها عند القطط المصابة بالمرض.

- تتحكم في تركيب بروتين cMyBp-C مورثة تدعى MyBpC3 . تمثل الوثيقة 2 تتابع نيكليوتيدات لجزء من هذه المورثة عند كل من قط سليم وقط مصاب بتضخم عضلة القلب ، وتمثل الوثيقة 3 جدول الشفرة (الرامزة) الوراثية.

جزء من الأليل المعبر لمورثة MyBpC3 (الأليل العادي) ...GTG 28 29 30 31 32 33 34
TTC GAG GCC GAG ACA GAG ...
جزء من الأليل المعبر لمورثة MyBpC3 (الأليل الطافر) ...GTG 28 29 30 31 32 33 34
TTC GAG CCC GAG ACA GAG ...
اتجاه القراءة →

الوثيقة 2								الرمازات
CCA	TTC	GGA	GCA	GAA	GTA	ATT	ACA	
CCG	TTT	GGG	GCG	GAG	GTG	ATC	ACG	
CCT		GGT	GCT	GAT		ACT		
CCC		GGC	GCC	GAC				
Gly	Lys	Pro	Arg	Leu	His	بدون معنى	Cys	الأحماض الأمينية

الوثيقة 3

2 - حدد تتابع الأحماض الأمينية المطابقة لكل من جزء الأليل العادي وجزء الأليل الطافر.

3 - اعتمادا على إجابتك على السؤالين السابقين ، فسر الإصابة بمرض تضخم القلب عند قطط Maine Coon.

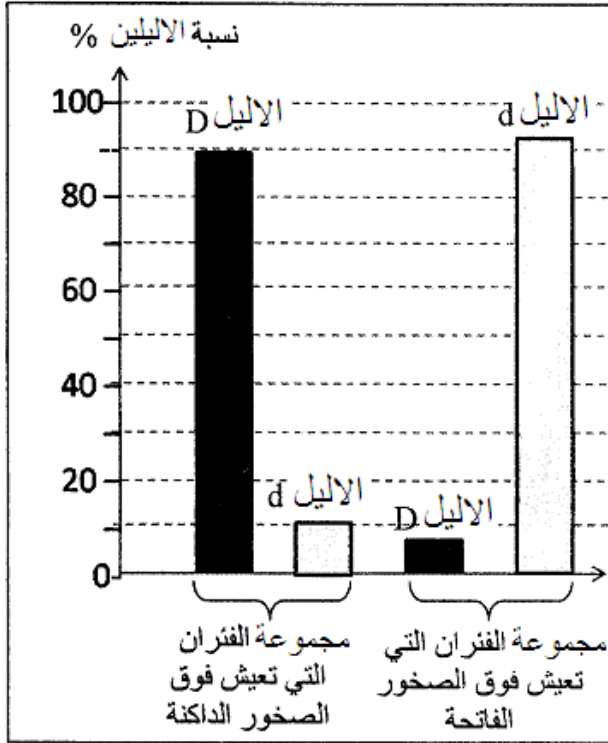
التمرين الثاني:

في جنوب أريزونا بالولايات المتحدة الأمريكية تعيش فئران من النوع *Chaetodipus intermedius* تتميز بوجود مظهرين خارجيين أحدهما داكن اللون والآخر فاتح اللون. تتحكم مورثة باليلين في لون الزغب عند هذه الفئران :

- اليل D مسؤول عن اللون الداكن للزغب؛

- اليل d مسؤول عن اللون الفاتح للزغب.

تُعتبر البومة الصمعاء المفترس الرئيسي لهذه الفئران حيث تتعرف على لون الفئران رغم أن هذه البومة تصطاد ليلاً. تم إحصاء هذه الفئران في منطقتين صخريتين جنوب ولاية أريزونا. تتميز إحدى هذه المناطق بصخور داكنة وتتميز الأخرى بصخور فاتحة. تمثل الوثيقة 2 جدولاً لتوزيع المظاهر الخارجية لسكانتي الفئران المدروسة في هاتين المنطقتين الصخريتين، وتمثل الوثيقة 3 نسب الأليلين D و d عند هاتين السابكتين.



المنطقة	منطقة الصخور الفاتحة	منطقة الصخور الداكنة
المظهر الخارجي	10	2
عدد المظاهر الفاتحة	1	16
عدد المظاهر الداكنة		

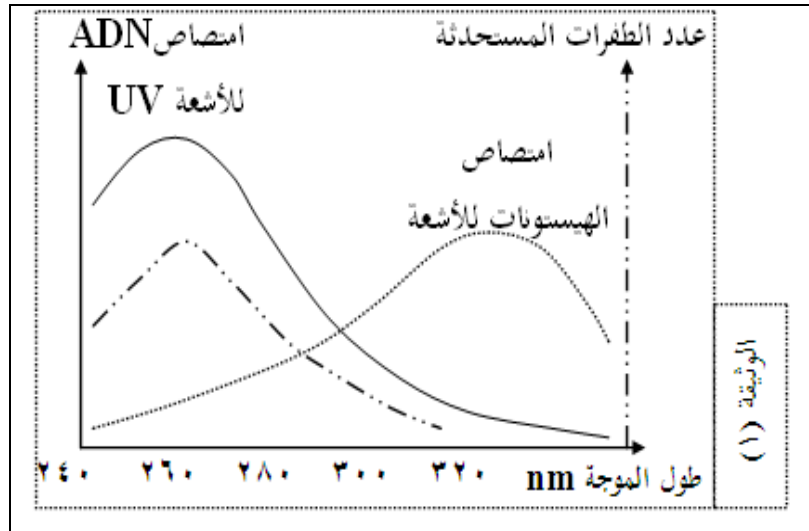
الوثيقة 2

3. قارن توزيع المظاهر الخارجية للفئران (الوثيقة 2)، ثم قارن توزيع نسب الأليلات في المنطقتين الصخريتين (الوثيقة 3).

4. بين من خلال هذا المثال، أن الوسط يمارس انتقاءً على كل من المظاهر الخارجية وعلى نسب الأليلات.

التمرين الثالث:

قد لا يكون التنوع البيولوجي حاصل وظائف طبيعية بل قد تتدخل عوامل خارجية في حدوثه. نقدم في الوثيقة (1) معطيات حول هذه النقطة.



أ- تنطلق الدراسة في الوثيقة من علاقة المورثة بالصفة. بين هذه العلاقة في شرح موجز.

ب- هل تؤكد النتائج في الوثيقة العلاقة المذكورة في السؤال (أ)؟ كيف ذلك؟

ج- من الوثيقة ومعارفك حول الطفرات كيف تتدخل هذه الأخيرة في التنوع البيولوجي للأفراد؟

بركة العلم..... أين هي؟ صدق من قال: " كانت الكتب قليلة والعلم كثير ، واليوم الكتب كثيرة والعلم قليل "

1 - مقارنة النتائج المحصل عليها :

- انخفاض كثافة البروتين cMyBp-C (10 وحدة افتراضية) وارتفاع كثافة الميوزين المشوه عند القطط المريضة (15 وحدة افتراضية)، بالمقارنة مع القطط السليمة يرتفع لديها كثافة البروتين cMyBp-C (30 وحدة افتراضية) وتنخفض كثافة الميوزين المشوه (2 وحدة افتراضية).

2 - تحديد تتابع الأحماض الأمينية المطابقة لكل من جزء الأليل العادي وجزء الأليل الطافر:

- حالة الأليل العادي
His-Lys-Leu-Arg-Leu-Cys-Leu
- حالة الأليل الطافر :
His-Lys-Leu-Gly-Leu-Cys-Leu

3 - تفسير الإصابة بمرض تضخم القلب عند قط Maine Coon:

- حدوث طفرة تتمثل في استبدال G بـ C في الثلاثية (الرامزة) رقم 31 من سلسلة ADN المعبرة نجم عنها استبدال الحمض الأميني Arg بـ Gly مما أدى إلى تركيب بروتين cMyBp-C هش يتفكك مما أدى إلى الإصابة بمرض المهق

الوثيقة 2:

- في منطقة الصخور الفاتحة: عدد الفئران ذات المظهر الخارجي الفاتح يفوق بكثير عدد الفئران ذات المظهر الخارجي الداكن.....
- في منطقة الصخور الداكنة: عدد الفئران ذات المظهر الخارجي الداكن يفوق بكثير عدد الفئران ذات المظهر الخارجي الفاتح.....

الوثيقة 3:

- في منطقة الصخور الفاتحة: نسبة الحليل d المسؤول عن اللون الفاتح مرتفعة مقارنة مع الحليل D المسؤول عن اللون الداكن.....
- في منطقة الصخور الداكنة: نسبة الحليل D المسؤول عن اللون الداكن مرتفعة مقارنة مع الحليل d المسؤول عن اللون الفاتح.....

- في منطقة الصخور الفاتحة: تكون الفئران ذات المظهر الخارجي الداكن أكثر عرضة للافتراض من طرف البومة الصمعاء بعكس الفئران ذات المظهر الفاتح، مما يؤدي إلى ارتفاع عدد الفئران ذوي المظهر الخارجي الفاتح؛

إذن الوسط يمارس انتقاء تفضيلياً (إيجابياً) بالنسبة لهذا المظهر وبالتالي ارتفاع تردد الحليل d المسؤول عن اللون الفاتح.....

- في منطقة الصخور الداكنة: تكون الفئران ذات المظهر الخارجي الفاتح أكثر عرضة للافتراض من طرف البومة الصمعاء بعكس الفئران ذات المظهر الداكن مما يؤدي إلى ارتفاع عدد الفئران ذوي المظهر الخارجي الداكن؛

إذن الوسط يمارس انتقاء تفضيلياً بالنسبة لهذا المظهر ← ارتفاع تردد الحليل D المسؤول عن اللون الداكن.....

أ- المورثة تصنع بروتين على المستوى الجزيئي مسؤول بدوره فنتج صفة.

ب- نعم لأن امتصاص ADN لـ UV يسبب زيادة الطفرات التي هي صفات مستحدثة ولا يسبب امتصاص البروتين مباشرة لـ UV طفرات.

ج - حدوث الطفرات يسمح بظهور صفات لم تكن موجودة ثم تصبح متوارثة فتزيد من تنوع صفات الأفراد.